

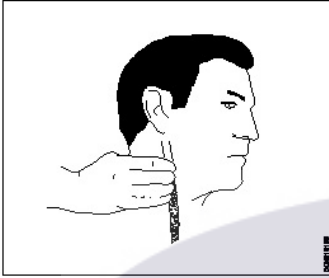
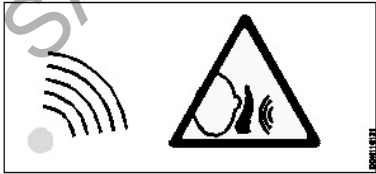
**ALL INDIA TRADE TEST - 2024 FOR CRAFTSMEN
TRAINING SCHEME (CTS)
Trade Name: Draughtsman Civil
Year: 1st Year**


Exam Date :

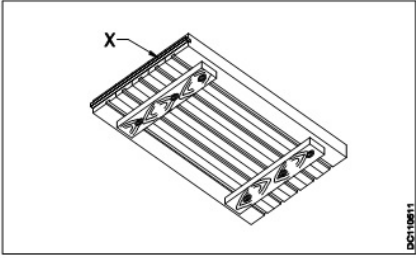
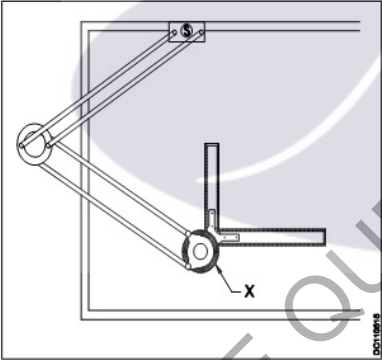
Exam Time :

Note:

1. Tick the correct option out of four alternatives provided
2. All questions carry equal marks (2 Marks each)
3. There is no negative marking

Sr. No.	Q ID	Question Body and Alternatives	Marks	Negative Marks
Trade Theory				
1	1	<p>What is the name of artery shown in figure? चित्र में दिखाई गई धमनी(आर्टरी) का नाम क्या है?</p>  <p>A1 : Facial फेशियल</p> <p>A2 : Cardio कार्डियो</p> <p>A3 : Brachial ब्राचियल</p> <p>A4 : Temporal टेम्पोरल</p>	2.0	0.00
Trade Theory				
2	2	<p>What does the symbols refer? चित्र में दिखाया गया सिंबल क्या दर्शाता है?</p>  <p>A1 : Physical hazard फिभौतिक खतरा,</p> <p>A2 : Biological hazard जैविक खतरा,</p> <p>A3 : Ergonomic hazard एर्गोनोमिक खतरा,</p> <p>A4 : Noise and vibration</p>	2.0	0.00

		शोर और कंपन		
		Trade Theory		
3	3	<p>What is the term of the outermost layer of earth? पृथ्वी की सबसे बाहरी परत को क्या कहा जाता है?</p> <p>A1 Lithosphere : स्थलमंडल</p> <p>A2 Atmosphere : वायुमंडल</p> <p>A3 Hydrosphere : जलमंडल</p> <p>A4 Thermosphere : तापमंडल</p>	2.0	0.00
		Trade Theory		
4	4	<p>What is the part of a circle bounded by two radii on its arc? किसी वृत्त के चाप(आर्क) पर दो त्रिज्याओं से घिरा भाग क्या कहलाता है?</p> <p>A1 Circle : सर्किल</p> <p>A2 Sector : सेक्टर</p> <p>A3 Segment : सेगमेंट</p> <p>A4 Semi-circle : सेमी-सर्कल</p>	2.0	0.00
		Trade Theory		
5	5	<p>Name the arrow pointed X in spacing of drawing sheet. चित्र में ड्राइंग शीट की स्पेसिंग में पॉइंटेड एरो X क्या दर्शाता है</p>  <p>A1 Trimming edge : ट्रिमिंग एज</p> <p>A2 Border : बॉर्डर</p> <p>A3 Orientation mark : ओरिएंटेशन मार्क</p> <p>A4 Frame : फ्रेम</p>	2.0	0.00

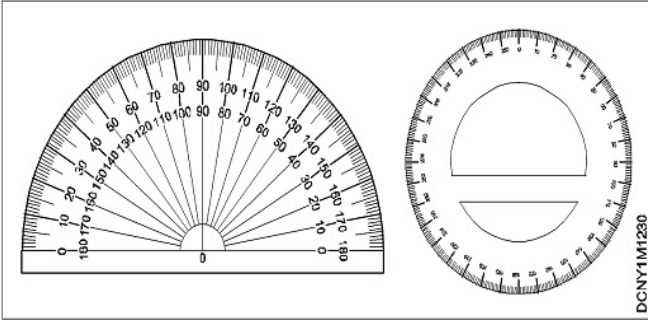
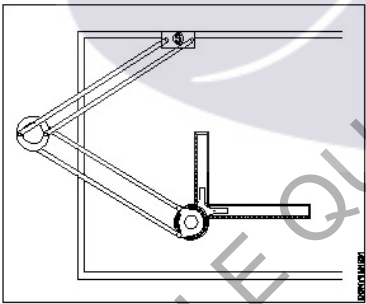
		फ्रेम		
		Trade Theory		
6	6	<p>What is the arrow head X denotes as shown in the figure?</p> <p>चित्र में दिखाए अनुसार एरो हेड X क्या दर्शाता है?</p>  <p>A1 Battens : बैटन</p> <p>A2 Strips : स्ट्रिप</p> <p>A3 Ebony edge : इबोनी एज</p> <p>A4 Holder : होल्डर</p>	2.0	0.00
		Trade Theory		
7	7	<p>What is the part marked as X shown in the figure?</p> <p>चित्र में दिखाए गए X के रूप में चिह्नित भाग क्या है?</p>  <p>A1 Screw : स्कू</p> <p>A2 Head : हेड</p> <p>A3 Blade : ब्लेड</p> <p>A4 Linkage : लिंकेज</p>	2.0	0.00
		Trade Theory		
8	8	<p>What is the angle between the stock and blade in T- square?</p> <p>T- स्क्रायर में स्टॉक और ब्लेड के बीच का कोण क्या है?</p> <p>A1 30° : 30°</p> <p>A2 45° : 45°</p>	2.0	0.00

		A3 : 60° 60° A4 : 90° 90°		
Trade Theory				
9	9	What is the maximum degree can be measured in a circular protractor? एक सर्कुलर प्रोट्रेक्टर में अधिकतम कितनी डिग्री मापी जा सकती है? A1 : 360° 360° A2 : 270° 270° A3 : 180° 180° A4 : 90° 90°	2.0	0.00
Trade Theory				
10	10	What is the first aid to be given to stop the bleeding of the victim? पीड़ित के रक्तस्राव को रोकने के लिए दी जाने वाली प्राथमिक चिकित्सा क्या है? A1 : Applying ointment मरहम लगाना A2 : Keep the injured portion upward घायल हिस्से को ऊपर की ओर रखना A3 : Covering the wound portion by dressing ट्रेसिंग द्वारा घाव के हिस्से को ढंकना A4 : Applying pressure over the injured portion घायल हिस्से पर दबाव लागू करना	2.0	0.00
Trade Theory				
11	11	What immediate action is to be taken if a person gets electric shock? यदि किसी व्यक्ति को बिजली का झटका लग जाए तो तुरंत क्या कार्रवाई की जानी चाहिए? A1 : Report to your authority अपने अधिकारी को रिपोर्ट करना चाहिए A2 : Call for the doctor for medical treatment चिकित्सा उपचार के लिए डॉक्टर को बुलाना चाहिए A3 : Call other persons for help to rescue the victim पीड़ित को बचाने के लिए सहायता के लिए किसी अन्य व्यक्ति को बुलाना चाहिए A4 : Switch 'OFF' the power supply बिजली की आपूर्ति को 'OFF' कर देना चाहिए	2.0	0.00
Trade Theory				
12	12	What is Class D fire? क्लास D फायर क्या है? A1 : Oil and fats तेल और वसा (ऑइल और फैट्स) A2 : Flammable liquids ज्वलनशील तरल (फ्लेमबल लिक्विड)	2.0	0.00

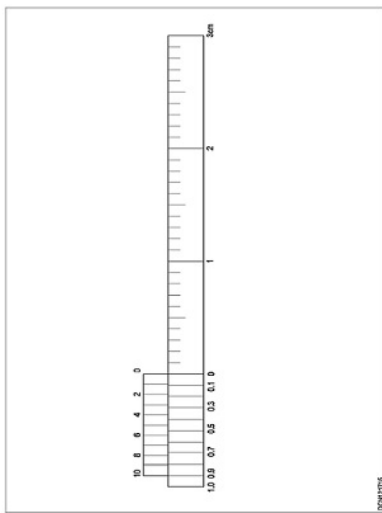
		<p>A3 Combustible material : दहनशील सामग्री (कम्बस्टबल मटेरियल)</p> <p>A4 Energized electrical equipment : ऊर्जावान विद्युत उपकरण (एनर्जाइड इलेक्ट्रिकल इक्विपमेंट)</p>		
Trade Theory				
13	13	<p>What is ABC of first aid? प्राथमिक चिकित्सा की ABC क्या है?</p> <p>A1 Aid, Break, Control : Aid, Break, Control</p> <p>A2 Avoid, Bleeding, Control : Avoid, Bleeding, Control</p> <p>A3 Airway, Breathing, Circulation : Airway, Breathing, Circulation</p> <p>A4 Accident, Bleeding, Circulation : Accident, Bleeding, Circulation</p>	2.0	0.00
Trade Theory				
14	14	<p>What is the designation of 420 x 594 mm size paper as per BIS? BIS के अनुसार 420 x 594 mm आकार के पेपर का डेजिनेशन क्या है?</p> <p>A1 A1 : A1</p> <p>A2 A2 : A2</p> <p>A3 A3 : A3</p> <p>A4 A4 : A4</p>	2.0	0.00
Trade Theory				
15	15	<p>What is A4 designation for untrimmed size of drawing sheet? ड्राइंग शीट के अनट्रिमड साइज के लिए A4 डेजिनेशन क्या है?</p> <p>A1 450 x 625 mm : 450 x 625 mm</p> <p>A2 330 x 450 mm : 330 x 450 mm</p> <p>A3 240 x 330 mm : 240 x 330 mm</p> <p>A4 165 x 240 mm : 165 x 240 mm</p>	2.0	0.00
Trade Theory				
16	16	<p>Which is the accepted method of avoiding accident? दुर्घटना से बचने का स्वीकृत तरीका कौन सा है?</p> <p>A1 Wearing safety equipment : सुरक्षा उपकरण पहनना</p> <p>A2 Doing things in one's own way : चीजों को अपने तरीके से करना</p> <p>A3 Performing with highly skilled working practice : Performing with highly skilled working practice</p>	2.0	0.00

		अत्यधिक कुशल कार्य अभ्यास के साथ प्रदर्शन करना A4 : Observing safety precautions related to job, machine and working place कार्य, मशीन और कार्य स्थल से संबंधित सुरक्षा सावधानियों का पालन करना		
Trade Theory				
17	17	How occupational diseases are caused in the industrial environment? औद्योगिक वातावरण में व्यावसायिक रोग किस प्रकार उत्पन्न होते हैं? A1 : Negligence लापरवाही A2 : Lack of knowledge ज्ञान की कमी A3 : Improper handling of machines मशीनों की अनुचित हैंडलिंग A4 : Persons exposed to substance or process पदार्थ या प्रक्रिया के संपर्क में आने वाले व्यक्ति से	2.0	0.00
Trade Theory				
18	18	What is the 'golden hour' for a victim with a head injury? सिर पर चोट लगने से पीड़ित व्यक्ति के लिए 'गोल्डन समय' क्या है? A1 : First 15 minutes पहले 15 मिनट A2 : First 30 minutes पहले 30 मिनट A3 : First 45 minutes पहले 45 मिनट A4 : First 60 minutes पहले 60 मिनट	2.0	0.00
Trade Theory				
19	19	What is the designation of trimmed drawing sheet used in 420 x 594 mm size drawing board? 420 x 594 mm आकार के ड्राइंग बोर्ड में प्रयुक्त ट्रिम की गई ड्राइंग शीट का क्या नाम है? A1 : A ₀ A ₀ A2 : A ₁ A ₁ A3 : A ₂ A ₂ A4 : A ₃ A ₃	2.0	0.00
Trade Theory				
20	20	Which is a professional skill? प्रोफेशनल स्किल क्या है? A1 : Theory knowledge थ्योरी नॉलेज A2 : Efficiency एफिशिएंसी A3 : Trade practical skill	2.0	0.00

		<p>ट्रेड प्रैक्टिकल स्किल</p> <p>A4 : Social knowledge</p> <p>सोशल नॉलेज</p>		
Trade Theory				
21	21	<p>Which is a professional knowledge? प्रोफेशनल नॉलेज क्या है?</p> <p>A1 : Theory knowledge</p> <p>थ्योरी नॉलेज</p> <p>A2 : Efficiency</p> <p>एफिशिएंसी</p> <p>A3 : Trade practical skill</p> <p>ट्रेड प्रैक्टिकल स्किल</p> <p>A4 : Social knowledge</p> <p>सोशल नॉलेज</p>	2.0	0.00
Trade Theory				
22	22	<p>Which body propagates crafts man training scheme? कौन सी संस्था शिल्पकार प्रशिक्षण योजना का प्रचार-प्रसार कर रही है?</p> <p>A1 : MSEB</p> <p>MSEB</p> <p>A2 : NCVET</p> <p>NCVET</p> <p>A3 : JEE</p> <p>JEE</p> <p>A4 : NEET</p> <p>NEET</p>	2.0	0.00
Trade Theory				
23	23	<p>What is the duty of a draughtsman? ड्राफ्ट्समैन का कर्तव्य क्या है?</p> <p>A1 : Electrical installation</p> <p>इलेक्ट्रिकल इंस्टालेशन</p> <p>A2 : Creating technical drawings</p> <p>क्रिएटिंग टेक्निकल ड्राइंग</p> <p>A3 : Software installation</p> <p>सॉफ्टवेयर इंस्टालेशन</p> <p>A4 : Mechanical works</p> <p>मैकेनिकल वर्क</p>	2.0	0.00
Trade Theory				
24	24	<p>Which instrument is used for advance surveying? एडवांस सर्वेइंग के लिए किस इंस्ट्रूमेंट का उपयोग किया जाता है?</p> <p>A1 : Chain</p> <p>चेन</p> <p>A2 : Plane table</p> <p>प्लेन टेबल</p> <p>A3 : Total station</p> <p>टोटल स्टेशन</p>	2.0	0.00

		<p>A4 Compass :</p> <p>कम्पास</p>		
Trade Theory				
25	25	<p>What is the name of the drawing instrument shown in figure? चित्र में दिखाए गए ड्राइंग इंस्ट्रूमेंट का क्या नाम है?</p>  <p>A1 45° set square :</p> <p>45° सेट स्कायर</p> <p>A2 Scale :</p> <p>स्केल</p> <p>A3 Compass :</p> <p>कम्पास</p> <p>A4 Protractor :</p> <p>प्रोटेक्टर</p>	2.0	0.00
Trade Theory				
26	26	<p>What is the use of the given instrument shown in figure? चित्र में दिखाए गए इंस्ट्रूमेंट का क्या उपयोग है?</p>  <p>A1 To draw the engineering drawing :</p> <p>इंजीनियरिंग ड्राइंग बनाने के लिए</p> <p>A2 To measurement the height :</p> <p>ऊँचाई मापने के लिए</p> <p>A3 To design the drawing :</p> <p>ड्राइंग डिज़ाइन करने के लिए</p> <p>A4 To draw the french curve :</p> <p>फ्रेंच कर्व बनाने के लिए</p>	2.0	0.00
Trade Theory				
27	27	<p>Which instrument is used to draw irregular shapes, Irregular curves, arcs etc.? अनियमित आकृतियों, अनियमित वक्रों, चापों आदि के लिए किस इंस्ट्रूमेंट का उपयोग किया जाता है?</p> <p>A1 Compass :</p> <p>कम्पास</p> <p>A2 Protractor :</p> <p>प्रोटेक्टर</p>	2.0	0.00

		<p>प्रोटेक्टर</p> <p>A3 : Set - Square</p> <p>सेट - स्क्वायर</p> <p>A4 : French curve</p> <p>फ्रेंच कर्व</p>		
Trade Theory				
28	28	<p>What does the symbol shown in figure refer to?</p> <p>चित्र में दिखाया गया सिंबल क्या दर्शाता है?</p> <div data-bbox="276 432 644 533" data-label="Image"> </div> <p>A1 : Ordinary solid</p> <p>आर्डिनरी सॉलिड</p> <p>A2 : Flammable liquids</p> <p>फ्लेमबल लिक्विड</p> <p>A3 : Energized electrical equipment</p> <p>एनर्जाइड इलेक्ट्रिकल इक्विपमेंट</p> <p>A4 : Oils and Fats</p> <p>ऑइल और फैट</p>	2.0	0.00
Trade Theory				
29	29	<p>What is the name of the dimensioning arrangement?</p> <p>निम्न डायग्राम में दर्शाये गए डायमेंशनिंग अरेंजमेंट का क्या नाम है?</p> <div data-bbox="263 1079 922 1429" data-label="Image"> </div> <p>A1 : Chain dimensioning</p> <p>चेन डायमेंशनिंग</p> <p>A2 : Parallel dimensioning</p> <p>पैरेलल डायमेंशनिंग</p> <p>A3 : Aligned dimensioning</p> <p>एलाइन्ड डायमेंशनिंग</p> <p>A4 : Unidirectional dimensioning</p> <p>यूनिडायरेक्शनल डायमेंशनिंग</p>	2.0	0.00
Trade Theory				
30	30	<p>What is the name of the scale shown in figure ?</p> <p>चित्र में दिखाए गए स्केल का नाम क्या है?</p>	2.0	0.00



A1 Plain scale

प्लेन स्केल

A2 Vernier scale

वर्णियर स्केल

A3 Diagonal scale

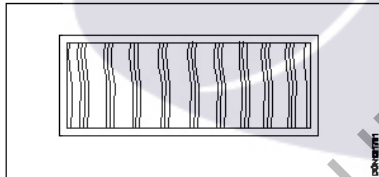
डायगोनल स्केल

A4 Comparative scale

कम्पेरेटिव स्केल

Trade Theory

31	31	What is the name of dressing of stone shown in figure? चित्र में दिखाए गए स्टोन की ड्रेसिंग का क्या नाम है?
----	----	--



A1 Dragged finish

ड्रैग्ड फिनिश

A2 Furrowed finish

फरोव्ड फिनिश

A3 Reticulated finish

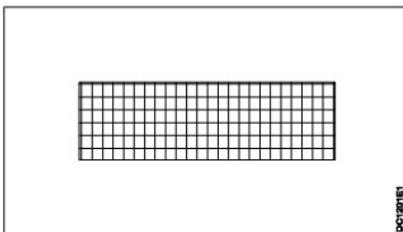
रेटिक्युलेटेड फिनिश

A4 Hammer dressed finish

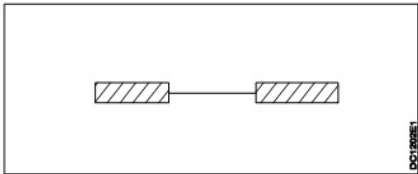
हैमर ड्रेसड फिनिश

Trade Theory

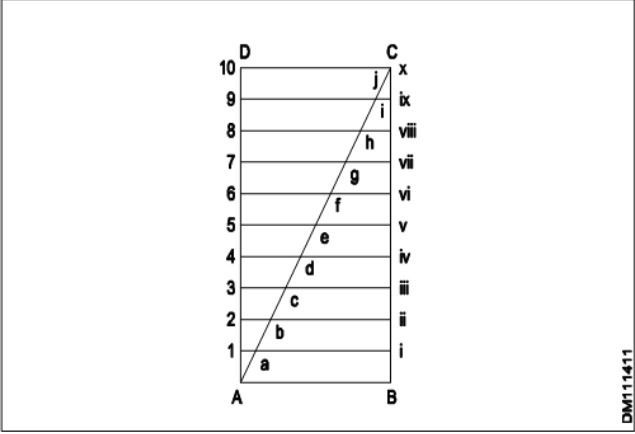
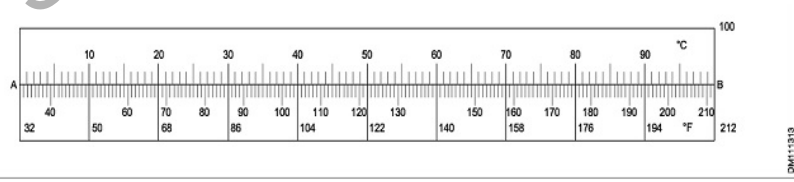
32	32	What is the name of the symbol shown in figure? चित्र में दिखाए गए सिम्बल का क्या नाम है?
----	----	--



A1 Stone

		<p>स्टोन</p> <p>A2 : Partition block</p> <p>पार्टीशन ब्लॉक</p> <p>A3 : Hollow block</p> <p>होलो ब्लॉक</p> <p>A4 : Brick</p> <p>ब्रिक</p>		
Trade Theory				
33	33	<p>What is the name of the symbol shown in figure?</p> <p>चित्र में दिखाए गए सिम्बल का नाम क्या है?</p>  <p>A1 : Internal rolling shutter</p> <p>आंतरिक रोलिंग शटर</p> <p>A2 : Internal Sliding door</p> <p>आंतरिक स्लाइडिंग दरवाजा</p> <p>A3 : External Sliding door</p> <p>बाहरी स्लाइडिंग दरवाजा</p> <p>A4 : External rolling shutter</p> <p>बाहरी रोलिंग शटर</p>	2.0	0.00
Trade Theory				
34	34	<p>How many vertical folds come under A0 size trimmed drawing sheet into A4 size?</p> <p>A0 साइज की ट्रिम की गई ड्राइंग शीट को A4 साइज में बदलने के लिए कितने वर्टिकल फोल्ड्स आते हैं?</p> <p>A1 : 5</p> <p>5</p> <p>A2 : 6</p> <p>6</p> <p>A3 : 7</p> <p>7</p> <p>A4 : 8</p> <p>8</p>	2.0	0.00
Trade Theory				
35	35	<p>What is the size / height in mm for material list and dimensioning in drawings?</p> <p>ड्राइंग में मटेरियल लिस्ट और डाइमेंशनिंग के लिए mm में आकार/ऊंचाई क्या है?</p> <p>A1 : 9 to 10</p> <p>9 से 10</p> <p>A2 : 7 to 8</p> <p>7 से 8</p> <p>A3 : 5 to 6</p> <p>5 से 6</p> <p>A4 : 3 to 4</p> <p>3 से 4</p>	2.0	0.00

Trade Theory				
36	36	<p>What is the description of E1 hidden outlines? E1 हिडेन आउटलाइन का विवरण क्या है?</p> <p>A1 : Dashed thin डैशड थिन</p> <p>A2 : Chain thin चेन थिन</p> <p>A3 : Dashed thick डैशड थिक</p> <p>A4 : Chain thick चेन थिक</p>	2.0	0.00
Trade Theory				
37	37	<p>How the dimensions can be read in aligned system of dimension technique? डायमेंशन टेक्निक की संरेखित प्रणाली(एलाइन सिस्टम) में डायमेंशन को किस प्रकार पढ़ा जा सकता है?</p> <p>A1 : Left hand edge of drawing sheet ड्राइंग शीट के बाएं हाथ के किनारे से</p> <p>A2 : Right hand edge of drawing sheet ड्राइंग शीट के दाहिने हाथ के किनारे से</p> <p>A3 : Top to bottom ऊपर से नीचे</p> <p>A4 : Bottom to top नीचे से ऊपर</p>	2.0	0.00
Trade Theory				
38	38	<p>What is the description of G1 in centre line? सेंटर लाइन में G1 का विवरण क्या है?</p> <p>A1 : Chain thin चेन थिन</p> <p>A2 : Dashed thin डैशड थिन</p> <p>A3 : Dashed thick डैशड थिक</p> <p>A4 : Continuous thick कंटिन्यूअस थिक</p>	2.0	0.00
Trade Theory				
39	39	<p>What is the R.F, if an actual length of distance 5 m represented by 25 mm length? यदि दूरी 5 मीटर की वास्तविक लंबाई को 25 mm लंबाई द्वारा दर्शाया जाता है, तो R.F क्या है?</p> <p>A1 : 1:2000 1:2000</p> <p>A2 : 1:200 1:200</p> <p>A3 : 1:20 1:20</p> <p>A4 : 1:2 1:2</p>	2.0	0.00
Trade Theory				

40	40	<p>What is the name of given scale?</p> <p>दिए गए स्केल का नाम क्या है?</p>  <p>DM111411</p> <p>A1 Plain : प्लेन</p> <p>A2 Comparative : कम्पेरेटिव</p> <p>A3 Vernier : वर्नियर</p> <p>A4 Diagonal : डायगोनल</p>	2.0	0.00
Trade Theory				
41	41	<p>Which scale is used to construct angles in absence of a protractor?</p> <p>प्रोटेक्टर की अनुपस्थिति में कोण बनाने के लिए किस स्केल का उपयोग किया जाता है?</p> <p>A1 Diagonal scale : डायगोनल स्केल</p> <p>A2 Comparative scale : कम्पेरेटिव स्केल</p> <p>A3 chord Scale : कॉर्ड स्केल</p> <p>A4 Plain scale : प्लेन स्केल</p>	2.0	0.00
Trade Theory				
42	42	<p>What is the given scale?</p> <p>दिया गया स्केल क्या है?</p>  <p>DM111313</p> <p>A1 Plain scale : प्लेन स्केल</p> <p>A2 Comparative scale : कम्पेरेटिव स्केल</p> <p>A3 Diagonal scale : डायगोनल स्केल</p>	2.0	0.00

		A4 Vernier scale : वर्नियर स्केल		
Trade Theory				
43	43	Which lime is used for construction of masonry? चिनाई के निर्माण के लिए किस चूने का उपयोग किया जाता है? A1 Class I : क्लास I A2 Class II : क्लास II A3 Class III : क्लास III A4 Class IV : क्लास IV	2.0	0.00
Trade Theory				
44	44	Which rock has a main content of silica? किस चट्टान में सिलिका एक मुख्य सामग्री है? A1 Argillaceous rock : मृत्तिकामय चट्टान A2 Siliceous rock : सिलिकामय चट्टान A3 Calcareous rock : चुनामय चट्टान A4 Foliated rock : परतदार चट्टान	2.0	0.00
Workshop Calculation and Science				
45	45	What are the two classifications of system of units? इकाइयों की प्रणाली के दो प्रकार कौनसे हैं? A1 British and Metric : ब्रिटिश और मीट्रिक A2 Gravitational and non-gravitational : गुरुत्वाकर्षण और गैर-गुरुत्वाकर्षण A3 Fundamental and derived : मौलिक और व्युत्पन्न A4 Metric and International : मैट्रिक और इंटरनेशनल	2.0	0.00
Workshop Calculation and Science				
46	46	What are fundamental units? इनमें से मूलभूत इकाइयाँ कौन-कौनसी हैं? A1 Length, Mass, Volume : लंबाई, द्रव्यमान, आयतन A2 Length, Mass, Time : लंबाई, द्रव्यमान, समय A3 Length, Mass, Area : लंबाई, द्रव्यमान, क्षेत्रफल	2.0	0.00

		A4 : Length, Pressure, Volume लंबाई, दाब , आयतन		
Workshop Calculation and Science				
47	47	What denotes letter 'M' in MKS system? MKS प्रणाली में 'M' अक्षर क्या दर्शाता है? A1 : Mile Mile A2 : Meter Meter A3 : Millimeter Millimeter A4 : Micron Micron	2.0	0.00
Workshop Calculation and Science				
48	48	How many millimetres are there in 1 inch? 1 इंच में कितने मिलीमीटर होते हैं? A1 : 2.54 mm 2.54 mm A2 : 25.4 mm 25.4 mm A3 : 24.5 mm 24.5 mm A4 : 2.45 mm 2.45 mm	2.0	0.00
Workshop Calculation and Science				
49	49	What is the square root of 529? 529 का वर्गमूल क्या है? A1 : 13 13 A2 : 23 23 A3 : 33 33 A4 : 43 43	2.0	0.00
Workshop Calculation and Science				
50	50	Convert 0.456 decimal fraction into percentage? 0.456 दशमलव भिन्न को प्रतिशत में बदलिये? A1 : 45.6% 45.6% A2 : 4.56% 4.56% A3 : 0.456% 0.456% A4 : 0.0456%	2.0	0.00

		0.0456%		
		Employability Skills		
51	51	<p>To be in a job or work is _____ नौकरी या काम में होना है</p> <p>A1 Employ : रोजगार</p> <p>A2 Skill : कौशल</p> <p>A3 Knowledge : ज्ञान</p> <p>A4 Aptitude : योग्यता</p>	2.0	0.00
		Employability Skills		
52	52	<p>Information like date of birth, permanent address form a part of one's _____ in the resume. जन्म तिथि, स्थायी पता जैसी जानकारी रिज्यूमे में किसी के _____ का हिस्सा होती है।</p> <p>A1 Career objectives : कैरियर के उद्देश्यों</p> <p>A2 Personal details : व्यक्तिगत विवरण</p> <p>A3 Achievements : उपलब्धियों</p> <p>A4 Qualifications : योग्यता</p>	2.0	0.00
		Employability Skills		
53	53	<p>A person with a growth mindset is always willing to _____ एक विकास मानसिकता वाला व्यक्ति हमेशा तैयार रहता है।</p> <p>A1 relax : आराम करने में</p> <p>A2 grow, change, learn : बढ़ो, बदलो, सीखो</p> <p>A3 keep quiet : चुप रहने में</p> <p>A4 become rich : अमीर बनने</p>	2.0	0.00
		Employability Skills		
54	54	<p>Jobs that have become outdated in the past 5 years _____ नौकरियां जो पिछले 5 वर्षों में पुरानी हो गई हैं।</p> <p>A1 STD booth : STD बूथ</p> <p>A2 ola : ओला</p> <p>A3 uber : उबर</p> <p>A4 swiggy :</p>	2.0	0.00

		Swiggy		
		Employability Skills		
55	55	<p>Ethics means _____ नैतिकता का अर्थ है....।</p> <p>A1 : decide what is right and wrong for a human conduct तय करें कि मानव आचरण के लिए क्या सही है और क्या गलत</p> <p>A2 : name of a city एक शहर का नाम</p> <p>A3 : employability skills रोज़गार कौशल</p> <p>A4 : not relevant to society समाज से संबंधित नहीं है</p>	2.0	0.00
		Employability Skills		
56	56	<p>Values are _____ मान हैं।</p> <p>A1 : not punctual समयनिष्ठ नहीं</p> <p>A2 : Motivates our attitude and action हमारे दृष्टिकोण और कार्रवाई को प्रेरित करता है</p> <p>A3 : very costly बहुत कीमती</p> <p>A4 : all have same value सभी का मूल्य समान है</p>	2.0	0.00
		Employability Skills		
57	57	<p>_____ is a brief statement about purpose and principles of the Constitution.संविधान के उद्देश्य और सिद्धांतों के बारे में संक्षिप्त विवरण है।</p> <p>A1 : Syllabus पाठ्यक्रम</p> <p>A2 : Module मापांक</p> <p>A3 : The Preamble प्रस्तावना</p> <p>A4 : Unit इकाई</p>	2.0	0.00
		Employability Skills		
58	58	<p>Identify the improper term _____ अनुचित पद को पहचानिए।</p> <p>A1 : green pollution हरित प्रदूषण</p> <p>A2 : water pollution जल प्रदूषण</p> <p>A3 : air pollution वायु प्रदूषण</p> <p>A4 : sound pollution</p>	2.0	0.00

		ध्वनि प्रदूषण		
		Employability Skills		
59	59	<p>NAPS Stands for _____</p> <p>NAPS का मतलब _____</p> <p>A1 : National Apprenticeship Promotion Scheme National Apprenticeship Promotion Scheme</p> <p>A2 : National Appointment Promoting Scheme National Appointment Promoting Scheme</p> <p>A3 : Non Apprenticeship Promotion Scheme Non Apprenticeship Promotion Scheme</p> <p>A4 : National Advertising Promotion Scheme National Advertising Promotion Scheme</p>	2.0	0.00
		Employability Skills		
60	60	<p>_____ is major changes takes place in manufacturing. मैनुफैक्चरिंग में प्रमुख परिवर्तन होते हैं।</p> <p>A1 : Green revolution हरित क्रांति</p> <p>A2 : Industry revolution उद्योग क्रांति</p> <p>A3 : Water revolution जल क्रांति</p> <p>A4 : Food revolution खाद्य क्रांति</p>	2.0	0.00
		Employability Skills		
61	61	<p>1st industrial revolution started in _____ पहली औद्योगिक क्रांति की शुरुआत।</p> <p>A1 : 18th century 18 वीं सदी</p> <p>A2 : 19th century 19 वीं सदी</p> <p>A3 : 20th century 20 वीं सदी</p> <p>A4 : 21st century 21 वीं सदी</p>	2.0	0.00
		Employability Skills		
62	62	<p>Hard Skill _____ कठिन कौशल.....।</p> <p>A1 : quick learner त्वरित शिक्षार्थी</p> <p>A2 : time management समय प्रबंधन</p> <p>A3 : 60 WPM typing speed 60 WPM टाइपिंग स्पीड</p> <p>A4 : spoken English मौखिक अंग्रेजी</p>	2.0	0.00

Employability Skills			
63	63	<p>To grow yourself you must _____. अपने आप को विकसित करने के लिए आपको चाहिए।</p> <p>A1 : know your office अपने कार्यालय को जानें</p> <p>A2 : know yourself खुद को जानें</p> <p>A3 : know your institute अपने संस्थान को जानें</p> <p>A4 : know your country अपने देश को जानो</p>	2.0 0.00
Employability Skills			
64	64	<p>Time management _____. समय प्रबंधन.....।</p> <p>A1 : complete your task on time अपना कार्य समय पर पूरा करें</p> <p>A2 : managing time प्रबंधन समय</p> <p>A3 : hard skill कठिन कौशल</p> <p>A4 : problem solving समस्या को सुलझाना</p>	2.0 0.00
Employability Skills			
65	65	<p>A resume should be _____. एक रिज्यूम _____ होना चाहिए</p> <p>A1 : short and precise छोटा और सटीक</p> <p>A2 : fancy and colourful फैंसी और रंगीन</p> <p>A3 : having long and detailed information लंबी और विस्तृत जानकारी होना</p> <p>A4 : having acronyms and abbreviation समरूप और संक्षिप्त नाम होना</p>	2.0 0.00
Employability Skills			
66	66	<p>A written description of duties and responsibilities to be carried out in a job is called _____. किसी कार्य में किए जाने वाले कर्तव्यों और जिम्मेदारियों का लिखित विवरण _____ कहा जाता है</p> <p>A1 : CV CV</p> <p>A2 : job description job description</p> <p>A3 : resume resume</p> <p>A4 : job application job application</p>	2.0 0.00
Employability Skills			

67	67	<p>After receiving interview call, what is the next step? साक्षात्कार कॉल प्राप्त करने के बाद, अगला कदम क्या है?</p> <p>A1 : Send application letter आवेदन पत्र भेजें</p> <p>A2 : Prepare the resume रिज्यूम तैयार करें</p> <p>A3 : Appear at interview साक्षात्कार में में जाये</p> <p>A4 : Send resume रिज्यूम भेजे</p>	2.0	0.00
Employability Skills				
68	68	<p>Choose suitable "wh" word for the given sentence. "_____ animal do you like?" दिए गए वाक्य के लिए उपयुक्त "wh" शब्द चुनें। "_____ animal do you like?"</p> <p>A1 : Which Which</p> <p>A2 : Why Why</p> <p>A3 : Where Where</p> <p>A4 : When When</p>	2.0	0.00
Employability Skills				
69	69	<p>Choose the correct punctuation mark after the word "Rohan" in the given sentence. "Rohan David and Ram are playing hide and seek" दिए गए वाक्य में शब्द "रोहन" के बाद सही विराम चिह्न चुनें। "Rohan David and Ram are playing hide and seek"</p> <p>A1 : Comma (,) अल्पविराम (,)</p> <p>A2 : Period (.) अवधि (.)</p> <p>A3 : Slash (/) स्लैश (/)</p> <p>A4 : Hyphen (-) हइफन (-)</p>	2.0	0.00
Employability Skills				
70	70	<p>Choose the correct response for the given question. "How have you been?" दिए गए प्रश्न के लिए सही उत्तर चुनिए। "How have you been?"</p> <p>A1 : Very well, And you? Very well, And you?</p> <p>A2 : Thank you_ And you? Thank you_ And you?</p> <p>A3 : Same to you Same to you</p> <p>A4 : On vacation_ And you? On vacation_ And you?</p>	2.0	0.00
Employability Skills				
71	71	<p>Choose the correct response of the given question. "When did the accident happen?"</p>	2.0	0.00

		<p>दिए गए प्रश्न की सही प्रतिक्रिया चुनें। “When did the accident happen”?</p> <p>A1 : in the hotel in the hotel</p> <p>A2 : during travelling during travelling</p> <p>A3 : At 10:30 last night At 10:30 last night</p> <p>A4 : On the table On the table</p>		
Employability Skills				
72	72	<p>Choose the correct tense of the verb. “I _____ music when I was child” क्रिया का सही काल चुनें। “I _____ music when I was child”</p> <p>A1 : learn learn</p> <p>A2 : am learning am learning</p> <p>A3 : will learn will learn</p> <p>A4 : had learnt had learnt</p>	2.0	0.00
Employability Skills				
73	73	<p>Curriculum vitae is also known as _____ Curriculum vitae को _____ के रूप में भी जाना जाता है।</p> <p>A1 : circular परिपत्र</p> <p>A2 : resume रिज्यूम</p> <p>A3 : job application form नौकरी के लिए आवेदन पत्र</p> <p>A4 : leave application छुट्टी की अर्जी</p>	2.0	0.00
Employability Skills				
74	74	<p>Fill in the blank with comparative adjective. “Your pencil is _____ than mine” तुलनात्मक विशेषण के साथ रिक्त स्थान भरें। “Your pencil is _____ than mine”</p> <p>A1 : sharp sharp</p> <p>A2 : sharper sharper</p> <p>A3 : blunt blunt</p> <p>A4 : thick thick</p>	2.0	0.00
Employability Skills				
75	75	<p>Fill in the blank with correct future tense of verb. “We _____ to the zoo after Breakfast “ क्रिया के सही भविष्य काल के साथ रिक्त स्थान भरें। “We _____ to the zoo after Breakfast “</p>	2.0	0.00

	A1 went : went		
	A2 are going : are going		
	A3 had gone : had gone		
	A4 will go : will go		

SAMPLE QUESTION PAPER SET 1

The logo for 'Mmmi' is centered on the page. It features the word 'Mmmi' in a stylized, cursive font, with the 'M' being significantly larger and more prominent. The text is white and is set against a light purple oval background.

Draughtsman Civil - 1st Year - Set 1

S.No	Correct Answer Key
1	A2
2	A4
3	A1
4	A2
5	A1
6	A3
7	A2
8	A4
9	A1
10	A4
11	A4
12	A3
13	A3
14	A2
15	A3
16	A4
17	A4
18	A2
19	A3
20	A3
21	A1
22	A2
23	A2
24	A3
25	A4
26	A1
27	A4
28	A3
29	A3
30	A2
31	A2
32	A2
33	A4
34	A2
35	A4
36	A3
37	A2
38	A1

S.No	Correct Answer Key
39	A2
40	A4
41	A3
42	A2
43	A3
44	A2
45	A3
46	A2
47	A2
48	A2
49	A2
50	A1
51	A1
52	A2
53	A2
54	A1
55	A1
56	A2
57	A3
58	A1
59	A1
60	A2
61	A1
62	A3
63	A2
64	A1
65	A1
66	A2
67	A3
68	A1
69	A1
70	A1
71	A3
72	A4
73	A2
74	A2
75	A4

Note:

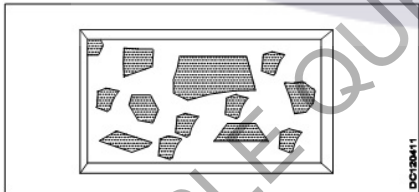
"In case answers found to be inaccurate due to typographical error or any other reason please sent mail to qbnimigrievance@gmail.com"

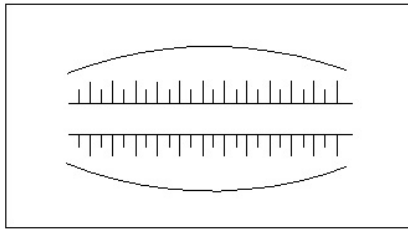
ALL INDIA TRADE TEST - 2024 FOR CRAFTSMEN
TRAINING SCHEME (CTS)
Trade Name: Draughtsman Civil
Year: 1st Year

Exam Date :
Exam Time :

Note:

1. Tick the correct option out of four alternatives provided
2. All questions carry equal marks (2 Marks each)
3. There is no negative marking

Sr. No.	Q ID	Question Body and Alternatives	Marks	Negative Marks
Trade Theory				
1	1	<p>What is the name of the rock that marble is extracted? उस चट्टान का क्या नाम है जिससे मार्बल निकाला जाता है?</p> <p>A1 : Metamorphic rock रूपांतरित चट्टान</p> <p>A2 : Foliated rock पत्तदार चट्टान</p> <p>A3 : Sedimentary rock अवसादी चट्टान</p> <p>A4 : Igneous rock आग्नेय चट्टान</p>	2.0	0.00
Trade Theory				
2	2	<p>What is the name of stone dressing finish shown in the figure? चित्र में दिखाए गए स्टोन ड्रेसिंग फ़िनिश का क्या नाम है?</p>  <p>A1 : Boasted finish बोस्टेड फ़िनिश</p> <p>A2 : Hammer finish हेमर फ़िनिश</p> <p>A3 : Reticulated finish रेटिकुलेटेड फ़िनिश</p> <p>A4 : Polished finish पॉलिशड फ़िनिश</p>	2.0	0.00
Trade Theory				
3	3	<p>What is the name of the symbol shown in the figure? सिम्बल का नाम क्या है?</p>	2.0	0.00



A1
: Cutting

कटिंग

A2
: Embankment

एम्बैंकमेंट

A3
: Culvert

कल्वर्ट

A4
: Bridge

ब्रिज

Trade Theory

4	4	<p>What is the name of the scale that is denoted by 5 : 1?</p> <p>उस स्केल का नाम क्या है जिसे 5 : 1 से दर्शाया जाता है?</p> <p>A1 : Full scale</p> <p>फुल स्केल</p> <p>A2 : Plain scale</p> <p>प्लेन स्केल</p> <p>A3 : Reduced scale</p> <p>रिड्यूसड स्केल</p> <p>A4 : Enlarged scale</p> <p>इंलार्ज्ड स्केल</p>	2.0	0.00
---	---	---	-----	------

Trade Theory

5	5	<p>What is known as the capacity of material to permit water to pass through it under pressure?</p> <p>किसी पदार्थ की दबाव में पानी को उसमें से गुजरने देने की क्षमता को क्या कहा जाता है?</p> <p>A1 : Durability</p> <p>टिकाऊपन</p> <p>A2 : Permeability</p> <p>पारगम्यता</p> <p>A3 : Porosity</p> <p>सरंभ्रता</p> <p>A4 : Ductility</p> <p>लचीलापन</p>	2.0	0.00
---	---	--	-----	------

Trade Theory

6	6	<p>Which test is conducted to know the classification of lime?</p> <p>चूने का वर्गीकरण जानने के लिए कौन सा परीक्षण किया जाता है?</p> <p>A1 : Ball test</p> <p>बॉल टेस्ट</p> <p>A2 : Visual test</p> <p>विजुअल टेस्ट</p> <p>A3 : Impurity test</p> <p>इम्प्योरिटी टेस्ट</p>	2.0	0.00
---	---	--	-----	------

		A4 : Workability test "वर्कएबिलिटी टेस्ट"		
Trade Theory				
7	7	Which BIS code no is recommended for folding of drawing sheets? ड्राइंग शीट को फोल्ड करने के लिए किस BIS कोड को रिकमेंड करते हैं? A1 : IS 11664 - 1989 IS 11664 - 1989 A2 : IS 11664 - 1987 IS 11664 - 1987 A3 : IS 11664 - 1986 IS 11664 - 1986 A4 : IS 11664 - 1981 IS 11664 - 1981	2.0	0.00
Trade Theory				
8	8	What is the untrimmed size of A5 designation drawing sheet? अनट्रिम्ड A5 नाम की ड्राइंग शीट का प्रयुक्त आकार क्या है? A1 : 450 x 625 450 x 625 A2 : 330 x 450 330 x 450 A3 : 240 x 330 240 x 330 A4 : 165 x 240 165 x 240	2.0	0.00
Trade Theory				
9	9	What is the projection if the receding lines are drawn to $\frac{1}{2}$ scale? यदि आवर्ती रेखाएँ $\frac{1}{2}$ स्केल पर आरेखित हो तो प्रोजेक्शन है? A1 : Cavalier projection कैवलियर प्रोजेक्शन A2 : Cabinet projection कैबिनेट प्रोजेक्शन A3 : Clinographic projection क्लिनोग्राफिक प्रोजेक्शन A4 : Axonometric projection एक्सोनोमेट्रिक प्रोजेक्शन	2.0	0.00
Trade Theory				
10	10	Which quadrilateral has all the sides are equal and angles are not at right angles? किस चतुर्भुज में सभी भुजाएँ समान हैं और कोण समकोण पर नहीं हैं? A1 : Rhombus विषमकोण A2 : Trapezoid समलम्ब A3 : Rectangle आयताकार A4 : Rhomboid विषमकोण	2.0	0.00

Trade Theory				
11	11	<p>Which rock has main content of calcium carbonate? किस चट्टान में कैल्शियम कार्बोनेट की मुख्य मात्रा होती है?</p> <p>A1 : Argillaceous rocks आर्गिलैसियस रॉक</p> <p>A2 : Siliceous rocks सिलीसियस रॉक</p> <p>A3 : Foliated rocks फोलिएटेड रॉक</p> <p>A4 : Calcareous rocks कैल्केरीअस रॉक</p>	2.0	0.00
Trade Theory				
12	12	<p>Where the plan is placed in third angle projection? थर्ड एंगल प्रोजेक्शन में प्लेन को कहाँ रखा गया है?</p> <p>A1 : Below elevation एलीवेशन के नीचे</p> <p>A2 : Above elevation एलीवेशन के ऊपर</p> <p>A3 : Left of elevation एलीवेशन के लेफ्ट</p> <p>A4 : Right of elevation एलीवेशन के राइट</p>	2.0	0.00
Trade Theory				
13	13	<p>What is the property of material to absorb water vapour from air? वायु से जलवाष्प को अवशोषित करने का पदार्थ का गुण क्या है?</p> <p>A1 : Hygroscopicity आर्द्रताग्राहीता</p> <p>A2 : Water absorption जल अवशोषण</p> <p>A3 : Permeability पारगम्यता</p> <p>A4 : Durability टिकाऊपन</p>	2.0	0.00
Trade Theory				
14	14	<p>Which test is conducted on stone to study minor constituents grain size? माइनर कंस्टीट्यूेंट ग्रेन साइज का अध्ययन करने के लिए स्टोन पर कौन सा टेस्ट किया जाता है?</p> <p>A1 : Freezing फ्रीजिंग</p> <p>A2 : Smiths स्मिथ</p> <p>A3 : Microscopic test माइक्रोस्कोपिक टेस्ट</p> <p>A4 : Hardness हार्डनेस</p>	2.0	0.00
Trade Theory				
15	15	<p>Name the process of removing about 20 cm depth of soil to a certain area for manufacturing of brick?</p>	2.0	0.00

		ईट के निर्माण के लिए एक निश्चित क्षेत्र में मिट्टी की लगभग 20 cm गहराई को हटाने की प्रक्रिया का नाम बताइए?		
		A1 : Unsoiling अनसॉइलिंग A2 : Tempering टेम्परिंग A3 : Blending ब्लेंडिंग A4 : Cleaning क्लीनिंग		
Trade Theory				
16	16	Which cement is more suitable for the construction of chemical plant and furnace? केमिकल प्लांट और फर्नेस के निर्माण के लिए कौन सी सीमेंट अधिक उपयुक्त है? A1 : Expanding cement एक्सपेंडिंग सीमेंट A2 : High alumina cement हाई एल्यूमिना सीमेंट A3 : Extra rapid hardening cement एक्स्ट्रा रैपिड हार्डनिंग सीमेंट A4 : Hydrophobic cement हाइड्रोफोबिक सीमेंट	2.0	0.00
Trade Theory				
17	17	How the unidirectional system of dimensions are read in engineering drawings? इंजीनियरिंग ड्राइंग में डाइमेंशन्स की यूनिडायरेक्शनल सिस्टम को कैसे पढ़ा जाता है? A1 : From the top of the drawing ड्राइंग के शीर्ष से A2 : From left side to right बायीं ओर से दायीं ओर A3 : From the bottom of drawing ड्राइंग के नीचे से A4 : From right side to left दायीं ओर से बायीं ओर	2.0	0.00
Trade Theory				
18	18	Which scale is generally used in MAPS? MAPS में आमतौर पर किस स्केल का उपयोग किया जाता है? A1 : 1:10 1:10 A2 : 1:100 1:100 A3 : 1:10000 1:10000 A4 : 1:1000000 1:1000000	2.0	0.00
Trade Theory				
19	19	How many grades are there in a portland cement? पोर्टलैंड सीमेंट में कितने ग्रेड होते हैं?	2.0	0.00

		A1 : 2 grades 2 ग्रेड A2 : 3 grades 3 ग्रेड A3 : 4 grades 4 ग्रेड A4 : 5 grades 5 ग्रेड		
Trade Theory				
20	20	Where is the rear view placed in first angle projection? फर्स्ट एंगल प्रोजेक्शन में रियर व्यू कहाँ रखा जाता है? A1 : Right side of right side view दाईं ओर के दृश्य का दाहिना भाग A2 : Bottom of elevation एलिवेशन का निचला भाग A3 : Left side of right side view दाईं ओर के दृश्य का बायां भाग A4 : Top of elevation ऊंचाई का शीर्ष	2.0	0.00
Trade Theory				
21	21	What percentage of gypsum is added in the manufacturing of cement? सीमेंट के निर्माण में जिप्सम का कितना प्रतिशत मिलाया जाता है? A1 : 7 - 10% 7 - 10% A2 : 5 - 7 % 5 - 7 % A3 : 3 - 4 % 3 - 4 % A4 : 1 - 2 % 1 - 2 %	2.0	0.00
Trade Theory				
22	22	Which BIS code is recommended for Engineering drawing practice ? इंजीनियरिंग ड्राइंग प्रैक्टिस के लिए कौन सा BIS कोड अनुशंसित है? A1 : IS: 9069 - 2001 IS: 9069 - 2001 A2 : IS: 11662 - 1983 IS: 11662 - 1983 A3 : IS: 962- 1989 IS: 962- 1989 A4 : IS: 10711 - 1986 IS: 10711 - 1986	2.0	0.00
Trade Theory				
23	23	What is the name of the given architectural symbol shown in figure? चित्र में दिखाए गए आर्किटेक्चरल सिम्बल का नाम क्या है?	2.0	0.00



A1
:

सिंक

A2
:

वॉश बेसिन

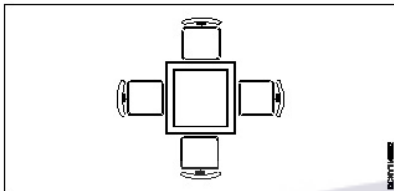
A3
:

टॉयलेट

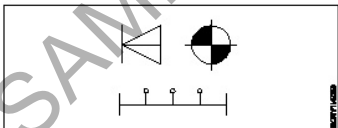
A4
:

बाथ टब

Trade Theory

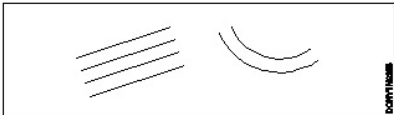
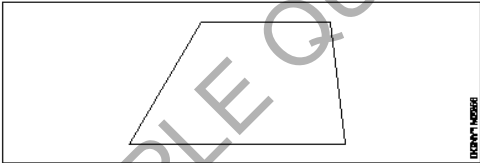
24	24	<p>What is the name of the given architectural symbol shown in figure?</p> <p>चित्र में दिखाए गए आर्किटेक्चरल सिंबल का नाम क्या है?</p>  <p>A1 :</p> <p>गैस स्टोव</p> <p>A2 :</p> <p>क्लोसेट</p> <p>A3 :</p> <p>शॉवर</p> <p>A4 :</p> <p>स्क्वायर डाइनिंग</p>	2.0	0.00
----	----	---	-----	------

Trade Theory

25	25	<p>What is the name of the given architectural symbol shown in figure?</p> <p>चित्र में दिखाए गए आर्किटेक्चरल सिंबल का नाम क्या है?</p>  <p>A1 :</p> <p>फ्लोर प्लेन सिंबल</p> <p>A2 :</p> <p>डाटा/कॉमा/TV सिंबल</p> <p>A3 :</p> <p>लाइटिंग सिंबल</p> <p>A4 :</p> <p>इलेक्ट्रिक सिंबल</p>	2.0	0.00
----	----	---	-----	------

Trade Theory

26	26	<p>What is the name of the triangle that has three unequal sides and angles?</p>	2.0	0.00
----	----	--	-----	------

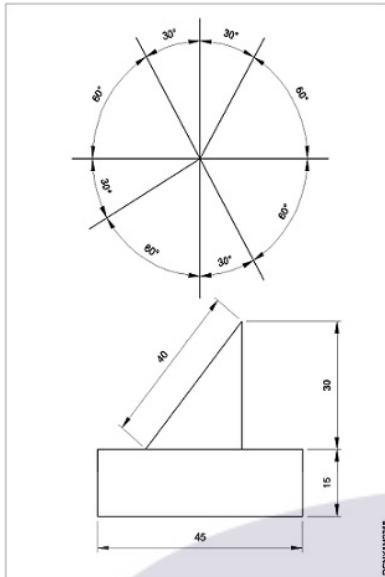
		<p>उस त्रिभुज का क्या नाम है जिसकी तीन भुजाएँ और कोण असमान हैं?</p> <p>A1 : Scalene triangle विषमबाहु त्रिकोण</p> <p>A2 : Isosceles triangle समद्विबाहु त्रिकोण</p> <p>A3 : Equilateral triangle समबाहु त्रिकोण</p> <p>A4 : Right angled triangle समकोण त्रिभुज</p>		
Trade Theory				
27	27	<p>What is the name of the line shown in figure? चित्र में दिखाई गई लाइन का नाम क्या है?</p>  <p>A1 : Perpendicular line लम्बवत रेखा</p> <p>A2 : Curved line वक्र रेखा</p> <p>A3 : Inclined line झुकी हुई (इन्क्लाइन्ड) रेखा</p> <p>A4 : Parallel line समानांतर रेखा</p>	2.0	0.00
Trade Theory				
28	28	<p>What is the name of the diagram shown in figure? चित्र में दिखाए गए डायग्राम का नाम क्या है?</p>  <p>A1 : Trapezoid समलम्ब चतुर्भुज</p> <p>A2 : Rhombus समचतुर्भुज</p> <p>A3 : Trapezium समलम्ब</p> <p>A4 : Parallelogram समानान्तर चतुर्भुज</p>	2.0	0.00
Trade Theory				
29	29	<p>What is the sum of the interior angle of Hexagon corresponding to the external angle? षट्कोण के बाह्य कोण के संगत आंतरिक कोण का योग क्या है?</p> <p>A1 : 270° 270°</p>	2.0	0.00

- A2
: 90°
90°
A3
: 120°
120°
A4
: 180°
180°

Trade Theory

30 30 What is the method of dimensioning shown in figure?
चित्र में दर्शाई गई डायमेंशनिंग निर्धारण की मेथड क्या है?

2.0 0.00

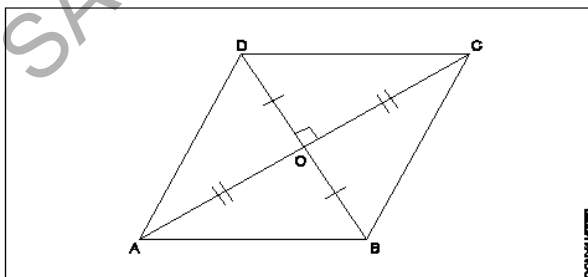


- A1
: Aligned system
अलाइन्ड सिस्टम
A2
: Unidirectional system
यूनिडायरेक्शनल सिस्टम
A3
: Chain dimension
चेन डायमेंशन
A4
: Parallel dimension
पैरेलल डायमेंशन

Trade Theory

31 31 What is the name of the diagram shown in figure?
चित्र में दिखाए गए डायग्राम का नाम क्या है?

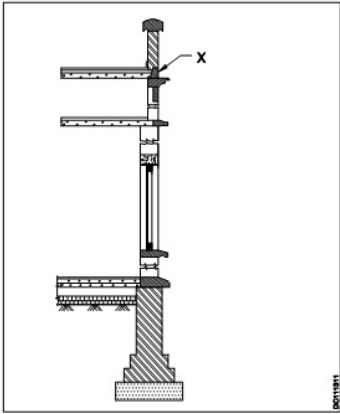
2.0 0.00

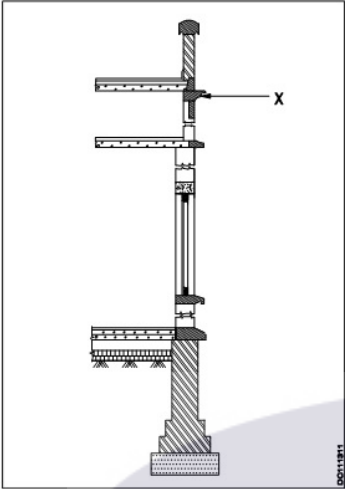


- A1
: Square
वर्ग
A2
: Rectangle
आयताकार
A3
: Trapezoid

		समलंब चतुर्भुज A4 : Rhombus समचतुर्भुज		
Trade Theory				
32	32	What does the factor 1:1 represents? फैक्टर 1:1 क्या दर्शाता है? A1 : Enlarging scale एनलार्जिंग स्केल A2 : Reducing scale रिड्यूसिंग स्केल A3 : Full scale फुल स्केल A4 : Chord scale कॉर्ड स्केल	2.0	0.00
Trade Theory				
33	33	What does the factor 2:1 represents? फैक्टर 2:1 क्या दर्शाता है? A1 : Enlarging scale एनलार्जिंग स्केल A2 : Reducing scale रिड्यूसिंग स्केल A3 : Full scale फुल स्केल A4 : Chord scale कॉर्ड स्केल	2.0	0.00
Trade Theory				
34	34	Which scale is used in the Isometric projection? आइसोमेट्रिक प्रोजेक्शन में किस स्केल का उपयोग किया जाता है? A1 : True scale ट्रू स्केल A2 : Isometric scale आइसोमेट्रिक स्केल A3 : Vernier scale वर्नियर स्केल A4 : Chord scale कॉर्ड स्केल	2.0	0.00
Trade Theory				
35	35	Which projection has projector from the object parallel to each other and incline to the plane? किस प्रोजेक्शन में ऑब्जेक्ट से प्रोजेक्टर एक दूसरे के समानांतर और प्लेन की ओर झुके होते हैं? A1 : Isometric projection आइसोमेट्रिक प्रोजेक्शन A2 : Oblique projection ऑब्लिक प्रोजेक्शन A3 : Orthographic projection ऑर्थोग्राफिक प्रोजेक्शन	2.0	0.00

		A4 : Isometric view आइसोमेट्रिक प्रोजेक्शन		
Trade Theory				
36	36	Which projection has projector from the object perpendicular to the plane? किस प्रोजेक्शन में ऑब्जेक्ट से प्लेन तक प्रोजेक्टर लंबवत होता है? A1 : Isometric projection आइसोमेट्रिक प्रोजेक्शन A2 : Oblique projection ऑब्लिक प्रोजेक्शन A3 : Orthographic projection ऑर्थोग्राफिक प्रोजेक्शन A4 : Perspective projection पर्सपेक्टिव प्रोजेक्शन	2.0	0.00
Trade Theory				
37	37	Which is the other name of the perspective view? पर्सपेक्टिव व्यू का दूसरा नाम क्या है? A1 : Photographic view फोटोग्राफिक व्यू A2 : Oblique view ऑब्लिक व्यू A3 : Isometric view आइसोमेट्रिक व्यू A4 : Orthographic view ऑर्थोग्राफिक व्यू	2.0	0.00
Trade Theory				
38	38	What will be at the same height as that of station point and will lie on the horizon line? स्टेशन बिंदु के समान ऊंचाई पर क्या होगा और क्षितिज रेखा (हॉरिज़न लाइन) पर स्थित होगा? A1 : Focus फोकस A2 : Vanishing point लुप्त बिंदु A3 : Eccentricity उत्केन्द्रता A4 : Station point स्टेशन बिंदु	2.0	0.00
Trade Theory				
39	39	Where should be the left side view drawn at 3rd angle projection in relation to elevation? एलिवेशन के संबंध में 3rd एंगल के प्रोजेक्शन पर लेफ्ट साइड व्यू कहाँ ड्रा किया जाना चाहिए? A1 : Above the elevation एलिवेशन से ऊपर A2 : Below the elevation एलिवेशन से नीचे A3 : To the right of elevation एलिवेशन के राइट ओर A4 : To the left of elevation एलिवेशन के लेफ्ट ओर	2.0	0.00

		एलिवेशन के लेफ्ट ओर		
		Trade Theory		
40	40	<p>Where should be the left side view drawn at 1st angle projection in relation to elevation? एलिवेशन के संबंध में 1st एंगल के प्रोजेक्शन पर लेफ्ट साइड व्यू कहाँ ड्रा किया जाना चाहिए?</p> <p>A1 : Above the elevation एलिवेशन से ऊपर</p> <p>A2 : Below the elevation एलिवेशन से नीचे</p> <p>A3 : To the right of elevation एलिवेशन के दाईं ओर</p> <p>A4 : To the left of elevation एलिवेशन के बाईं ओर</p>	2.0	0.00
		Trade Theory		
41	41	<p>What is the water absorption percentage for bricks? ईंटों के लिए जल अवशोषण प्रतिशत क्या है?</p> <p>A1 : <16% <16%</p> <p>A2 : <30% <30%</p> <p>A3 : >50% >50%</p> <p>A4 : >35% >35%</p>	2.0	0.00
		Trade Theory		
42	42	<p>What is the recommended slumps of concrete for road construction? सड़क निर्माण के लिए कंक्रीट की अनुशंसित स्लंप क्या है?</p> <p>A1 : 40 to 50 40 से 50</p> <p>A2 : 70 to 80 70 से 80</p> <p>A3 : 30 to 40 30 से 40</p> <p>A4 : 20 to 40 20 से 40</p>	2.0	0.00
		Trade Theory		
43	43	<p>What is the part marked as X shown in the figure? चित्र में दिखाए गए X के रूप में चिह्नित भाग क्या है?</p> 	2.0	0.00

		<p>A1 : Blocking course ब्लॉकिंग कोर्स</p> <p>A2 : Cornice कॉर्निस</p> <p>A3 : Corbel कार्टेल</p> <p>A4 : Lintel लिंग्टल</p>		
Trade Theory				
44	44	<p>What is the part marked as X shown in the figure? चित्र में दिखाए गए X के रूप में चिह्नित भाग क्या है?</p>  <p>A1 : Corbel कॉर्बल</p> <p>A2 : Cornice कॉर्निस</p> <p>A3 : Blocking ब्लॉकिंग</p> <p>A4 : String स्ट्रिंग</p>	2.0	0.00
Workshop Calculation and Science				
45	45	<p>Which metal contains iron as a major content? इनमें से किस धातु में प्रमुख सामग्री के रूप में लोहा होता है?</p> <p>A1 : Brass metal पीतल धातु</p> <p>A2 : Bronze metal ब्रॉज धातु</p> <p>A3 : Zinc ज़िंक</p> <p>A4 : Ferrous metal लोह धातु</p>	2.0	0.00
Workshop Calculation and Science				
46	46	<p>Which property of metal has its power of returning to its original shape after the applied force is released? धातु की कौन सा गुण बल लगाने पर विरूपित तथा बल हटाने पर वापस अपने पूर्ववस्था में आने की क्षमता रखता है?</p> <p>A1 : Malleability</p>	2.0	0.00

		आघातवर्धनीयता A2 : Tenacity दृढ़ता A3 : Elasticity प्रत्यास्तथा A4 : Plasticity सुघट्यता		
Workshop Calculation and Science				
47	47	Which among the following is an insulator? निम्नलिखित में से कौन एक कुचालक है? A1 : Copper तांबा A2 : Aluminium एल्युमिनियम A3 : Silver चाँदी A4 : Mica मिका	2.0	0.00
Workshop Calculation and Science				
48	48	What is termed as the quantity of matter contained in a body? वस्तु में निहित पदार्थ की मात्रा को क्या कहा जाता है? A1 : Density घनत्व A2 : Volume आयतन A3 : Mass द्रव्यमान A4 : Specific gravity विशिष्ट गुरुत्व	2.0	0.00
Workshop Calculation and Science				
49	49	What is called mass per unit volume of a substances? किसी पदार्थ के द्रव्यमान प्रति इकाई आयतन को क्या कहते हैं? A1 : Mass द्रव्यमान A2 : Weight भार A3 : Density घनत्व A4 : Volume आयतन	2.0	0.00
Workshop Calculation and Science				
50	50	What is the S.I unit of heat? ऊष्मा की एस.आई. इकाई क्या है? A1 : Calorie Calorie	2.0	0.00

		A2 : Joule Joule A3 : Centigrade heat unit Centigrade heat unit A4 : British thermal unit British thermal unit		
Employability Skills				
51	51	Fill in the blank with correct word. "They _____ good friends" रिक्त में सही शब्द भरें। "They _____ good friends" A1 : is is A2 : am am A3 : are are A4 : was was	2.0	0.00
Employability Skills				
52	52	Fill in the blank with present progressive tense of the verb. "The train _____ through the tunnel" क्रिया के वर्तमान प्रगतिशील काल के साथ रिक्त स्थान भरें। "The train _____ through the tunnel" A1 : passed passed A2 : is passing is passing A3 : had passed had passed A4 : was passing was passing	2.0	0.00
Employability Skills				
53	53	Fill in the blank with proper interrogative adjective. _____ are you going? उचित ईटोरोगेटिव विशेषण के साथ रिक्त स्थान भरें। _____ are you going? A1 : Who Who A2 : Where Where A3 : Which Which A4 : What What	2.0	0.00
Employability Skills				
54	54	Fill in the blank with proper pronoun. "I made this cake _____" रिक्त स्थान में उचित सर्वनाम के साथ भरें। "I made this cake _____" A1 : myself myself A2 : yourself yourself	2.0	0.00

		A3 himself : himself A4 itself : itself		
Employability Skills				
55	55	Fill in the blank with proper pronoun. "She made this cake _____" रिक्त स्थान में उचित सर्वनाम के साथ भरें। "She made this cake _____" A1 itself : itself A2 myself : myself A3 herself : herself A4 himself : himself	2.0	0.00
Employability Skills				
56	56	Fill in the blank with proper reflexive pronoun. "She has hurt _____" रिक्त स्थान में उचित प्रतिवर्ती सर्वनाम के साथ भरें। "She has hurt _____" A1 myself : myself A2 herself : herself A3 himself : himself A4 itself : itself	2.0	0.00
Employability Skills				
57	57	Fill in the blank with suitable adjective for the given sentence "The little girl's..... eyes revealed her mischief" दिए गए वाक्य के लिए उपयुक्त विशेषण के साथ रिक्त स्थान भरें "The little girl's..... eyes revealed her mischief" A1 chubby : chubby A2 weak : weak A3 short sighted : short sighted A4 twinkling : twinkling	2.0	0.00
Employability Skills				
58	58	Fill in the blank with suitable place preposition. "My house is _____ the third floor" उपयुक्त स्थान पूर्वसर्ग के साथ रिक्त स्थान भरें। "My house is _____ the third floor" A1 at : at A2 in : in A3 on : on	2.0	0.00

		A4 : under under		
Employability Skills				
59	59	Fill in the correct question word. “_____ is the speaker at the function?” सही प्रश्न शब्द भरें। “_____ is the speaker at the function?” A1 : What What A2 : When When A3 : Why Why A4 : Who Who	2.0	0.00
Employability Skills				
60	60	Low level language is also called _____. निम्न स्तर की भाषा को _____ भी कहा जाता है A1 : source code सोर्स कोड A2 : middle ware मध्यस्थ A3 : machine language मशीन भाषा A4 : assembly language असेंबली भाषा	2.0	0.00
Employability Skills				
61	61	Pronunciation refers to _____. उच्चारण _____ को संदर्भित करता है A1 : diphtong संयुक्त स्वर A2 : consonant व्यंजन A3 : punctuation विराम चिह्न A4 : production of sound ध्वनि का उत्पादन	2.0	0.00
Employability Skills				
62	62	Re-arrange the following set of words into meaningful sentence. “teacher / school / worked / she / a / as”. शब्दों के निम्नलिखित सेट को सार्थक वाक्य में फिर से व्यवस्थित करें। “teacher / school / worked / she / a / as” A1 : School worked as a she teacher School worked as a she teacher A2 : She worked as a school teacher She worked as a school teacher A3 : She teacher worked as a school She teacher worked as a school A4 : Worked she as a school teacher Worked she as a school teacher	2.0	0.00

Employability Skills			
63	63	<p>Rise and fall of pitch of voice is called _____.</p> <p>आवाज की पिच का उठना और गिरना _____ कहलाता है</p> <p>A1 : vowel स्वर</p> <p>A2 : intonation आवाज़ का उतार-चढ़ाव</p> <p>A3 : consonant व्यंजन</p> <p>A4 : pronunciation उच्चारण</p>	2.0 0.00
Employability Skills			
64	64	<p>The word that expresses a sudden and strong feeling is called _____.</p> <p>वह शब्द जो अचानक और मजबूत भावना व्यक्त करता है उसे _____ कहा जाता है</p> <p>A1 : punctuation विराम चिह्न</p> <p>A2 : interjection विस्मयादिबोधक</p> <p>A3 : conjunction संयोजन के रूप</p> <p>A4 : apostrophe एपोस्ट्रॉफी</p>	2.0 0.00
Employability Skills			
65	65	<p>When you greet higher official's such as Teacher, Instructor or Supervisor, you should use _____.</p> <p>जब आप शिक्षक, प्रशिक्षक या पर्यवेक्षक जैसे उच्च अधिकारियों का अभिवादन करते हैं, तो आपको _____ का उपयोग करना चाहिए</p> <p>A1 : Good morning Good morning</p> <p>A2 : Hello Hello</p> <p>A3 : Hey Hey</p> <p>A4 : Hi Hi</p>	2.0 0.00
Employability Skills			
66	66	<p>Which is a silent letter in the word "ANSWER"?</p> <p>"ANSWER" शब्द में कौन सा मूक अक्षर है?</p> <p>A1 : R R</p> <p>A2 : E E</p> <p>A3 : S S</p> <p>A4 : W W</p>	2.0 0.00
Employability Skills			
67	67	<p>Which one is a "Do's" of discussion etiquettes?</p> <p>चर्चा के शिष्टाचारों में से कौन सा "Do's" है?</p>	2.0 0.00

		<p>A1 : Loose your temper अपना आपा खोएं</p> <p>A2 : Listen to others दूसरों की सुनें</p> <p>A3 : Talk about irrelevant details अप्रासंगिक विवरण के बारे में बात करें</p> <p>A4 : Use impolite or rude language अभद्र या अशिष्ट भाषा का उपयोग करें</p>		
Employability Skills				
68	68	<p>Which one is a “Don’t” of discussion etiquette? चर्चा शिष्टाचार का “Don’t” है?</p> <p>A1 : Be open minded दिमाग खुला रखना</p> <p>A2 : Use moderate tone मध्यम स्वर का प्रयोग करें</p> <p>A3 : Listen to others दूसरों की सुनें</p> <p>A4 : Argue unnecessary अनावश्यक बहस करें</p>	2.0	0.00
Employability Skills				
69	69	<p>Which one is a brain of computer? कंप्यूटर का मस्तिष्क कौन सा है?</p> <p>A1 : Keyboard कीबोर्ड</p> <p>A2 : CPU सी पी यू</p> <p>A3 : Monitor मॉनिटर</p> <p>A4 : Hard disk हार्ड डिस्क</p>	2.0	0.00
Employability Skills				
70	70	<p>Which one is an exclamatory sentence? कौन सा विस्मयादिबोधक वाक्य है?</p> <p>A1 : What a beautiful house it is! What a beautiful house it is!</p> <p>A2 : It is a beautiful house. It is a beautiful house.</p> <p>A3 : Is it a beautiful house? Is it a beautiful house?</p> <p>A4 : Your house is beautiful. Your house is beautiful.</p>	2.0	0.00
Employability Skills				
71	71	<p>Which one is in active voice? सक्रिय आवाज में कौन सा है?</p> <p>A1 : Ram has passed the exam.</p>	2.0	0.00

		<p>Ram has passed the exam.</p> <p>A2 : The ball was caught by him.</p> <p>The ball was caught by him.</p> <p>A3 : The book was being read by her.</p> <p>The book was being read by her.</p> <p>A4 : We were driven home by dad.</p> <p>We were driven home by dad.</p>		
Employability Skills				
72	72	<p>Which one is in passive voice? निष्क्रिय आवाज में कौन सा है?</p> <p>A1 : Mohan is painting a house.</p> <p>Mohan is painting a house.</p> <p>A2 : She was reading a book.</p> <p>She was reading a book.</p> <p>A3 : Her birthday was celebrated by us.</p> <p>Her birthday was celebrated by us.</p> <p>A4 : I have seen that movie.</p> <p>I have seen that movie.</p>	2.0	0.00
Employability Skills				
73	73	<p>Which one is NOT a conjunction? कौन सा एक संयोजन नहीं है?</p> <p>A1 : And</p> <p>And</p> <p>A2 : Or</p> <p>Or</p> <p>A3 : But</p> <p>But</p> <p>A4 : On</p> <p>On</p>	2.0	0.00
Employability Skills				
74	74	<p>Which one is NOT a benefit of the role playing? भूमिका निभाने का कौन सा लाभ नहीं है?</p> <p>A1 : Builds confidence</p> <p>आत्मविश्वास पैदा करता है</p> <p>A2 : Develops listening skill</p> <p>सुनने का कौशल विकसित करता है</p> <p>A3 : Develops creative problem-solving skill</p> <p>रचनात्मक समस्या-समाधान कौशल विकसित करता है</p> <p>A4 : Develops boredom</p> <p>बोरियत पैदा करता है</p>	2.0	0.00
Employability Skills				
75	75	<p>Which one is NOT a vowel? कौन सा स्वर नहीं है?</p> <p>A1 : a</p> <p>a</p> <p>A2 : e</p> <p>e</p>	2.0	0.00

		e		
		A3 f		
		:		
		f		
		A4 i		
		:		
		i		

SAMPLE QUESTION PAPER SET 2

The logo for 'Ammi' is centered on the page. It features the word 'Ammi' in a white, cursive script font, set against a light purple oval background. The 'A' is stylized with a long, sweeping tail that curves around the 'm'.

Draughtsman Civil - 1st Year - Set 2

S.No.	Correct Answer Key
1	A1
2	A3
3	A2
4	A4
5	A2
6	A1
7	A3
8	A4
9	A2
10	A1
11	A4
12	A2
13	A1
14	A3
15	A1
16	A2
17	A3
18	A4
19	A2
20	A3
21	A3
22	A3
23	A3
24	A4
25	A3
26	A1
27	A4
28	A1
29	A4
30	A1
31	A4
32	A3
33	A1
34	A2
35	A2
36	A3
37	A1
38	A2

S.No.	Correct Answer Key
39	A4
40	A3
41	A1
42	A4
43	A1
44	A2
45	A4
46	A3
47	A4
48	A3
49	A3
50	A2
51	A3
52	A2
53	A2
54	A1
55	A3
56	A2
57	A4
58	A3
59	A4
60	A3
61	A4
62	A2
63	A2
64	A2
65	A1
66	A4
67	A2
68	A4
69	A2
70	A1
71	A1
72	A3
73	A4
74	A4
75	A3

Note:

"In case answers found to be inaccurate due to typographical error or any other reason please sent mail to qbnimigrievance@gmail.com"

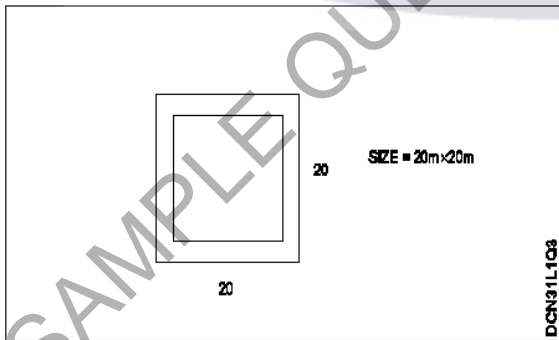
ALL INDIA TRADE TEST - 2024 FOR CRAFTSMEN
TRAINING SCHEME (CTS)
Trade Name: Draughtsman Civil
Year: 2nd Year

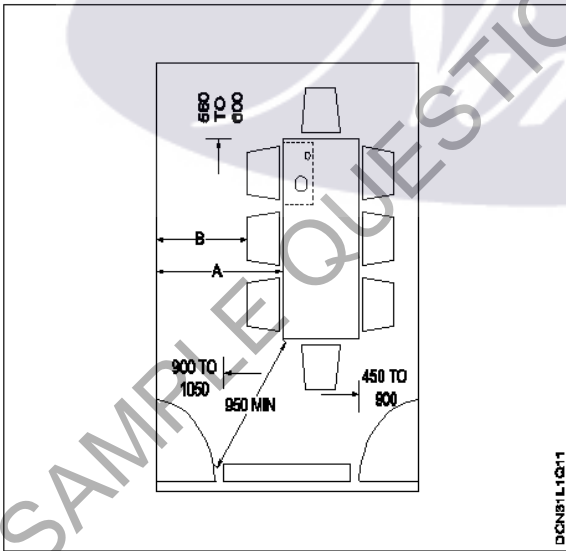
Exam Date :

Exam Time :

Note:

1. Tick the correct option out of four alternatives provided
2. All questions carry equal marks (2 Marks each)
3. There is no negative marking

Sr. No.	Q ID	Question Body and Alternatives	Marks	Negative Marks
Trade Theory				
1	1	<p>Which of the following is the basic need of a human being? निम्नलिखित में से कौन सा मनुष्य की मूलभूत आवश्यकता है?</p> <p>A1 Sheet : शीट</p> <p>A2 Shelter : शेल्टर</p> <p>A3 Huts : झोपड़ियाँ</p> <p>A4 Tree : वृक्ष</p>	2.0	0.00
Trade Theory				
2	2	<p>What is the shape of the given plan? दिए गए प्लान का आकार क्या है?</p>  <p>A1 Square : वर्ग</p> <p>A2 Rectangle : आयत</p> <p>A3 Oblong : लंबाकार</p> <p>A4 Circle : वृत्त</p>	2.0	0.00
Trade Theory				
3	3	<p>What is the other name of circulation in the same floor? एक ही तल में परिसंचरण का दूसरा नाम क्या है?</p>	2.0	0.00

		<p>A1 : Horizontal circulation क्षैतिज परिसंचरण</p> <p>A2 : Vertical circulation ऊर्ध्वाधर परिसंचरण</p> <p>A3 : Zig - Zag circulation ज़िग - ज़ैग परिसंचरण</p> <p>A4 : Winding circulation घुमावदार परिसंचरण</p>		
Trade Theory				
4	4	<p>Which room is provided for learning and reading in residential building? आवासीय भवन में सीखने और पढ़ने के लिए कौन सा कमरा दिया जाता है?</p> <p>A1 : Drawing room बैठक</p> <p>A2 : Study room अध्ययन कक्ष</p> <p>A3 : Entertainment room मनोरंजन कक्ष</p> <p>A4 : Work room काम का कमरा</p>	2.0	0.00
Trade Theory				
5	5	<p>What is the name of the room shown in the figure? कमरे का नाम क्या है?</p>  <p>A1 : Bed room शयनकक्ष</p> <p>A2 : Study room अध्ययन कक्ष</p> <p>A3 : Dinning room भोजन कक्ष</p> <p>A4 : Multi purpose room बहुउद्देशीय कमरे</p>	2.0	0.00
Trade Theory				
6	6	<p>What is the name of the useable floor area excluding staircase?</p>	2.0	0.00

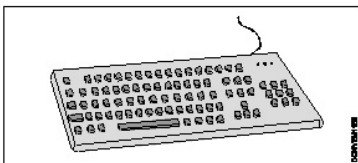
		सीढ़ी के अलावा प्रयोग करने योग्य फर्श क्षेत्र का नाम क्या है?		
		A1 : Circulation area परिसंचरण क्षेत्र A2 : Carpet area कारपेट क्षेत्र A3 : Covered area ढंका हुआ हिस्सा A4 : Plinth area प्लिंथ क्षेत्र		
Trade Theory				
7	7	What is the name of the built up area at the floor level? फर्श स्तर पर निर्मित क्षेत्र का नाम क्या है? A1 : Plinth प्लिंथ A2 : Plinth area प्लिंथ क्षेत्र A3 : Plinth height प्लिंथ ऊंचाई A4 : Plinth level प्लिंथ स्तर	2.0	0.00
Trade Theory				
8	8	What is the formula for floor area ratio? फर्श क्षेत्र अनुपात के लिए सूत्र क्या है? A1 : $\frac{\text{Total area of walls}}{\text{Total plot area}} \times 100$ A2 : $\frac{\text{Total area of all floors}}{\text{Total area of walls}} \times 100$ A3 : $\frac{\text{Total area of all floors}}{\text{Total plot area}} \times 100$ A4 : $\frac{\text{Total plot area}}{\text{Total area of all floors}} \times 100$	2.0	0.00
Trade Theory				
9	9	What should be the distance between building to electric supply mains horizontally? बिल्डिंग से इलेक्ट्रिक सप्लाय मेन के बीच की दूरी क्या होनी चाहिए? A1 : 1.0 - 1.8 m A2 : 1.0 - 2.0 m A3 : 1.2 - 2.0 m A4 : 1.5 - 2.0 m	2.0	0.00
Trade Theory				

10	10	<p>What is the minimum scale of which the key plan need to be drawn according to NBC - 2005? NBC - 2005 के अनुसार की-प्लान का न्यूनतम पैमाना है</p> <p>A1 : 1:50 1:50</p> <p>A2 : 1:100 1:100</p> <p>A3 : 1:200 1:200</p> <p>A4 : 1:400 1:400</p>	2.0	0.00
Trade Theory				
11	11	<p>What is the abbreviation for MOEF? MOEF के लिए पृथक्करण क्या है?</p> <p>A1 : Ministry of Ecology and Forest Ministry of Ecology and Forest</p> <p>A2 : Ministry of Environment and Federation Ministry of Environment and Federation</p> <p>A3 : Ministry of Environment and Forest Ministry of Environment and Forest</p> <p>A4 : Ministry of Ecology and Fire Ministry of Ecology and Fire</p>	2.0	0.00
Trade Theory				
12	12	<p>Which year does forest conservation act was passed? वन संरक्षण अधिनियम किस वर्ष पारित किया गया था?</p> <p>A1 : 1992 1992</p> <p>A2 : 1980 1980</p> <p>A3 : 1972 1972</p> <p>A4 : 2000 2000</p>	2.0	0.00
Trade Theory				
13	13	<p>Which of the following position of door and type of door shutter offer more privacy to room? निम्नलिखित में से कौन सा दरवाजा और दरवाजा शटर का प्रकार कमरे में अधिक गोपनीयता प्रदान करता है?</p> <p>A1 : Centre door - Single shutter सेण्टर डोर - एकल शटर</p> <p>A2 : Centre door - Double shutter सेण्टर डोर - डबल शटर</p> <p>A3 : Comer door - Single shutter कार्नर डोर - एकल शटर</p> <p>A4 : Comer door - Double shutter कार्नर डोर - डबल शटर</p>	2.0	0.00
Trade Theory				
14	14	<p>Which of the following room in residential building need more air changes per hour, while comparing to bed room in residential building? आवासीय भवन में बेड रूम की तुलना में आवासीय भवन में निम्नलिखित में से किस कमरे में प्रति घंटे अधिक वायु परिवर्तन की आवश्यकता होती है?</p>	2.0	0.00

		A1 : Drawing room ड्राइंग रूम A2 : Master bed room मास्टर बेड रूम A3 : Kitchen रसोई A4 : Hall हॉल		
Trade Theory				
15	15	Which of the following is the important advantage of orientation of building? निम्नलिखित में से कौन सा भवन के उन्मुखीकरण का महत्वपूर्ण लाभ है? A1 : Aesthetic सौंदर्यबोध A2 : Reduction in energy cost ऊर्जा बिलों में कमी A3 : Improved circulations बेहतर परिचलन A4 : Outdoor projection बाहरी प्रक्षेपण	2.0	0.00
Trade Theory				
16	16	Which season gives more lighting to the building? किस मौसम में भवन को अधिक प्रकाश मिलता है? A1 : Summer गर्मी A2 : Winter सर्दी A3 : Spring वसंत A4 : Autumn पतझड़	2.0	0.00
Trade Theory				
17	17	What is the maximum covered area for an Industry? किसी उद्योग के लिए अधिकतम कवर क्षेत्र क्या है? A1 : 40% of the site area साइट क्षेत्र का 40% A2 : 50% of the site area साइट क्षेत्र का 50% A3 : 60% of the site area साइट क्षेत्र का 60% A4 : 70% of the site area साइट क्षेत्र का 70%	2.0	0.00
Trade Theory				
18	18	What is the name of the group institutional building was classified? समूह संस्थागत भवन का वर्गीकरण किस नाम से किया गया?	2.0	0.00

		A1 Group C : समूह C A2 Group E : समूह E A3 Group H : समूह H A4 Group I : समूह I		
Trade Theory				
19	19	Which type of building comes in group H? समूह H में किस प्रकार का भवन आता है? A1 Hazardous : खतरनाक A2 Industrial : औद्योगिक A3 Storage : भंडारण A4 Business : व्यापार	2.0	0.00
Trade Theory				
20	20	What is the formula for carpet area? कारपेट एरिया के लिए सूत्र क्या है? A1 Total plot area - Circulation area : कुल प्लॉट एरिया - सर्कुलेशन एरिया A2 Total circulation area - Floor area : कुल सर्कुलेशन एरिया - फ्लोर एरिया A3 Total floor area - Circulation area : कुल फ्लोर एरिया - सर्कुलेशन एरिया A4 Total area of all floors - Wall area : सभी मंजिलों का कुल एरिया - वाल एरिया	2.0	0.00
Trade Theory				
21	21	What is the full form of FSI? FSI का पूर्ण रूप क्या है? A1 Floor Site Index : Floor Site Index A2 Floor Space Index : Floor Space Index A3 Floor Staircase Index : Floor Staircase Index A4 Floor Storey Index : Floor Storey Index	2.0	0.00
Trade Theory				
22	22	How many persons can use one wash basin in public buildings? सार्वजनिक भवनों में कितने व्यक्तियों को एक वॉश बेसिन की आवश्यकता होती है? A1 100 :	2.0	0.00

		100 A2 : 150 150 A3 : 175 175 A4 : 200 200		
Trade Theory				
23	23	Which building provides sleeping and cooking facilities? किस इमारत में सोने और खाना पकाने की सुविधा है? A1 Institutional building : संस्थागत भवन A2 Educational building : शैक्षिक भवन A3 Residential building : आवासीय भवन A4 Hotel building : होटल भवन	2.0	0.00
Trade Theory				
24	24	Which group in which custodial institution comes? कौन सा ग्रुप किस कस्टोडियल संस्था में आता है? A1 Educational building : शैक्षिक भवन A2 Institutional building : संस्थागत भवन A3 Assembly building : विधानसभा भवन A4 Business building : व्यावसायिक भवन	2.0	0.00
Trade Theory				
25	25	Which classification does row building comes in? रो बिल्डिंग(पब्लिक बिल्डिंग) किस वर्गीकरण में आता है? A1 Public building : सार्वजनिक इमारत A2 Residential building : आवासीय भवन A3 Educational building : शैक्षिक भवन A4 Institutional building : संस्थागत भवन	2.0	0.00
Trade Theory				
26	26	What is the lead air charges per hour needed in a restaurant kitchen? होटल के रसोई घर में प्रति घंटे लीड एयर चार्ज क्या है? A1 8 : 8	2.0	0.00

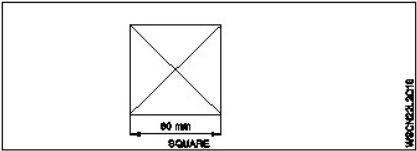
		A2 10 : 10 A3 12 : 12 A4 14 : 14		
Trade Theory				
27	27	Which classification of the building have highest F.A.R permissible? भवन के किस वर्गीकरण में उच्चतम F.A.R अनुमेय है? A1 Residential building : आवासीय भवन A2 Educational building : शैक्षिक भवन A3 Institutional building : संस्थागत भवन A4 Mercantile building : व्यापारिक भवन	2.0	0.00
Trade Theory				
28	28	What is the permissible F.A.R for commercial building? वाणिज्यिक भवन के लिए अनुमेय F.A.R क्या है? A1 1.5 : 1.5 A2 2 : 2 A3 2.5 : 2.5 A4 3 : 3	2.0	0.00
Trade Theory				
29	29	Which building does laboratories come? अंडरग्राउंड शॉपिंग में मजदूर कहाँ आते हैं? A1 Mercantile building : व्यापारिक भवन A2 Business building : व्यवसाय भवन A3 Industrial building : औद्योगिक भवन A4 Educational building : शैक्षिक भवन	2.0	0.00
Trade Theory				
30	30	What is the name of figure? आकृति का नाम क्या है? 	2.0	0.00

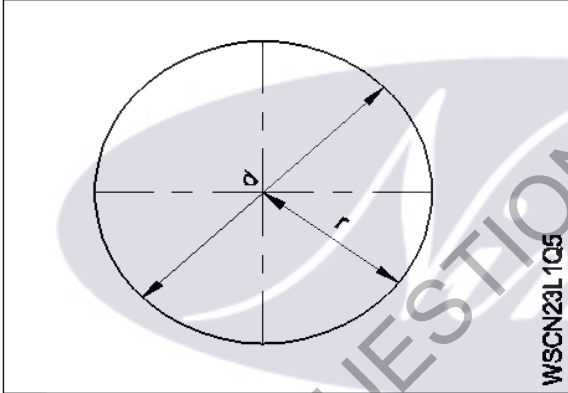
		A1 : Mouse माउस A2 : Monitor मॉनिटर A3 : Keyboard कीबोर्ड A4 : Plotter प्लॉटर		
Trade Theory				
31	31	What is the full form of CADD? CADD का पूर्ण रूप क्या है? A1 : Computer Aided Designing and Drafting Computer Aided Designing and Drafting A2 : Computer Aided Drafting and Drawing Computer Aided Drafting and Drawing A3 : Computer Aided Drawing and Designing Computer Aided Drawing and Designing A4 : Computer Aided Drawing Computer Aided Drawing	2.0	0.00
Trade Theory				
32	32	What is the highest dots per inch (DPI) one can print a drawing? उच्चतम डॉट प्रति इंच (DPI) एक ड्राइंग को क्या प्रिन्ट कर सकता है? A1 : 800 dpi 800 dpi A2 : 1000 dpi 1000 dpi A3 : 1200 dpi 1200 dpi A4 : 1400 dpi 1400 dpi	2.0	0.00
Trade Theory				
33	33	What is the full form of GUI? GUI का पूर्ण रूप क्या है? A1 : Golden User Installation Golden User Installation A2 : Graphical User Installation Graphical User Installation A3 : Graphical User Interface Graphical User Interface A4 : Geometrical User Interface Geometrical User Interface	2.0	0.00
Trade Theory				
34	34	How much area of residential building should be constitute for horizontal circulation? क्षैतिज परिसंचरण के लिए आवासीय भवन का कितना क्षेत्रफल होना चाहिए? A1 : 20% to 25% of total plan area कुल योजना क्षेत्र का 20% से 25%	2.0	0.00

		<p>A2 : 10% to 15% of total plan area कुल योजना क्षेत्र का 10% से 15%</p> <p>A3 : 15% to 20% of total plan area कुल योजना क्षेत्र का 15% से 20%</p> <p>A4 : 25% to 30% of total plan area कुल योजना क्षेत्र का 25% से 30%</p>		
Trade Theory				
35	35	<p>What are the advantages of green belt? ग्रीन बेल्ट के लाभ क्या हैं?</p> <p>A1 : It protects nature यह प्रकृति की रक्षा करता है</p> <p>A2 : Provide space जगह उपलब्ध कराये</p> <p>A3 : Protect sea समुद्र की रक्षा करो</p> <p>A4 : Development of society समाज का विकास</p>	2.0	0.00
Trade Theory				
36	36	<p>Which authority in India regulate environment law for green belts? भारत में कौन सा प्राधिकरण ग्रीन बेल्ट के लिए पर्यावरण कानून को विनियमित करता है?</p> <p>A1 : MOEF MOEF</p> <p>A2 : EOFM EOFM</p> <p>A3 : AIEM AIEM</p> <p>A4 : EIAM EIAM</p>	2.0	0.00
Trade Theory				
37	37	<p>What is the FAR of plot area 100 sqm, having floor area of ground floor 60 sqm, First floor area=60 Sqm Second floor area=30 Sqm? 100 वर्ग मीटर के प्लॉट का FAR क्या है, जिसमें भूतल का फर्श क्षेत्र 60 वर्ग मीटर है, पहली मंजिल का क्षेत्रफल = 60 वर्ग मीटर, तीसरी मंजिल का क्षेत्रफल = 30 वर्ग मीटर है?</p> <p>A1 : 100 Sq.m 100 Sq.m</p> <p>A2 : 150 Sq.m 150 Sq.m</p> <p>A3 : 120 Sq.m 120 Sq.m</p> <p>A4 : 125 Sq.m 125 Sq.m</p>	2.0	0.00
Trade Theory				
38	38	<p>Which group of building is used for training institutions under single management for student not less than 20? कम से कम 20 छात्रों के लिए एकल प्रबंधन के तहत प्रशिक्षण संस्थानों के लिए भवन के किस समूह का उपयोग किया जाता है?</p> <p>A1 : B - 2 B - 2</p> <p>A2 : B - 1</p>	2.0	0.00

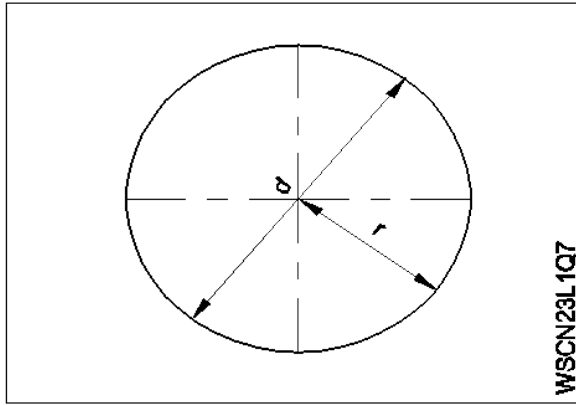
		B -1 A3 A -1 : A -1 A4 A -2 : A -2		
Trade Theory				
39	39	Which group of building is used for housing persons suffering from physical limitation because of health or age? भवन का कौन सा समूह स्वास्थ्य या उम्र के कारण शारीरिक अक्षमता से पीड़ित व्यक्तियों के आवास के लिए उपयोग किया जाता है? A1 C - 1 : C - 1 A2 C - 2 : C - 2 A3 C - 3 : C - 3 A4 D - 1 : D - 1	2.0	0.00
Trade Theory				
40	40	Which group of building is used for custody such as children, convalescent homes and orphanages? इमारत के किस समूह का उपयोग बच्चों, स्वास्थ्य लाभ प्राप्त लोगों और वृद्धों, स्वास्थ्य लाभ घरों और अनाथालयों जैसे संरक्षण के लिए किया जाता है? A1 C - 1 : C - 1 A2 D - 1 : D - 1 A3 C - 2 : C - 2 A4 D - 2 : D - 2	2.0	0.00
Trade Theory				
41	41	Which group of building is used for shops, stores, departmental stores with area up to 500 m ² ? भवन के किस समूह में 500 m ² तक क्षेत्रफल वाली दुकानें, स्टोर, डिपार्टमेंटल स्टोर का उपयोग किया जाता है? A1 F - 1 : F - 1 A2 F - 2 : F - 2 A3 E - 1 : E - 1 A4 F - 3 : F - 3	2.0	0.00
Trade Theory				
42	42	which group of building is used laboratories, research, establishments, libraries and test houses? भवन का कौन सा समूह प्रयोगशालाओं, अनुसंधान, प्रतिष्ठानों, पुस्तकालयों और परीक्षण घरों का उपयोग करता है? A1 E - 1 : E - 1 A2 E - 2 : E - 2 A3 F - 1 :	2.0	0.00

		F - 1 A4 : F - 3 F - 3		
Trade Theory				
43	43	<p>What is the full form of CPU? CPU का पूर्ण रूप क्या है?</p> <p>A1 : Craft Processing Unit (CPU) Craft Processing Unit (CPU)</p> <p>A2 : Code Processing Unit (CPU) Code Processing Unit (CPU)</p> <p>A3 : Central Processing Unit (CPU) Central Processing Unit (CPU)</p> <p>A4 : CD Processing Unit (CPU) CD Processing Unit (CPU)</p>	2.0	0.00
Trade Theory				
44	44	<p>Which year does first micro processor was invented? पहला माइक्रो प्रोसेसर का आविष्कार किस वर्ष किया गया था?</p> <p>A1 : 1970 1970</p> <p>A2 : 1971 1971</p> <p>A3 : 1972 1972</p> <p>A4 : 1973 1973</p>	2.0	0.00
Workshop Calculation and Science				
45	45	<p>Where the centre of gravity of a circle lies? एक वृत्त के गुरुत्वाकर्षण का केंद्र कहाँ स्थित है?</p> <p>A1 : At its centre इसके केंद्र में</p> <p>A2 : Any where on its radius इसकी त्रिज्या पर कोई जहाँ</p> <p>A3 : Any where on its circumference इसकी परिधि पर कोई जहाँ</p> <p>A4 : Any where on its diameter इसके व्यास पर कोई जहाँ</p>	2.0	0.00
Workshop Calculation and Science				
46	46	<p>What is the centre of gravity of a sphere? किसी गोले की गुरुत्व का केंद्र क्या है?</p> <p>A1 : At the centre केंद्र में</p> <p>A2 : On the circumference परिधि पर</p> <p>A3 : At the diameter व्यास पर</p> <p>A4 : At the radius</p>	2.0	0.00

47	47	<p>What is the centre of gravity of the square?</p> <p>वर्ग की गुरुत्व का केंद्र क्या है?</p>  <p>A1 : (30, 20)</p> <p>A2 : (30, 20)</p> <p>A3 : (20, 30)</p> <p>A4 : (20, 30)</p>	2.0	0.00
----	----	---	-----	------

48	48	<p>What is the formula for circumference of a circle?</p> <p>वृत्त की परिधि का सूत्र क्या है?</p>  <p>A1 : πr^2</p> <p>A2 : $\frac{\pi d^2}{4}$</p> <p>A3 : $2\pi r$</p> <p>A4 : πr</p>	2.0	0.00
----	----	---	-----	------

49	49	<p>What is the formula for area of the circle?</p> <p>वृत्त के क्षेत्रफल के लिए सूत्र क्या है?</p>	2.0	0.00
----	----	--	-----	------



WSCN23L1Q7

A1
:

$$\frac{\pi r^2}{2}$$

A2
:

$$\pi r^2$$

A3
:

$$2\pi r$$

A4
:

$$\frac{\pi d}{2}$$

Workshop Calculation and Science

50	50	<p>Which line is called as chord? कौन सी लाइन को ज्या कहा जाता है?</p>	2.0	0.00
		<p>A1 : ED</p> <p>A2 : AB</p> <p>A3 : OD</p> <p>A4 : OE</p>		

WSCN23L2Q28

Employability Skills

51	51	<p>Which is the most essential skill to get a job? नौकरी पाने के लिए सबसे जरूरी स्किल कौन सी है?</p> <p>A1 : Interview Skill</p>	2.0	0.00
----	----	--	-----	------

		<p>इंटरव्यू स्किल</p> <p>A2 : Translation Skill</p> <p>ट्रांसलेशन स्किल</p> <p>A3 : Entrepreneurship Skill</p> <p>एंटरप्रेन्योरशिप स्किल</p> <p>A4 : Learning more language skill</p> <p>और अधिक भाषा कौशल सीखना</p>		
Employability Skills				
52	52	<p>For applying a job your first preparation is _____</p> <p>नौकरी के लिए आवेदन करने के लिए आपकी पहली तैयारी _____ है।</p> <p>A1 : book a ticket to interview place</p> <p>साक्षात्कार स्थल के लिए एक टिकट बुक करें</p> <p>A2 : save money for expenses</p> <p>खर्चों के लिए पैसे बचाएं</p> <p>A3 : preparing resume</p> <p>बायोडाटा तैयार करें</p> <p>A4 : prepare for interview</p> <p>इंटरव्यू के लिए तैयारी करें</p>	2.0	0.00
Employability Skills				
53	53	<p>Campus recruitment is conducted at _____</p> <p>कैम्पस भर्ती _____ में आयोजित की जाती है।</p> <p>A1 : capital city of the state</p> <p>राज्य की राजधानी में</p> <p>A2 : ITI</p> <p>ITI</p> <p>A3 : in a company</p> <p>कंपनी में</p> <p>A4 : on line</p> <p>ऑनलाइन</p>	2.0	0.00
Employability Skills				
54	54	<p>In your resume, which information has less importance?</p> <p>आपके बायोडाटा में कौन सी जानकारी कम महत्व रखती है?</p> <p>A1 : Qualification</p> <p>योग्यता</p> <p>A2 : Experience</p> <p>अनुभव</p> <p>A3 : Skill training completed</p> <p>पुरे हुए कौशल प्रशिक्षण</p> <p>A4 : Expected salary</p> <p>अपेक्षित वेतन</p>	2.0	0.00
Employability Skills				
55	55	<p>The ability to connect well with people _____</p> <p>लोगों के साथ अच्छी तरह जुड़ने की क्षमता _____ है।</p> <p>A1 : interpersonal skill</p> <p>इंटरपर्सनल स्किल</p>	2.0	0.00

		A2 : leadership लीडरशिप A3 : time management टाइम मैनेजमेंट A4 : creativity क्रिएटिविटी		
Employability Skills				
56	56	The ability to wait and stay calm _____ प्रतीक्षा करने और शांत रहने की क्षमता _____ है। A1 : creativity क्रिएटिविटी A2 : problem solving प्रॉब्लम सॉल्विंग A3 : patience पेशेंस A4 : interpersonal skill इंटरपर्सनल स्किल	2.0	0.00
Employability Skills				
57	57	Punctuality means _____ समय की पाबंदी का अर्थ _____ है। A1 : done by punching machine पंचिंग मशीन द्वारा किया गया है A2 : informal इनफॉर्मल A3 : politeness पलाइडनेस A4 : being on time समय पर होना	2.0	0.00
Employability Skills				
58	58	When you borrow a pen from your classmate, you should say? जब आप अपने सहपाठी से कलम उधार लेते हैं, तो आपको क्या कहना चाहिए? A1 : Give me your pen मुझे अपना पेन दो A2 : Can you please give me a pen क्या आप कृपया मुझे एक पेन दे सकते हैं A3 : I want a pen मुझे एक पेन चाहिए A4 : I take your pen मैं आपका पेन लेता हूँ	2.0	0.00
Employability Skills				
59	59	Magnificent, sharp, lengthy, bright, - are examples of _____ मैग्निफिकेंट, शार्प, लेंग्थी, ब्राइट, - _____ के उदाहरण हैं A1 : describing words डिस्क्राइबिंग वर्ड्स A2 : action words	2.0	0.00

		<p>एक्शन वर्ड्स</p> <p>A3 : nouns</p> <p>नाउन</p> <p>A4 : pronouns</p> <p>प्रोनाउन</p>		
Employability Skills				
60	60	<p>Table, wire, socket, cable, hammer, nail - are _____</p> <p>टेबल, तार, सॉकेट, केबल, हथौड़ा, कील _____ हैं।</p> <p>A1 : describing words</p> <p>डिस्क्राइबिंग वर्ड्स</p> <p>A2 : pronouns</p> <p>प्रोनाउन</p> <p>A3 : naming words</p> <p>नेमिंग वर्ड्स</p> <p>A4 : action words</p> <p>एक्शन वर्ड्स</p>	2.0	0.00
Employability Skills				
61	61	<p>Comma, full stop, question mark are examples of _____</p> <p>कॉमा, फुल स्टॉप, क्वेश्चन मार्क _____ के उदाहरण हैं।</p> <p>A1 : design</p> <p>डिज़ाइन</p> <p>A2 : next paragraph</p> <p>नेक्स्ट पैराग्राफ</p> <p>A3 : formal communication</p> <p>फॉर्मल कम्युनिकेशन</p> <p>A4 : punctuation mark</p> <p>पंकचूएशन मार्क</p>	2.0	0.00
Employability Skills				
62	62	<p>When you start a discussion on a topic, what do you say?</p> <p>जब आप किसी विषय पर चर्चा आरंभ करते हैं तो आप क्या कहते हैं?</p> <p>A1 : Let you start</p> <p>आइए शुरू करें</p> <p>A2 : Let me say</p> <p>मुझे कहने दीजिये</p> <p>A3 : Let us discuss</p> <p>आइए चर्चा करें</p> <p>A4 : Let us finish</p> <p>आइए खत्म करें</p>	2.0	0.00
Employability Skills				
63	63	<p>While addressing your boss, you should be _____</p> <p>अपने बॉस को सम्बोधित करते समय आपको _____ होना चाहिए।</p> <p>A1 : Impolite</p> <p>इम्पलाइट</p> <p>A2 : Informal</p> <p>इनफॉर्मल</p>	2.0	0.00

		A3 Formal : फॉर्मल A4 Expressive : एक्सप्रेसिव		
Employability Skills				
64	64	<p>You are requested to complete the given assignment by Monday This is an example of _____ आपसे अनुरोध है कि दिए गए कार्य को सोमवार तक पूरा करें। यह _____ का एक उदाहरण है।</p> <p>A1 informal communication : इनफॉर्मल कम्युनिकेशन</p> <p>A2 a request : एक रिक्वेस्ट</p> <p>A3 an order : एक आर्डर</p> <p>A4 formal communication : फॉर्मल कम्युनिकेशन</p>	2.0	0.00
Employability Skills				
65	65	<p>Gestures, facial expressions, eye contact are examples of _____ जेस्चर, फेसिअल एक्सप्रेसन, आइ कांटेक्ट _____ के उदाहरण हैं।</p> <p>A1 verbal communication : वर्बल कम्युनिकेशन</p> <p>A2 non-verbal communication : नॉन-वर्बल कम्युनिकेशन</p> <p>A3 oral communication : ओरल कम्युनिकेशन</p> <p>A4 written communication : रिटेन कम्युनिकेशन</p>	2.0	0.00
Employability Skills				
66	66	<p>Hi, how are you, whats up, these are examples of _____ नमस्ते, आप कैसे हैं, क्या चल रहा है, ये _____ के उदाहरण हैं।</p> <p>A1 formal communication : फॉर्मल कम्युनिकेशन</p> <p>A2 informal communication : इनफॉर्मल कम्युनिकेशन</p> <p>A3 polite communication : पोलाइट कम्युनिकेशन</p> <p>A4 impolite communication : इम्पलाइट कम्युनिकेशन</p>	2.0	0.00
Employability Skills				
67	67	<p>Complete these sentence with suitable describing words The roads in my town are in _____ condition. इन वाक्यों को उपयुक्त वर्णनात्मक शब्दों से पूरा करें। The roads in my town are in _____ condition.</p> <p>A1 good : good</p> <p>A2 expensive : expensive</p>	2.0	0.00

		<p>A3 beautiful : beautiful</p> <p>A4 safe : safe</p>		
Employability Skills				
68	68	<p>Complete the sentence with suitable describing words There is a _____ garden with lovely flowers. उचित वर्णनात्मक शब्दों से वाक्य पूरा करें। There is a _____ garden with lovely flowers.</p> <p>A1 good : good</p> <p>A2 spacious : spacious</p> <p>A3 big : big</p> <p>A4 beautiful : beautiful</p>	2.0	0.00
Employability Skills				
69	69	<p>Complete the sentence with suitable describing words There is a _____ playground near our house. उपयुक्त वर्णनात्मक शब्दों से वाक्य पूरा करें। There is a _____ playground near our house.</p> <p>A1 spacious : spacious</p> <p>A2 big : big</p> <p>A3 beautiful : beautiful</p> <p>A4 good : good</p>	2.0	0.00
Employability Skills				
70	70	<p>Complete the sentence with suitable describing words. There are _____ apartments in my neighbourhood. उपयुक्त वर्णनात्मक शब्दों से वाक्य पूरा करें। There are _____ apartments in my neighbourhood.</p> <p>A1 expensive : expensive</p> <p>A2 beautiful : beautiful</p> <p>A3 good : good</p> <p>A4 spacious : spacious</p>	2.0	0.00
Employability Skills				
71	71	<p>Fill up the blanks with suitable words so as to become a meaningful sentence. The Principal called Manoj. The Principal asked _____ to show _____ hall ticket for the CTS Examination. रिक्त स्थानों को उचित शब्दों से भरें ताकि एक सार्थक वाक्य बन सके। The Principal called Manoj. The Principal asked _____ to show _____ hall ticket for the CTS Examination.</p> <p>A1 him, his : him, his</p>	2.0	0.00

		<p>A2 : him, her</p> <p>him, her</p> <p>A3 : her, his</p> <p>her, his</p> <p>A4 : her, him</p> <p>her, him</p>		
Employability Skills				
72	72	<p>Fill up the blanks with suitable words so as to become a meaningful sentence</p> <p>"Tell us about a difficult situation you have _____ and how you _____ to come out of it."</p> <p>रिक्त स्थानों को उचित शब्दों से भरें ताकि एक सार्थक वाक्य बन सके।</p> <p>"Tell us about a difficult situation you have _____ and how you _____ to come out of it."</p> <p>A1 : face, manage</p> <p>face, manage</p> <p>A2 : managed, face</p> <p>managed, face</p> <p>A3 : faced, manage</p> <p>faced, manage</p> <p>A4 : faced, managed</p> <p>faced, managed</p>	2.0	0.00
Employability Skills				
73	73	<p>Complete the sentence with suitable describing words</p> <p>There is a factory in the area. The air is _____.</p> <p>उचित वर्णनात्मक शब्दों से वाक्य पूरा करें।</p> <p>There is a factory in the area. The air is _____.</p> <p>A1 : polluted</p> <p>polluted</p> <p>A2 : boring</p> <p>boring</p> <p>A3 : uneven</p> <p>uneven</p> <p>A4 : noisy</p> <p>noisy</p>	2.0	0.00
Employability Skills				
74	74	<p>Complete the sentence with suitable describing words</p> <p>There is water scarcity in the locality. The area is _____.</p> <p>उचित वर्णनात्मक शब्दों से वाक्य पूरा करें।</p> <p>There is water scarcity in the locality. The area is _____.</p> <p>A1 : uneven</p> <p>uneven</p> <p>A2 : noisy</p> <p>noisy</p> <p>A3 : dry</p> <p>dry</p> <p>A4 : boring</p> <p>boring</p>	2.0	0.00
Employability Skills				
75	75	<p>Complete the sentence with suitable describing words</p> <p>The transportation to some rural areas is difficult as the roads are _____</p> <p>उचित वर्णनात्मक शब्दों से वाक्य पूरा करें।</p> <p>The transportation to some rural areas is difficult as the roads are _____</p>	2.0	0.00

	A1	dry		
	:			
		dry		
	A2	polluted		
	:			
		polluted		
	A3	boring		
	:			
		boring		
	A4	uneven		
	:			
		uneven		

SAMPLE QUESTION PAPER SET 1

The logo for 'Ammi' is centered on the page. It features the word 'Ammi' in a white, cursive script font, set against a light purple oval background. A stylized white leaf or petal shape is positioned to the left of the text.

Draughtsman Civil - 2nd Year - Set 1

S.No.	Correct Answer Key
1	A2
2	A1
3	A1
4	A2
5	A3
6	A2
7	A2
8	A3
9	A3
10	A4
11	A3
12	A2
13	A4
14	A3
15	A2
16	A1
17	A3
18	A1
19	A3
20	A3
21	A2
22	A1
23	A3
24	A3
25	A2
26	A3
27	A4
28	A2
29	A2
30	A3
31	A1
32	A3
33	A3
34	A1
35	A1
36	A1
37	A2
38	A2

S.No.	Correct Answer Key
39	A1
40	A3
41	A1
42	A2
43	A3
44	A2
45	A1
46	A1
47	A3
48	A3
49	A2
50	A2
51	A1
52	A3
53	A2
54	A4
55	A1
56	A3
57	A4
58	A2
59	A1
60	A3
61	A4
62	A3
63	A3
64	A4
65	A2
66	A2
67	A1
68	A4
69	A2
70	A4
71	A1
72	A4
73	A1
74	A3
75	A4

Note:


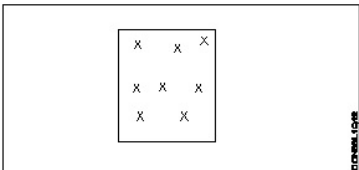
"In case answers found to be inaccurate due to typographical error or any other reason please sent mail to qbnimigrievance@gmail.com"

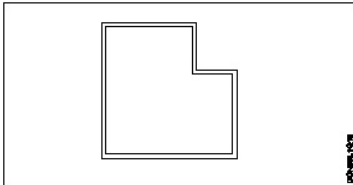

ALL INDIA TRADE TEST - 2024 FOR CRAFTSMEN
TRAINING SCHEME (CTS)
Trade Name: Draughtsman Civil
Year: 2nd Year

Exam Date :
Exam Time :

Note:

1. Tick the correct option out of four alternatives provided
2. All questions carry equal marks (2 Marks each)
3. There is no negative marking

Sr. No.	Q ID	Question Body and Alternatives	Marks	Negative Marks
Trade Theory				
1	1	<p>What is the name of the tool bar given below?</p> <p>नीचे दिए गए टूल बार का नाम क्या है?</p>  <p>A1 Draw : ड्रा</p> <p>A2 Modify : मॉडिफाई</p> <p>A3 Dimension : डायमेंशन</p> <p>A4 Visual styles : विसुअल स्टाइल</p>	2.0	0.00
Trade Theory				
2	2	<p>What is the use of function key F3?</p> <p>फंक्शन की F3 का उपयोग क्या है?</p> <p>A1 OSNAP : OSNAP</p> <p>A2 TABLET : TABLET</p> <p>A3 ISOPLANE : ISOPLANE</p> <p>A4 SAVE AS : SAVE AS</p>	2.0	0.00
Trade Theory				
3	3	<p>What is the name of the command shown in the figure?</p> <p>नीचे दिए गए आंकड़े से कमांड का नाम क्या है?</p> 	2.0	0.00

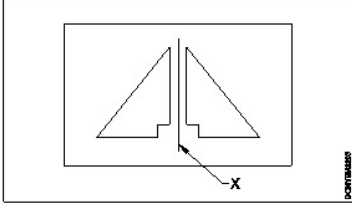
		<p>A1 Star command : स्टार कमांड</p> <p>A2 Array command : एरे कमांड</p> <p>A3 Point command : पॉइंट कमांड</p> <p>A4 Trim command : ट्रिम कमांड</p>		
Trade Theory				
4	4	<p>What is the name of the command shown in the figure? नीचे दिए गए आंकड़े में कमांड का नाम क्या है?</p>  <p>A1 Offset : ऑफसेट</p> <p>A2 Construction line : कंस्ट्रक्शन</p> <p>A3 Multi line : मल्टी लाइन</p> <p>A4 P line : P लाइन</p>	2.0	0.00
Trade Theory				
5	5	<p>What is the name of the command shown in the figure? नीचे दिए गए आंकड़े में कमांड का नाम क्या है?</p>  <p>A1 P line : P लाइन</p> <p>A2 M line : M लाइन</p> <p>A3 Spline : एसपी लाइन</p> <p>A4 Poly line : पॉली लाइन</p>	2.0	0.00
Trade Theory				
6	6	<p>What is the full form of UCS? UCS का पूर्ण रूप क्या है?</p> <p>A1 User CAD System : User CAD System</p> <p>A2 User CADD System : User CADD System</p>	2.0	0.00

		User CADD System A3 : User Co-ordinate System User Co-ordinate System A4 : User Circle System User Circle System		
Trade Theory				
7	7	What is the name of the point marked as 'x' shown in the figure? 'X' के रूप में चिह्नित बिंदु का नाम क्या है? <div data-bbox="260 409 593 636" data-label="Image"> </div> A1 : Midpoint of dollar डॉलर का मध्य बिंदु A2 : Midpoint of offset ऑफसेट का मध्य बिंदु A3 : Centre point of array एरे का केंद्र बिंदु A4 : Centre point of leader line लीडर लाइन का केंद्र बिंदु	2.0	0.00
Trade Theory				
8	8	Which shortcut key does the work of ortho mode? कौन सी शॉर्टकट कुंजी ऑर्थो का काम करती है? A1 : F6 F6 A2 : F7 F7 A3 : F8 F8 A4 : F9 F9	2.0	0.00
Trade Theory				
9	9	Which shortcut key does the work of Redo last action? कौन सी शॉर्टकट कुंजी अंतिम क्रिया को Redo का कार्य करती है? A1 : Ctrl + Z Ctrl + Z A2 : Ctrl + Y Ctrl + Y A3 : Ctrl + C Ctrl + C A4 : Ctrl + X Ctrl + X	2.0	0.00
Trade Theory				
10	10	What is the use of shortcut key 'H'? शॉर्टकट की 'H' का उपयोग क्या है?	2.0	0.00

		A1 Help : हेल्प A2 B hatch : B हैच A3 Hatch : हैच A4 Hollow block : हॉलो ब्लॉक		
Trade Theory				
11	11	What is the use of the shortcut key 'M'? शॉर्टकट कुंजी 'M टेक्स्ट' का उपयोग क्या है? A1 Modify : मॉडिफाई टेक्स्ट A2 Move : मूव टेक्स्ट A3 Multi : मल्टी टेक्स्ट A4 Menu : मेनू टेक्स्ट	2.0	0.00
Trade Theory				
12	12	What is the use of 'Q' shortcut key? 'Q' शॉर्टकट कुंजी का उपयोग क्या है? A1 Quit : क्विट A2 Quick calc : क्विक कैल्क A3 Q Save : सेव एस A4 "Q" leader : "Q" लीडर	2.0	0.00
Trade Theory				
13	13	Which of the following shortcut keys gives quick calc? निम्नलिखित में से कौन सी शॉर्टकट कुंजी क्विक कैल्क देती है? A1 Ctrl + 6 : Ctrl + 6 A2 Ctrl + 7 : Ctrl + 7 A3 Ctrl + 8 : Ctrl + 8 A4 Ctrl + 9 : Ctrl + 9	2.0	0.00
Trade Theory				
14	14	Which pointing device is cheaper while comparing the digitizer? डिजिटाइज़र की तुलना करते समय निम्नलिखित में से कौन सा पॉइंटिंग डिवाइस सस्ता है? A1 Key board :	2.0	0.00

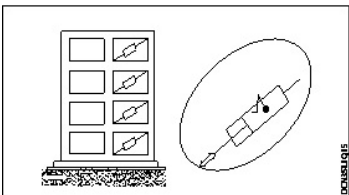
		<p>की बोर्ड</p> <p>A2 : Puck</p> <p>पक</p> <p>A3 : Mouse</p> <p>माउस</p> <p>A4 : Enter key</p> <p>इंटर की</p>		
Trade Theory				
15	15	<p>Which command has multiple option?</p> <p>निम्नलिखित कमांडों में से एक प्रमुख विकल्प है?</p> <p>A1 : Line</p> <p>लाइन</p> <p>A2 : M line</p> <p>M लाइन</p> <p>A3 : P line</p> <p>P लाइन</p> <p>A4 : Polygon</p> <p>पॉलिगोन</p>	2.0	0.00
Trade Theory				
16	16	<p>What is the extension for 3D modelling file?</p> <p>3D मॉडलिंग फ़ाइल के लिए एक्सटेंशन क्या है?</p> <p>A1 : .3d</p> <p>0.3d</p> <p>A2 : .3dm</p> <p>0.3dm</p> <p>A3 : .3m</p> <p>0.3 m</p> <p>A4 : .3dmo</p> <p>0.3dmo</p>	2.0	0.00
Trade Theory				
17	17	<p>Which command allows you to change 2D drawing into 3D model?</p> <p>कौन सी कमांड आपको 2D ड्राइंग को 3D मॉडल में बदलने की अनुमति देती है?</p> <p>A1 : 3D modelling</p> <p>3 डी मॉडलिंग</p> <p>A2 : Extrude</p> <p>एक्सट्रुड</p> <p>A3 : C plan</p> <p>C प्लान</p> <p>A4 : Ortho</p> <p>ऑर्थो</p>	2.0	0.00
Trade Theory				
18	18	<p>What is the full form of WCS?</p> <p>WCS का पूर्ण रूप क्या है?</p> <p>A1 : Western Co- ordinate System</p> <p>Western Co- ordinate System</p>	2.0	0.00

		A2 World Co- ordinate System : World Co- ordinate System A3 Wide Co -ordinate System : Wide Co -ordinate System A4 Wrong Co-ordinate System : Wrong Co-ordinate System		
Trade Theory				
19	19	What is the shortcut for rendering an image? एक इमेज प्रदान करने के लिए शॉर्टकट क्या है? A1 RS : RS A2 RSP : RSP A3 RP : RP A4 RW : RW	2.0	0.00
Trade Theory				
20	20	What is the shortcut for rendering a specified rectangular area of drawing? ड्राइंग के निर्दिष्ट भाग को प्रस्तुत करने के लिए शॉर्टकट क्या है? A1 RB : RB A2 RC : RC A3 RD : RD A4 RP : RP	2.0	0.00
Trade Theory				
21	21	Which shortcut key gives copy clip? निम्नलिखित में से कौन सी कुंजी कॉपी क्लिप देती है? A1 Ctrl+Z : Ctrl+Z A2 Ctrl+C : Ctrl+C A3 Ctrl+G : Ctrl+G A4 Ctrl+L : Ctrl+L	2.0	0.00
Trade Theory				
22	22	Which function key does the work of snap? कौन सी शॉर्ट कट कुंजी स्नेप का कार्य करती है? A1 F7 : F7 A2 F8 : F8	2.0	0.00

		A3 F9 : F9 A4 F10 : F10		
Trade Theory				
23	23	<p>What is the name of the line marked as x shown in figure?</p> <p>x के रूप में चिह्नित रेखा का नाम क्या है?</p>  <p>A1 Mirror line : मिरर लाइन A2 Glass line : लाइन A3 Shadow line : शैडो लाइन A4 Imaginary line : इमेजिनरी लाइन</p>	2.0	0.00
Trade Theory				
24	24	<p>What is the use of function key F12?</p> <p>फंक्शन कुंजी F12 का उपयोग क्या है?</p> <p>A1 OSNAP : OSNAP A2 SAVE AS : SAVE AS A3 TABLET : TABLET A4 ISO PLANE : ISO PLANE</p>	2.0	0.00
Trade Theory				
25	25	<p>Which command is used for extends objects to a selected boundry edges?</p> <p>ऑब्जेक्ट का उपयोग करते हुए दीर्घकालिक ऑब्जेक्ट के लिए किस कमांड का उपयोग किया जाता है?</p> <p>A1 Move : मूव A2 Copy : कॉपी A3 Extend : एक्सटेंड A4 Off set : ऑफ सेट</p>	2.0	0.00
Trade Theory				
26	26	<p>Which command is used to create one or more copies of object?</p> <p>ऑब्जेक्ट की एक या अधिक प्रतिलिपियाँ बनाने के लिए किस कमांड का उपयोग किया जाता है?</p> <p>A1 Move : मूव</p>	2.0	0.00

		मूव A2 : Extend एक्सटेंड A3 : Off set ऑफ सेट A4 : Copy कॉपी		
Trade Theory				
27	27	What is the area of playground for 1000 children upto age of 6 years? 6 वर्ष तक की आयु के 1000 बच्चों के लिए खेल के मैदान का क्षेत्रफल कितना है? A1 : 0.10 hectare 0.10 हेक्टेयर A2 : 0.13 hectare 0.13 हेक्टेयर A3 : 0.16 hectare 0.16 हेक्टेयर A4 : 0.20 Hectare 0.20 हेक्टेयर	2.0	0.00
Trade Theory				
28	28	Which is the hard landscape? निम्नलिखित में से कौन सा हार्ड लैंडस्केप है? A1 : Plantation पेड़ लगाना A2 : Types of trees पेड़ों के प्रकार A3 : Design of space for people लोगों के लिए जगह का डिजाइन A4 : Terrace gardens टेरेस गार्डन	2.0	0.00
Trade Theory				
29	29	Which boundaries earthquake generally occurs? टेक्टोनिक प्लेटों के किस भाग में, भूकंप आमतौर पर होता है? A1 : Plate प्लेट बाउंड्री A2 : Diversion plates डायवर्सन प्लेट्स A3 : Converging plates कंवरजिंग प्लेट्स A4 : Middle portion मध्य भाग	2.0	0.00
Trade Theory				
30	30	Which instrument is used to detect and record seismic waves? भूकंपीय तरंगों का पता लगाने और रिकॉर्ड करने के लिए किस इंस्ट्रूमेंट का उपयोग किया जाता है? A1 : Barograph बेरोग्राफ	2.0	0.00

		A2 : Seismograph सीज्मोग्राफ A3 : Diagraph डायाग्राफ A4 : Hygrograph हाइग्रोग्राफ		
Trade Theory				
31	31	Which is known as hypocenter? जिसे हाइपोसेंटर के नाम से जाना जाता है? A1 : Epicenter एपीसेंटर A2 : Focus फोकस A3 : Focal depth फोकल गहराई A4 : Epicentral distance एपीसेंटर दूरी	2.0	0.00
Trade Theory				
32	32	What is the percentage of the structural cost of the building in the additional cost for the earthquake resisting structure? भूकंप प्रतिरोध संरचना के लिए अतिरिक्त लागत में भवन की संरचनात्मक लागत का कितना प्रतिशत है? A1 : About 1% लगभग 1% A2 : About 2% लगभग 2% A3 : About 3% लगभग 3% A4 : About 5% लगभग 5%	2.0	0.00
Trade Theory				
33	33	What is the minimum thickness for making R.C. Bands? R.C बैंड बनाने के लिए न्यूनतम मोटाई क्या है? A1 : 25mm 25mm A2 : 50mm 50mm A3 : 75mm 75mm A4 : 100mm 100mm	2.0	0.00
Trade Theory				
34	34	What is the distance between two through stones? दो थ्रो स्टोन के बीच की दूरी होती है? A1 : 150 to 300mm 150 से 300mm A2 : 300 to 450mm	2.0	0.00

		300 से 450mm A3 : 450 to 600mm 450 से 600mm A4 : 600 to 750mm 600 से 750mm		
Trade Theory				
35	35	Which structure is the most important factor affecting the earthquake performance? संरचना में निम्नलिखित में से कौन सा सबसे महत्वपूर्ण कारक है जो इसके भूकंप के प्रदर्शन को प्रभावित करता है? A1 : Workability वर्कबिलिटी A2 : Serviceability सर्विसबिलिटी A3 : Flexibility फ्लेक्सिबिलिटी A4 : Responsibility रिस्पॉसिबिलिटी	2.0	0.00
Trade Theory				
36	36	Which precaution should be taken for site selection to prevent earthquake? भूकंप को रोकने के लिए स्थल चयन के लिए कौन सी सावधानी बरती जानी चाहिए? A1 : Near unstable embankments अस्थिर तटबंधों के पास A2 : On sloping ground ढलान वाली जमीन पर A3 : Columns of different height अलग-अलग ऊंचाई के स्तंभ A4 : Continuity of subsoil सबसॉइल की निरंतरता	2.0	0.00
Trade Theory				
37	37	Which shape of building plan is safer for earthquake resisting building? भवन निर्माण योजना का कौन सा आकार भूकंप के विरोध में सुरक्षित है? A1 : Square plan वर्गाकार प्लान A2 : T- shaped plan T- आकार का प्लान A3 : H- shaped plan H-आकार का प्लान A4 : Plan have length more than twice the width प्लान की लंबाई मोरीथन की चौड़ाई से दोगुनी	2.0	0.00
Trade Theory				
38	38	What is the name of the figure? आकृति का नाम क्या है? 	2.0	0.00

		A1 : Isolation bearings आइसोलेशन बीयरिंग A2 : Viscous damper विसकस डैम्पर A3 : Friction damper घर्षण डैम्पर A4 : Yielding damper यील्डिंग डैम्पर		
Trade Theory				
39	39	Which device act like shock absorbers between the building and its foundation? भवन और इसकी नींव के बीच कौन सा उपकरण शॉक अवशोषक की तरह काम करता है? A1 : Damper डैम्पर A2 : Spring स्प्रिंग A3 : Base isolation बेस आइसोलेशन A4 : Air bag एयर बैग	2.0	0.00
Trade Theory				
40	40	Which isolation bearings are highly elastic? कौन सी आइसोलेशन बीयरिंग अत्यधिक लोचदार हैं? A1 : Wood लकड़ी A2 : Steel इस्पात A3 : Rubber रबर A4 : Bearing pads बियरिंग पैड	2.0	0.00
Trade Theory				
41	41	What is to be done, if the phone line system will be jammed after earth quake? निम्नलिखित में से कौन सा विकल्प लिया जाता है, अगर धरती के भूकंप के बाद फोन लाइन सिस्टम जाम हो जाएगा? A1 : Text messages मूल संदेश A2 : Call loudly कॉल लाउडली A3 : Call through phone फोन के जरिए बुलाना A4 : Whats app call व्हाट्स एप कॉल	2.0	0.00
Trade Theory				
42	42	Which operation need to be done during earthquake? भूकंप के दौरान निम्नलिखित में से कौन सा ऑपरेशन करने की आवश्यकता है? A1 : Standing near the window	2.0	0.00

		<p>खिड़की के पास खड़ा होना</p> <p>A2 : Collect and put together an emergency kit</p> <p>कोलेट और एक आपातकालीन किट को एक साथ रखना</p> <p>A3 : Check your gas lines</p> <p>अपनी गैस लाइनों की जाँच करना</p> <p>A4 : Cover and hold on under a desk/table</p> <p>डेस्क/टेबल के नीचे ढककर रखना</p>		
Trade Theory				
43	43	<p>What is the size of play ground for 1000 pupils in primary school?</p> <p>प्राथमिक विद्यालय में 1000 विद्यार्थियों के लिए खेल के मैदान का आकार क्या है?</p> <p>A1 : 0.50 Hectare</p> <p>0.50 हेक्टेयर</p> <p>A2 : 0.40 Hectare</p> <p>0.40 हेक्टेयर</p> <p>A3 : 0.30 Hectare</p> <p>0.30 हेक्टेयर</p> <p>A4 : 0.20 Hectare</p> <p>0.20 हेक्टेयर</p>	2.0	0.00
Trade Theory				
44	44	<p>Which authority provides park in city?</p> <p>कौन सा प्राधिकरण शहर में पार्क उपलब्ध कराता है?</p> <p>A1 : Public works department</p> <p>लोक निर्माण विभाग</p> <p>A2 : Town planning</p> <p>टाउन प्लानिंग</p> <p>A3 : Municipal corporation</p> <p>म्युनिसिपल कॉर्पोरेशन</p> <p>A4 : Nagar nigam</p> <p>नगर निगम</p>	2.0	0.00
Workshop Calculation and Science				
45	45	<p>What is the radius of a circle whose diameter is 44 cm?</p> <p>वृत्त की त्रिज्या क्या है जिसका व्यास 44cm है?</p> <p>A1 : 44 cm</p> <p>44 cm</p> <p>A2 : 22 cm</p> <p>22 cm</p> <p>A3 : 23 cm</p> <p>23 cm</p> <p>A4 : 20 cm</p> <p>20 cm</p>	2.0	0.00
Workshop Calculation and Science				
46	46	<p>What is the value of x if $13+x=20$?</p> <p>यदि $13+x=20$ है तो x का मान क्या है?</p> <p>A1 : 8</p> <p>8</p>	2.0	0.00

		A2 7 : 7 A3 9 : 9 A4 13 : 13		
Workshop Calculation and Science				
47	47	What is the formula for $a^m \times a^n$? $a^m \times a^n$ के लिए फार्मूला क्या है? A1 a^{m+n} : a^{m+n} A2 a^{m-n} : a^{m-n} A3 a^{mn} : a^{mn} A4 $n.a^m$: $n.a^m$	2.0	0.00
Workshop Calculation and Science				
48	48	Which is equal to $(a^m)^n$? $(a^m)^n$ किसके बराबर हो। A1 a^{m-n} : a^{m-n} A2 a^{m+n} : a^{m+n} A3 $a^{m/n}$: $a^{m/n}$ A4 a^{mn} : a^{mn}	2.0	0.00
Workshop Calculation and Science				
49	49	What is the expanded form of $(a+b)^2$? $(a+b)^2$ का विस्तारित रूप क्या है? A1 $a^2 + 2ab + b^2$: $a^2 + 2ab + b^2$ A2 $a^2 - 2ab + b^2$: $a^2 - 2ab + b^2$ A3 $a^2 + 2ab - b^2$: $a^2 + 2ab - b^2$ A4 $-a^2 - 2ab + b^2$: $-a^2 - 2ab + b^2$	2.0	0.00
Workshop Calculation and Science				
50	50	What is the formula for $(a-b)^2$? $(a-b)^2$ का सूत्र क्या है? A1 $a^2 - 2ab + b^2$: $a^2 - 2ab + b^2$	2.0	0.00

		<p>A2 : $a^2 + 2ab + b^2$</p> <p>A3 : $a^2 - 2ab - b^2$</p> <p>A4 : $-a^2 - 2ab - b^2$</p>		
Employability Skills				
51	51	<p>Which one will help us to maintain the balance between mental and physical activities? मानसिक और शारीरिक गतिविधियों के बीच संतुलन बनाए रखने में कौन सा हमारी मदद करेगा?</p> <p>A1 : Hobbies हॉबी</p> <p>A2 : Running रनिंग</p> <p>A3 : Walking वॉकिंग</p> <p>A4 : Reading रीडिंग</p>	2.0	0.00
Employability Skills				
52	52	<p>Important factors of a good resume need to be checked are _____ एक अच्छे बायोडाटा के लिए जिन महत्वपूर्ण कारकों की जांच की जानी चाहिए वे हैं _____</p> <p>A1 : paper quality कागज की गुणवत्ता</p> <p>A2 : company details कंपनी का विवरण</p> <p>A3 : free from spelling, grammar mistakes, correct information वर्तनी, व्याकरण संबंधी गलतियों से मुक्त, सही जानकारी</p> <p>A4 : attractive words आकर्षक शब्द</p>	2.0	0.00
Employability Skills				
53	53	<p>Role models _____ people to follow them उपयुक्त वर्णनात्मक शब्दों से वाक्य पूरा करें Role models _____ people to follow them</p> <p>A1 : elevate elevate</p> <p>A2 : instruct instruct</p> <p>A3 : inspire inspire</p> <p>A4 : motivate motivate</p>	2.0	0.00
Employability Skills				
54	54	<p>The conditions in a place that affect the behaviour and development of somebody or something is called _____ किसी स्थान की परिस्थितियाँ जो किसी व्यक्ति या वस्तु के व्यवहार और विकास को प्रभावित करती हैं, _____ कहलाती हैं</p> <p>A1 : neighbourhood नेबरहुड</p> <p>A2 : environment</p>	2.0	0.00

		पर्यावरण A3 : locality स्थानीयता A4 : facilities सुविधाएं		
Employability Skills				
55	55	Which kind of persons are with very good behaviour, achievements and lead as an example? किस तरह के व्यक्ति बहुत अच्छे व्यवहार, उपलब्धियों और नेतृत्व के उदाहरण होते हैं? A1 : Customer service executives कस्टमर सर्विस एग्जीक्यूटिव A2 : ITI instructors ITI इंस्ट्रक्टर A3 : Role models रोल मॉडल A4 : Sales supervisors सेल्स सुपरवाइजर	2.0	0.00
Employability Skills				
56	56	Fill up the blanks with suitable words so as to become a meaningful sentence. There _____ a coffee shop _____ the park. रिक्त स्थानों को उचित शब्दों से भरें ताकि एक सार्थक वाक्य बन सके। There _____ a coffee shop _____ the park. A1 : are, next to are, next to A2 : is, next to is, next to A3 : is, next is, next A4 : are, next are, next	2.0	0.00
Employability Skills				
57	57	Fill up the blanks with suitable words so as to become a meaningful sentence. Rainwater harvesting _____ to prevent water scarcity रिक्त स्थानों को उचित शब्दों से भरें ताकि एक सार्थक वाक्य बन सके। Rainwater harvesting _____ to prevent water scarcity A1 : gives gives A2 : gave gave A3 : help help A4 : helps helps	2.0	0.00
Employability Skills				
58	58	Fill up the blanks with suitable words so as to become a meaningful sentence. There are many dos and don'ts to be _____ while preparing for/attending an _____ रिक्त स्थानों को उचित शब्दों से भरें ताकि एक सार्थक वाक्य बन सके। There are many dos and don'ts to be _____ while preparing for/ attending an _____ A1 : there, interview there, interview	2.0	0.00

		A2 : identify, interview identify, interview A3 : identified, interviewed identified, interviewed A4 : identified, interview identified, interview		
Employability Skills				
59	59	Miscommunication can lead to _____ मिस कम्युनिकेशन(संचार) से _____ हो सकता है । A1 : build relationships रिलेशनशिप बिल्ड करने में A2 : create misunderstanding गलतफहमी पैदा करने में A3 : successful planning सफल योजना बनाने में A4 : see effective results प्रभावी परिणाम देखने में	2.0	0.00
Employability Skills				
60	60	What is required for effective communication? प्रभावी संचार के लिए क्या आवश्यक है? A1 : Keep Listening सुनते रहना A2 : Keep Talking बोलते रहना A3 : Listen and talk carefully ध्यान से सुनना और बात करना A4 : Listen carefully ध्यान से सुनें	2.0	0.00
Employability Skills				
61	61	What is stress? स्ट्रेस(तनाव) क्या है? A1 : Feeling of joy आनंद की अनुभूति A2 : Feeling of surprise आश्चर्य का भाव A3 : Feeling of delight आनंद की अनुभूति A4 : Feeling of frustration/ disappointment हताशा/निराशा की भावना	2.0	0.00
Employability Skills				
62	62	A person with high emotional intelligence has _____ उच्च भावनात्मक बुद्धिमत्ता वाले व्यक्ति के पास _____ होता है । A1 : physical strength फिजिकल स्ट्रेंथ A2 : ego	2.0	0.00

		ईगो A3 : lot of positive qualities बहुत सारे सकारात्मक गुण A4 : lot of negative qualities बहुत सारे नकारात्मक गुण		
Employability Skills				
63	63	What is the process of formally introducing oneself called? औपचारिक रूप से अपना परिचय देने की प्रक्रिया को क्या कहते हैं? A1 : Self-introduction सेल्फ-इंट्रोडक्शन A2 : Hiring हायरिंग A3 : Decision डिसिशन A4 : Seeking सीकिंग	2.0	0.00
Employability Skills				
64	64	The word 'resume' comes from French and means _____. रेज़्यूमे' शब्द फ्रेंच भाषा से आया है और इसका अर्थ _____ है। A1 : summary संक्षेप A2 : education शिक्षा A3 : experience अनुभव A4 : placement प्लेसमेंट	2.0	0.00
Employability Skills				
65	65	Which of the following are included in a resume? बायोडेटा में निम्नलिखित में से क्या शामिल होता है? A1 : Hobbies, favorite foods, and personal interests शौक, पसंदीदा भोजन और व्यक्तिगत रुचियाँ A2 : Childhood memories, dreams, and aspirations बचपन की यादें, सपने और आकांक्षाएँ A3 : Daily routine, favorite movies, and vacation plans दैनिक दिनचर्या, पसंदीदा फिल्में और छुट्टियों की योजनाएँ A4 : Contact information, educational details, skills and work experience संपर्क जानकारी, शैक्षिक विवरण, कौशल और कार्य अनुभव	2.0	0.00
Employability Skills				
66	66	While applying for a job, the covering letter should be easy to read by means of _____. नौकरी के लिए आवेदन करते समय कवरींग लेटर को _____ के माध्यम से पढ़ना आसान होना चाहिए। A1 : long descriptions. लम्बे विवरण A2 : dividing the text into shorter paragraphs. टेक्स्ट को छोटे-छोटे पैराग्राफों में विभाजित कर	2.0	0.00

		<p>A3 : increasing the font size. फ्रॉन्ट आकार बढ़ा कर</p> <p>A4 : extra curricular activities. अतिरिक्त पाठ्यचर्या संबंधी गतिविधियों</p>		
Employability Skills				
67	67	<p>After preparing the resume, the next important step to do is ____ बायोडाटा तैयार करने के बाद अगला महत्वपूर्ण कदम है ____</p> <p>A1 : sending the resume to the employer. एम्प्लायर को बायोडाटा भेजना</p> <p>A2 : writing an impressive cover letter. एक प्रभावशाली कवर लेटर लिखना</p> <p>A3 : preparing for interview. साक्षात्कार की तैयारी करना</p> <p>A4 : applying for the job. नौकरी के लिए आवेदन करना</p>	2.0	0.00
Employability Skills				
68	68	<p>While reviewing a resume which is very important to keep in mind? बायोडाटा की समीक्षा करते समय किस बात का ध्यान रखना बहुत जरूरी है?</p> <p>A1 : Salary details वेतन विवरण</p> <p>A2 : Lot of information to get the job नौकरी पाने के लिए बहुत सारी जानकारी</p> <p>A3 : Interest and hobbies रुचि एवं शौक</p> <p>A4 : Highlight skills and qualifications that match the job नौकरी से मेल खाने वाले कौशल और योग्यताओं पर प्रकाश डालना</p>	2.0	0.00
Employability Skills				
69	69	<p>While applying for a job, important information should mention in the covering letter is ____ नौकरी के लिए आवेदन करते समय, कवरींग लेटर में महत्वपूर्ण जानकारी का उल्लेख होना चाहिए ____</p> <p>A1 : salary expectations. वेतन अपेक्षाएँ</p> <p>A2 : education details. शिक्षा का विवरण</p> <p>A3 : reasons of suitable for the role. भूमिका के लिए उपयुक्त कारण</p> <p>A4 : hobbies. शौक</p>	2.0	0.00
Employability Skills				
70	70	<p>What is formal communication? फॉर्मल कम्युनिकेशन क्या है?</p> <p>A1 : All written communication सभी लिखित कम्युनिकेशन</p> <p>A2 : Official communication following a set of rules नियमों के एक सेट के बाद ऑफिसियल कम्युनिकेशन</p> <p>A3 : Talking with friends and family</p>	2.0	0.00

		<p>दोस्तों और परिवार के साथ बात करना</p> <p>A4 : Casual chatting on social media</p> <p>सोशल मीडिया पर कैजुअल चैटिंग</p>		
Employability Skills				
71	71	<p>Which of the following is a formal introduction in a job interview? निम्नलिखित में से कौन सा नौकरी साक्षात्कार में औपचारिक(फॉर्मल) परिचय है?</p> <p>A1 : "Hey, nice to meet you!"</p> <p>"हे, तुमसे मिलकर अच्छा लगा!"</p> <p>A2 : "Hi, whats your name?"</p> <p>"हाय, आपका नाम क्या है?"</p> <p>A3 : "hello.. You can start the interview!"</p> <p>"हैलो... आप इंटरव्यू शुरू कर सकते हैं!"</p> <p>A4 : "Good morning. Thank you for the opportunity."</p> <p>"सुप्रभात, अवसर देने के लिए धन्यवाद।"</p>	2.0	0.00
Employability Skills				
72	72	<p>What is an example of formal written communication? फॉर्मल रिटेन कम्युनिकेशन का उदाहरण क्या है?</p> <p>A1 : Texting a friend</p> <p>किसी मित्र को संदेश भेजना</p> <p>A2 : Sending a WhatsApp message</p> <p>व्हाट्सएप पर संदेश भेजना</p> <p>A3 : Writing an email to your manager</p> <p>अपने प्रबंधक को एक ईमेल लिखना</p> <p>A4 : Posting on social media platforms</p> <p>सोशल मीडिया प्लेटफॉर्म पर पोस्ट करना</p>	2.0	0.00
Employability Skills				
73	73	<p>During a job interview, if you couldn't hear or understand a question, what would you say? नौकरी के लिए इंटरव्यू के दौरान यदि आप किसी प्रश्न को सुन या समझ नहीं पाते, तो आप क्या कहेंगे?</p> <p>A1 : "Sorry! I didn't understand. Could you please repeat the question?"</p> <p>"क्षमा करें! मुझे समझ नहीं आया। क्या आप कृपया प्रश्न दोबारा दोहरा सकते हैं?"</p> <p>A2 : "Hey, can you repeat that? I wasn't paying attention."</p> <p>"अरे, क्या तुम उसे दोहरा सकते हो? मैं ध्यान नहीं दे रहा था।"</p> <p>A3 : "I am lost. Can you say it again?"</p> <p>"मैं खो गया हूँ। क्या आप इसे फिर से कह सकते हैं?"</p> <p>A4 : "Speak clearly and repeat the question."</p> <p>"स्पष्ट रूप से बोलें और प्रश्न दोहराएँ।"</p>	2.0	0.00
Employability Skills				
74	74	<p>During a job interview, which of the following responses shows good formal communication? नौकरी के लिए साक्षात्कार के दौरान, निम्नलिखित में से कौन सी प्रतिक्रिया अच्छा फॉर्मल कम्युनिकेशन दर्शाती है?</p> <p>A1 : "I'm pretty good at a lot of things."</p> <p>"मैं बहुत सी चीजों में बहुत अच्छा हूँ।"</p> <p>A2 : "Uh, I guess I can do a little bit of everything."</p> <p>"उह, मुझे लगता है कि मैं थोड़ा-थोड़ा सब कुछ कर सकता हूँ।"</p> <p>A3 : "My top three skills are problem-solving, teamwork, and attention to detail."</p> <p>"मेरे टॉप तीन कौशल हैं प्रॉब्लम-सॉल्विंग, टीम वर्क, और डिटेल पर ध्यान देना।"</p>	2.0	0.00

		A4 : "I don't know, I never really thought about it." "मैं नहीं जानता, मैंने वास्तव में इसके बारे में कभी नहीं सोचा था।"		
Employability Skills				
75	75	What is "informal communication"? "इनफॉर्मल कम्युनिकेशन" क्या है? A1 : All verbal communication सभी वर्बल कम्युनिकेशन A2 : Official communication following a set of rules नियमों के एक सेट का पालन करते हुए ऑफिशियल कम्युनिकेशन A3 : Casual conversations outside of official work arrangements ऑफिशियल वर्क अरेंजमेंट से बाहर कैसुअल कन्वर्सेशन A4 : Talking at official meetings ऑफिशियल मीटिंग्स में बात करना	2.0	0.00



SAMPLE QUESTION PAPER SET 2

Draughtsman Civil - 2nd Year - Set 2

S.No.	Correct Answer Key
1	A1
2	A1
3	A3
4	A3
5	A3
6	A3
7	A3
8	A3
9	A2
10	A3
11	A3
12	A3
13	A3
14	A3
15	A3
16	A2
17	A2
18	A2
19	A3
20	A2
21	A2
22	A3
23	A1
24	A2
25	A3
26	A4
27	A2
28	A3
29	A1
30	A2
31	A2
32	A4
33	A3
34	A4
35	A3
36	A4
37	A1
38	A2

S.No.	Correct Answer Key
39	A3
40	A3
41	A1
42	A4
43	A2
44	A2
45	A2
46	A2
47	A1
48	A4
49	A1
50	A1
51	A1
52	A3
53	A3
54	A2
55	A3
56	A2
57	A4
58	A4
59	A2
60	A3
61	A4
62	A3
63	A1
64	A1
65	A4
66	A2
67	A2
68	A4
69	A3
70	A2
71	A4
72	A3
73	A1
74	A3
75	A3

Note:

"In case answers found to be inaccurate due to typographical error or any other reason please sent mail to qbnimigrievance@gmail.com"