

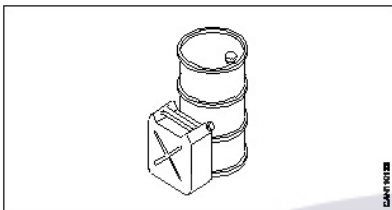
ALL INDIA TRADE TEST - 2024 FOR CRAFTSMEN
TRAINING SCHEME (CTS)
Trade Name: Wood Work Technician
Year: 1st Year

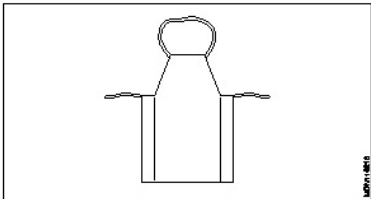
Exam Date :

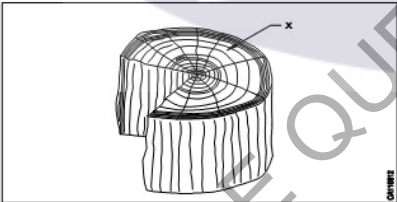
Exam Time :

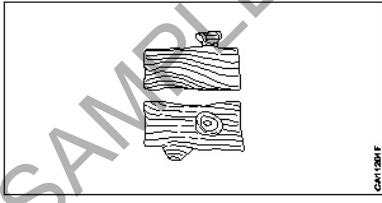
Note:

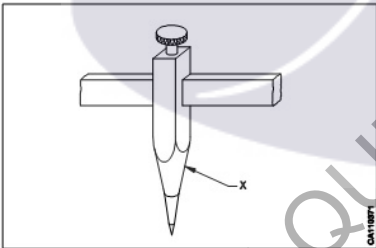
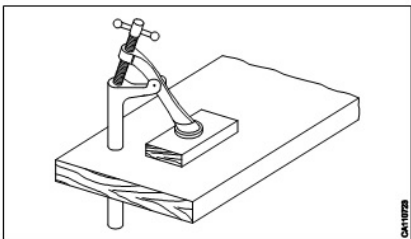
1. Tick the correct option out of four alternatives provided
2. All questions carry equal marks (2 Marks each)
3. There is no negative marking

| Sr. No. | Q ID | Question Body and Alternatives | Marks | Negative Marks |
|--------------|------|---|-------|----------------|
| Trade Theory | | | | |
| 1 | 1 | <p>What is the name of the fire shown in the figure?</p> <p>अग्नि का नाम क्या है?</p>  <p>A1 Class 'A' fire : Class 'A' fire</p> <p>A2 Class 'B' fire : Class 'B' fire</p> <p>A3 Class 'C' fire : Class 'C' fire</p> <p>A4 Class 'D' fire : Class 'D' fire</p> | 2.0 | 0.00 |
| Trade Theory | | | | |
| 2 | 2 | <p>Which type of PPE is required for the protection of legs?</p> <p>पैरों की सुरक्षा के लिए किस प्रकार का PPE आवश्यक है?</p> <p>A1 Chappals : चप्पल</p> <p>A2 Safety shoes : सुरक्षा के जूते</p> <p>A3 Canvas shoes : कैनवास के जूते</p> <p>A4 Sandals : सैंडल्स</p> | 2.0 | 0.00 |
| Trade Theory | | | | |
| 3 | 3 | <p>Which is an element of house keeping?</p> <p>हाउस कीपिंग का एक तत्व कौन सा है?</p> <p>A1 Improper store : अनुचित स्टोर</p> | 2.0 | 0.00 |

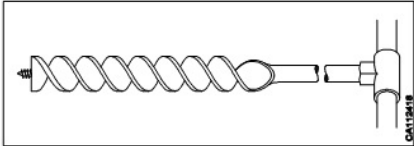
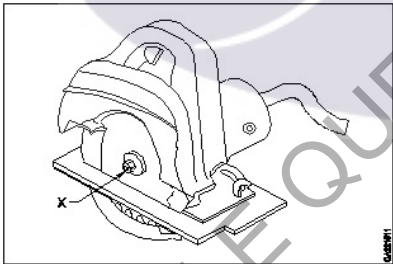
| | | | | |
|--------------|---|--|-----|------|
| | | <p>A2 Clean flooring : साफ फर्श</p> <p>A3 Improper maintenance : अनुचित रखरखाव</p> <p>A4 Dim lighting : मंद प्रकाश</p> | | |
| Trade Theory | | | | |
| 4 | 4 | <p>What is the name of the PPE shown in the figure? PPE का नाम क्या है?</p>  <p>A1 Apron : एप्रन</p> <p>A2 Helmet : हेलमेट</p> <p>A3 Gloves : दस्ताने</p> <p>A4 Goggles : काले चश्मे</p> | 2.0 | 0.00 |
| Trade Theory | | | | |
| 5 | 5 | <p>Which type of tree grows new layers of wood on the outside of the tree trunk? ट्रंक के बाहर किस पेड़ पर नई परतें उगती हैं?</p> <p>A1 Endogenous tree : अंतर्जात वृक्ष</p> <p>A2 Conifers tree : शंकुधारी वृक्ष</p> <p>A3 Exogenous tree : बहिर्जात वृक्ष</p> <p>A4 Narrow leaves tree : संकीर्ण पत्तों वाला वृक्ष</p> | 2.0 | 0.00 |
| Trade Theory | | | | |
| 6 | 6 | <p>Which tree has lengthy needle shaped leaves? किस पेड़ में सुई के आकार के पत्ते होते हैं जो तापमान क्षेत्रों और उच्च ऊंचाई पर उगते हैं?</p> <p>A1 Soft wood : सॉफ्ट वुड</p> <p>A2 Hard wood : हार्डवुड</p> <p>A3 True wood : ट्रू वुड</p> <p>A4 Duramen wood : ड्युरामेन वुड</p> | 2.0 | 0.00 |

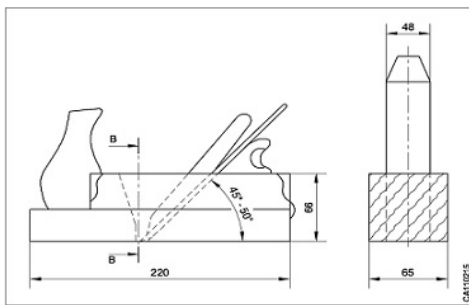
| Trade Theory | | | |
|--------------|----|---|-------------|
| 7 | 7 | <p>Which part of wood protects the soft tissues of wood? लकड़ी का कौन सा हिस्सा बाहरी नष्ट करने वाली एजेंसियों से बचाता है?</p> <p>A1 Pith : पिथ</p> <p>A2 Bark : बार्क</p> <p>A3 Annular ring : वलयाकार रिंग</p> <p>A4 Medullary rays : मेडुलरी रे</p> | 2.0 0.00 |
| Trade Theory | | | |
| 8 | 8 | <p>What is the name of a fully developed wood that surrounds the pith? पूरी तरह से विकसित लकड़ी का नाम क्या है जो पिथ के चारों ओर रहता है?</p> <p>A1 Sap wood : सैप वुड</p> <p>A2 Soft wood : सॉफ्ट वुड</p> <p>A3 Heartwood : हार्टवुड</p> <p>A4 Light wood : लाइट वुड</p> | 2.0 0.00 |
| Trade Theory | | | |
| 9 | 9 | <p>What is the name of the part marked as 'x' shown in the figure? X' के रूप में चिह्नित भाग क्या है?</p>  <p>A1 Sap wood : सैप वुड</p> <p>A2 Heartwood : हार्टवुड</p> <p>A3 Bark : बार्क</p> <p>A4 Pith : पिथ</p> | 2.0 0.00 |
| Trade Theory | | | |
| 10 | 10 | <p>Which tree has short trunk and large branches? किस पेड़ में छोटा तना और बड़ी शाखाएँ होती हैं?</p> <p>A1 Teak : टीक</p> <p>A2 Babul : बबूल</p> | 2.0 0.00 |

| | | | | |
|--------------|----|---|-----|------|
| | | A3 Bamboo : बांस A4 Shisham : शीशम | | |
| Trade Theory | | | | |
| 11 | 11 | Which timber is closely grained, hard and durable? कौन सी टिम्बर बारीकी से रेशेदार, कठोर और टिकाऊ होती है? A1 Kail : कैल A2 Chir : चिर A3 Teak : टीक A4 Deodar : देवदार | 2.0 | 0.00 |
| Trade Theory | | | | |
| 12 | 12 | Which shake forms along the annual rings? वार्षिक वलय के साथ शेक फॉर्म का नाम बताइए। A1 Cup shake : कप शेक A2 Star shake : स्टार शेक A3 Heart shake : हार्ट शेक A4 Radial shake : रेडियल शेक | 2.0 | 0.00 |
| Trade Theory | | | | |
| 13 | 13 | What is the name of the defect shown in the figure? चित्र में दिखाए गए दोष का नाम क्या है?  A1 Wavy grain : वेवी ग्रेन A2 Rind galls : रिड गॉल्स A3 Wind crack : विंड क्रेक A4 Ring shake : रिंग शेक | 2.0 | 0.00 |
| Trade Theory | | | | |
| 14 | 14 | Which insect attacks standing trees? कौन से कीट खड़े पेड़ों पर हमला करते हैं? | 2.0 | 0.00 |

| | | | | |
|--------------|----|---|-----|------|
| | | <p>A1 Termite : दीमक</p> <p>A2 White ants : सफेद चींटियाँ</p> <p>A3 Pin hole borers : पिन होल बोरर्स</p> <p>A4 Powder post beetles : पाउडर पोस्ट बीटल</p> | | |
| Trade Theory | | | | |
| 15 | 15 | <p>Which gauge stem is long? कौन सा गेज स्टेम लंबा होता है?</p> <p>A1 Butt gauge : बट गेज</p> <p>A2 Panel gauge : पैनल गेज</p> <p>A3 Cutting gauge : कटिंग गेज</p> <p>A4 Marking gauge : मार्किंग गेज</p> | 2.0 | 0.00 |
| Trade Theory | | | | |
| 16 | 16 | <p>What is the name of the part marked as "x" shown in the figure? ट्रामेल में "x" के रूप में चिह्नित भाग का नाम क्या है?</p>  <p>A1 Point : पॉइंट</p> <p>A2 Holder : होल्डर</p> <p>A3 Wooden batten : लकड़ी का बैटन</p> <p>A4 Knurled screw : घुमावदार स्कू</p> | 2.0 | 0.00 |
| Trade Theory | | | | |
| 17 | 17 | <p>What is the name of the holding device shown in the figure? होल्डिंग डिवाइस का नाम क्या है?</p>  | 2.0 | 0.00 |

| | | | | |
|--------------|----|---|-----|------|
| | | <p>A1 Shooting board : शूटिंग बोर्ड</p> <p>A2 Planning troughs : प्लेनिंग ट्रफ</p> <p>A3 Bench hold fast : बेंच होल्ड फ़ास्ट</p> <p>A4 Cleat : द क्लिट</p> | | |
| Trade Theory | | | | |
| 18 | 18 | <p>How many inches are in one feet on a steel rule? स्टील रूल में एक फ़ीट कितने इंचों से बनता है?</p> <p>A1 10 inches : 10 इंच</p> <p>A2 12 inches : 12 इंच</p> <p>A3 14 inches : 14 इंच</p> <p>A4 16 inches : 16 इंच</p> | 2.0 | 0.00 |
| Trade Theory | | | | |
| 19 | 19 | <p>What is the name of the vice shown in the figure? वाइस का नाम क्या है?</p>  <p>A1 Saw vice : सॉ वाइस</p> <p>A2 Bench vice : बेंच वाइस</p> <p>A3 Hand vice : हैंड वाइस</p> <p>A4 Quick release vice : क्विक रिलीज वाइस</p> | 2.0 | 0.00 |
| Trade Theory | | | | |
| 20 | 20 | <p>What is the name of the tool shown in the figure? ड्रिल बिट का नाम क्या है?</p>  <p>A1 Dowel bit : डोवेल बिट</p> | 2.0 | 0.00 |

| | | | | |
|--------------|----|---|-----|------|
| | | <p>A2 Auger bit : ऑगर बिट</p> <p>A3 Forstner bit : फोरस्टर बिट</p> <p>A4 Centre bit : सेंटर बिट</p> | | |
| Trade Theory | | | | |
| 21 | 21 | <p>What is the name of the tool shown in figure? एक लंबे शंक के साथ कौनसा उपकरण होता है?</p>  <p>A1 Auger : ऑगर</p> <p>A2 Gimlet : जिमलेट</p> <p>A3 Bradawl : ब्राडॉल</p> <p>A4 Forstner bit : फोरस्टर बिट</p> | 2.0 | 0.00 |
| Trade Theory | | | | |
| 22 | 22 | <p>What is the name of the part marked as 'X' shown in figure? पोर्टेबल पावर सर्कुलर सॉ मशीन में 'X' के रूप में चिह्नित भाग क्या है?</p>  <p>A1 Handle : हैंडल</p> <p>A2 Arbor : आर्बर</p> <p>A3 Cutting guide : कटिंग गाइड</p> <p>A4 Base plate : बेस प्लेट</p> | 2.0 | 0.00 |
| Trade Theory | | | | |
| 23 | 23 | <p>What is the name of the plane shown in figure? लकड़ी का काम करने वाले प्लेन का नाम क्या है?</p> | 2.0 | 0.00 |



A1 Router plane

:

राउटर प्लेन

A2 Plough plane

:

प्लॉग प्लेन

A3 Tothing plane

:

टूथिंग प्लेन

A4 Finishing plane

:

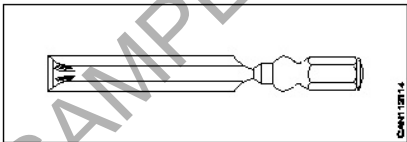
फिनिशिंग प्लेन

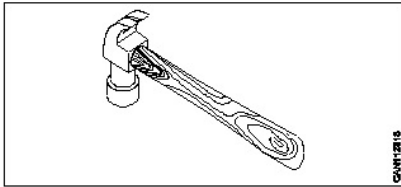
Trade Theory

| | | | | |
|----|----|---|-----|------|
| 24 | 24 | <p>What is the name of the part marked as "x" shown in figure?</p> <p>X के रूप में चिह्नित भाग क्या है?</p> <p>A1 Wedge</p> <p>:</p> <p>वेज</p> <p>A2 Cap iron</p> <p>:</p> <p>कैप आयरन</p> <p>A3 Cutting iron</p> <p>:</p> <p>कटिंग आयरन</p> <p>A4 Wooden stock</p> <p>:</p> <p>वुडन स्टॉक</p> | 2.0 | 0.00 |
|----|----|---|-----|------|

Trade Theory

| | | | | |
|----|----|--|-----|------|
| 25 | 25 | <p>What is the name of the part marked as 'X' shown in figure?</p> <p>पोर्टेबल पावर प्लेनिंग मशीन में 'X' के रूप में चिह्नित भाग क्या है?</p> <p>A1 Front shoe</p> <p>:</p> <p>फ्रंट शू</p> <p>A2 Rear shoe</p> <p>:</p> | 2.0 | 0.00 |
|----|----|--|-----|------|

| | | | | |
|--------------|----|---|-----|------|
| | | रियर शू A3 : Lock knob लॉक नॉब A4 : Trigger switch ट्रिगर स्विच | | |
| Trade Theory | | | | |
| 26 | 26 | Which material is used in the manufacturing of the chisel blade? चीज़ल की ब्लेड के निर्माण के लिए किस सामग्री का उपयोग किया जाता है? A1 : Mild steel माइल्ड स्टील A2 : Carbon steel कार्बन स्टील A3 : Low carbon steel लो कार्बन स्टील A4 : Forged tool steel फोर्ज्ड टूल स्टील | 2.0 | 0.00 |
| Trade Theory | | | | |
| 27 | 27 | Which part is fixed inside the ferrule of a bench firmer chisel? बेंच फर्मर चीज़ल में फेरुल के अंदर कौन सा हिस्सा फिक्स किया जाता है? A1 : Tang टैंग A2 : Neck नैक A3 : Shoulder शोल्डर A4 : Blade ब्लेड | 2.0 | 0.00 |
| Trade Theory | | | | |
| 28 | 28 | What is the name of the chisel shown in the figure? चीज़ल का नाम क्या है?  A1 : Paring chisel पारिंग चीज़ल A2 : Socket firmer chisel सॉकेट फर्मर चीज़ल A3 : Bench firmer chisel बेवेल एज फर्मर चीज़ल A4 : Registered firmer chisel रजिस्टर्ड फर्मर चीज़ल | 2.0 | 0.00 |
| Trade Theory | | | | |
| 29 | 29 | What is the name of the hammer shown in the figure? हैमर का नाम क्या है? | 2.0 | 0.00 |



A1 : Ball peen hammer

बॉल पीन हैमर

A2 : Cross peen hammer

क्रॉस पीन हैमर

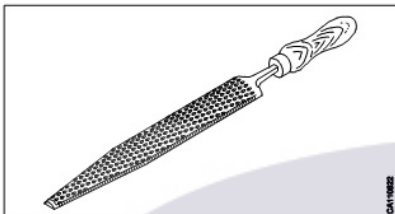
A3 : Claw hammer

क्लॉ हैमर

A4 : Straight peen hammer

स्ट्रेट पीन हैमर

Trade Theory

| | | | | |
|----|----|--|-----|------|
| 30 | 30 | <p>What is the name of the file shown in the figure?</p> <p>फ़ाइल का नाम क्या है?</p>  <p>A1 : Rasp file</p> <p>रास्प फ़ाइल</p> <p>A2 : Hand file</p> <p>हैंड फ़ाइल</p> <p>A3 : Flat file</p> <p>फ्लैट फ़ाइल</p> <p>A4 : Square file</p> <p>स्क्वायर फ़ाइल</p> | 2.0 | 0.00 |
|----|----|--|-----|------|

Trade Theory

| | | | | |
|----|----|--|-----|------|
| 31 | 31 | <p>Which safety equipment is used for eye protection while grinding a wood chisel?</p> <p>लकड़ी की चीज़ल की ग्राइंडिंग करते समय आंखों की सुरक्षा के लिए कौन से सुरक्षा उपकरण का उपयोग किया जाता है?</p> <p>A1 : Shoe</p> <p>जूता</p> <p>A2 : Helmet</p> <p>हेलमेट</p> <p>A3 : Goggles</p> <p>काले चश्मे</p> <p>A4 : Apron</p> <p>एप्रन</p> | 2.0 | 0.00 |
|----|----|--|-----|------|

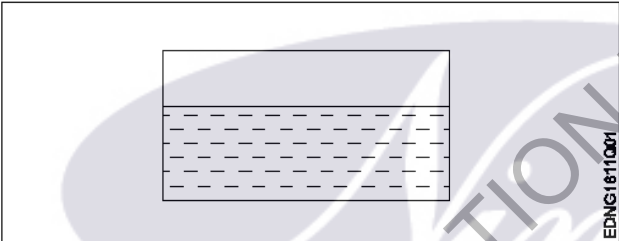
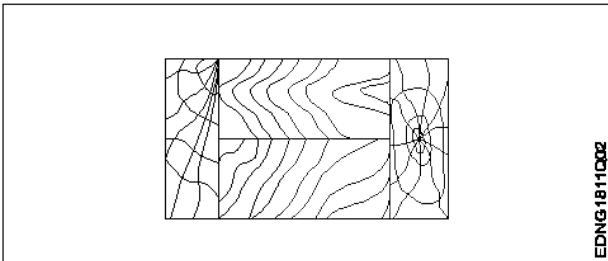
Trade Theory

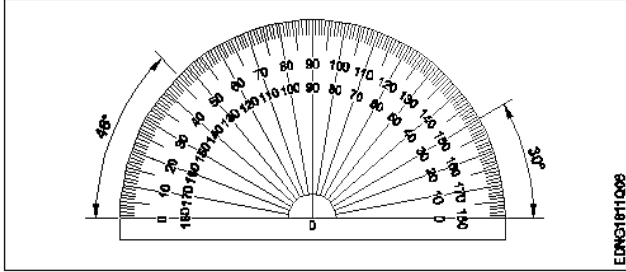
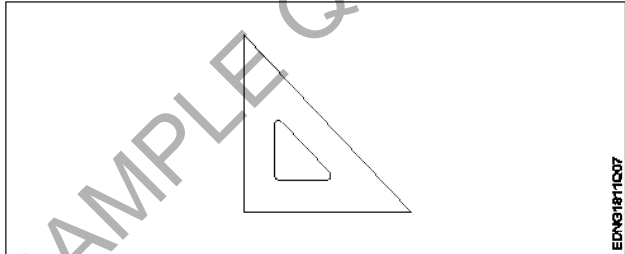
| | | | | |
|----|----|--|-----|------|
| 32 | 32 | <p>What is the use of a Sal wood?</p> <p>साल की लकड़ी का क्या उपयोग है?</p> <p>A1 : Roofing ladder</p> | 2.0 | 0.00 |
|----|----|--|-----|------|

| | | | | |
|--------------|----|---|-----|------|
| | | <p>छत की सीढ़ी बनाने में</p> <p>A2 : Umbrella handle</p> <p>छाते का हैंडल बनाने में</p> <p>A3 : Walking stick</p> <p>चलने वाली छड़ी बनाने में</p> <p>A4 : Railway sleepers</p> <p>रेलवे स्लीपर्स बनाने में</p> | | |
| Trade Theory | | | | |
| 33 | 33 | <p>Which tool is used to check the squareness of edge?</p> <p>किनारे की सतह और खुरदरापन की जांच करने के लिए किस उपकरण का उपयोग किया जाता है?</p> <p>A1 : Try square</p> <p>ट्राई स्क्वायर</p> <p>A2 : Bevel square</p> <p>बेवल स्क्वायर</p> <p>A3 : Plumb bob</p> <p>प्लंब बॉब</p> <p>A4 : Straight edge</p> <p>स्ट्रेण्डर्ड वायर गेज</p> | 2.0 | 0.00 |
| Trade Theory | | | | |
| 34 | 34 | <p>Which saw is used for the cutting of grooves?</p> <p>किस साँ का उपयोग ग्रूव और रिबेट को काटने लिए किया जाता है?</p> <p>A1 : Portable electric circular hand saw</p> <p>पोर्टेबल इलेक्ट्रिक सर्कुलर साँ</p> <p>A2 : Portable electric jig saw</p> <p>पोर्टेबल इलेक्ट्रिक जिग साँ</p> <p>A3 : Portable electric chain saw</p> <p>पोर्टेबल इलेक्ट्रिक चेन साँ</p> <p>A4 : Vertical band saw</p> <p>वर्टिकल बैंड साँ</p> | 2.0 | 0.00 |
| Trade Theory | | | | |
| 35 | 35 | <p>Which type of wood has broad leaves?</p> <p>किस प्रकार की लकड़ी में चौड़ी पत्तियाँ होती हैं?</p> <p>A1 : Sap wood</p> <p>सेप वुड</p> <p>A2 : Soft wood</p> <p>सॉफ्ट वुड</p> <p>A3 : Thin wood</p> <p>थिन वुड</p> <p>A4 : Hard wood</p> <p>हार्ड वुड</p> | 2.0 | 0.00 |
| Trade Theory | | | | |
| 36 | 36 | <p>Which is the property of bamboo wood?</p> <p>बांस की लकड़ी के गुण क्या हैं?</p> <p>A1 : Light soft</p> | 2.0 | 0.00 |

| | | | | |
|------------------------------|----|--|-----|------|
| | | <p>हल्का नरम</p> <p>A2 : Large texture</p> <p>बड़ी बनावट</p> <p>A3 : Heavy weight</p> <p>भारी वजन</p> <p>A4 : Flexible</p> <p>लचीला</p> | | |
| Trade Theory | | | | |
| 37 | 37 | <p>What is the name of the knot shown in the figure?</p> <p>अंतिम दिखावट के लिए किस नॉट का उपयोग किया जाता है?</p>  <p>A1 : Loose knot</p> <p>लूस नॉट</p> <p>A2 : Dead knot</p> <p>डेड नॉट</p> <p>A3 : Live knot</p> <p>लाइव नॉट</p> <p>A4 : Spike knot</p> <p>स्पाइक नॉट</p> | 2.0 | 0.00 |
| Trade Theory | | | | |
| 38 | 38 | <p>Which tool is used to measure the thickness of a metal sheet?</p> <p>धातु शीट की मोटाई मापने के लिए किस टूल का उपयोग किया जाता है?</p> <p>A1 : Steel rule</p> <p>स्टील रूल</p> <p>A2 : Try square</p> <p>ट्राई स्कायर</p> <p>A3 : Marking gauge</p> <p>मार्किंग गेज</p> <p>A4 : Standard wire gauge</p> <p>स्टैंडर्ड वायर गेज</p> | 2.0 | 0.00 |
| Workshop Calculation Science | | | | |
| 39 | 39 | <p>What are the two classifications of system of units?</p> <p>इकाइयों की प्रणाली के दो प्रकार कौनसे हैं?</p> <p>A1 : British and Metric</p> <p>ब्रिटिश और मीट्रिक</p> <p>A2 : Gravitational and non-gravitational</p> <p>गुरुत्वाकर्षण और गैर-गुरुत्वाकर्षण</p> <p>A3 : Fundamental and derived</p> <p>मौलिक और व्युत्पन्न</p> | 2.0 | 0.00 |

| | | | | |
|------------------------------|----|--|-----|------|
| | | A4 : Metric and International मैट्रिक और इंटरनेशनल | | |
| Workshop Calculation Science | | | | |
| 40 | 40 | What are fundamental units? इनमे से मूलभूत इकाइयाँ कौन-कौनसी हैं? A1 : Length, Mass, Volume लंबाई, द्रव्यमान, आयतन A2 : Length, Mass, Time लंबाई, द्रव्यमान, समय A3 : Length, Mass, Area लंबाई, द्रव्यमान, क्षेत्रफल A4 : Length, Pressure, Volume लंबाई, दाब, आयतन | 2.0 | 0.00 |
| Workshop Calculation Science | | | | |
| 41 | 41 | What denotes letter 'M' in MKS system? MKS प्रणाली में 'M' अक्षर क्या दर्शाता है? A1 : Mile Mile A2 : Meter Meter A3 : Millimeter Millimeter A4 : Micron Micron | 2.0 | 0.00 |
| Workshop Calculation Science | | | | |
| 42 | 42 | Convert decimal 0.000659 to fraction. 0.000659 दशमलव भिन्न को साधारण भिन्न में बदलें? A1 : $\frac{659}{1000}$ A2 : $\frac{659}{10000}$ A3 : $\frac{659}{100000}$ A4 : $\frac{659}{1000000}$ | 2.0 | 0.00 |
| Workshop Calculation Science | | | | |
| 43 | 43 | What is the square root of 529? 529 का वर्गमूल क्या है? A1 : 13 13 A2 : 23 | 2.0 | 0.00 |

| | | | | |
|------------------------------|----|--|-----|------|
| | | 23 A3 : 33 33 A4 : 43 43 | | |
| Workshop Calculation Science | | | | |
| 44 | 44 | What is the square of 0.01? 0.01 का वर्ग क्या है? A1 : 0.001 0.001 A2 : 0.0001 0.0001 A3 : 0.00001 0.00001 A4 : 0.000001 0.000001 | 2.0 | 0.00 |
| Engineering Drawing | | | | |
| 45 | 45 | Identify the conventional symbol of material? चित्र में दिखाए गए सामग्री के पारंपरिक प्रतीक का पता लगाएं?  A1 : Water पानी A2 : Concrete ठोस A3 : Asbestos ऐस्बेस्टस A4 : Glass कांच | 2.0 | 0.00 |
| Engineering Drawing | | | | |
| 46 | 46 | Identify the conventional symbol of material? चित्र में दिखाए गए सामग्री के पारंपरिक प्रतीक का पता लगाएं?  A1 : Lead लेड | 2.0 | 0.00 |

| | | | | |
|---------------------|----|--|-----|------|
| | | <p>A2 Glass : कांच</p> <p>A3 Wood : लकड़ी</p> <p>A4 Paper : कागज़</p> | | |
| Engineering Drawing | | | | |
| 47 | 47 | <p>Identify the name of instrument? चित्र में दिखाए गए उपकरणों के नाम की पहचान करें?</p>  <p>A1 Set square : गुनिया</p> <p>A2 Protractor : चांदा</p> <p>A3 French curve : फ्रान्सीसी वक्र</p> <p>A4 'T' square : टी स्क्वायर</p> | 2.0 | 0.00 |
| Engineering Drawing | | | | |
| 48 | 48 | <p>Identify the name of set square? सेट स्क्वायर का नाम खोजें?</p>  <p>A1 15° set square : 15° सेट स्क्वायर</p> <p>A2 60° set square : 60° सेट स्क्वायर</p> <p>A3 30° set square : 30° सेट स्क्वायर</p> <p>A4 45° set square : 45° सेट स्क्वायर</p> | 2.0 | 0.00 |
| Engineering Drawing | | | | |
| 49 | 49 | <p>Compass used to draw for ____. कम्पास का उपयोग ____ को ड्रा करने के लिए किया जाता है.</p> | 2.0 | 0.00 |

- A1
: rectangle
आयत
- A2
: square
वर्ग
- A3
: circle
वृत्त
- A4
: triangle
त्रिकोण

Engineering Drawing

| | | | | |
|----|----|--|-----|------|
| 50 | 50 | <p>Which title block position is correct as standard practice? एक मानक अभ्यास के रूप में कौन सी शीर्षक ब्लॉक स्थिति सही है?</p> <p>A1 :</p>  <p>A2 :</p>  <p>A3 :</p>  <p>A4 :</p>  | 2.0 | 0.00 |
|----|----|--|-----|------|

Employability Skills

| | | | | |
|----|----|---|-----|------|
| 51 | 51 | <p>To be in a job or work is _____ नौकरी या काम में होना है</p> <p>A1 : Employ रोजगार</p> <p>A2 : Skill कौशल</p> <p>A3 : Knowledge ज्ञान</p> <p>A4 : Aptitude योग्यता</p> | 2.0 | 0.00 |
|----|----|---|-----|------|

| Employability Skills | | | | |
|----------------------|----|---|-----|------|
| 52 | 52 | <p>Information like date of birth, permanent address form a part of one's _____ in the resume.</p> <p>जन्म तिथि, स्थायी पता जैसी जानकारी रिज्यूमे में किसी के _____ का हिस्सा होती है।</p> <p>A1 : Career objectives कैरियर के उद्देश्यों</p> <p>A2 : Personal details व्यक्तिगत विवरण</p> <p>A3 : Achievements उपलब्धियों</p> <p>A4 : Qualifications योग्यता</p> | 2.0 | 0.00 |
| Employability Skills | | | | |
| 53 | 53 | <p>A person with a growth mindset is always willing to _____</p> <p>एक विकास मानसिकता वाला व्यक्ति हमेशा तैयार रहता है।</p> <p>A1 : relax आराम करने में</p> <p>A2 : grow, change, learn बढ़ो, बदलो, सीखो</p> <p>A3 : keep quiet चुप रहने में</p> <p>A4 : become rich अमीर बनने</p> | 2.0 | 0.00 |
| Employability Skills | | | | |
| 54 | 54 | <p>Jobs that have become outdated in the past 5 years _____</p> <p>..... नौकरियां जो पिछले 5 वर्षों में पुरानी हो गई हैं।</p> <p>A1 : STD booth STD बूथ</p> <p>A2 : ola ओला</p> <p>A3 : uber उबेर</p> <p>A4 : swiggy Swiggy</p> | 2.0 | 0.00 |
| Employability Skills | | | | |
| 55 | 55 | <p>Ethics means _____</p> <p>नैतिकता का अर्थ है....।</p> <p>A1 : decide what is right and wrong for a human conduct तय करें कि मानव आचरण के लिए क्या सही है और क्या गलत</p> <p>A2 : name of a city एक शहर का नाम</p> <p>A3 : employability skills रोज़गार कौशल</p> <p>A4 : not relevant to society समाज से संबंधित नहीं है</p> | 2.0 | 0.00 |
| Employability Skills | | | | |

| | | | | |
|----------------------|----|---|-----|------|
| 56 | 56 | <p>Values are _____ मान हैं।</p> <p>A1 : not punctual समयनिष्ठ नहीं</p> <p>A2 : Motivates our attitude and action हमारे दृष्टिकोण और कार्यवाही को प्रेरित करता है</p> <p>A3 : very costly बहुत कीमती</p> <p>A4 : all have same value सभी का मूल्य समान है</p> | 2.0 | 0.00 |
| Employability Skills | | | | |
| 57 | 57 | <p>_____ is a brief statement about purpose and principles of the Constitution.संविधान के उद्देश्य और सिद्धांतों के बारे में संक्षिप्त विवरण है।</p> <p>A1 : Syllabus पाठ्यक्रम</p> <p>A2 : Module मापांक</p> <p>A3 : The Preamble प्रस्तावना</p> <p>A4 : Unit इकाई</p> | 2.0 | 0.00 |
| Employability Skills | | | | |
| 58 | 58 | <p>Identify the improper term _____ अनुचित पद को पहचानिए।</p> <p>A1 : green pollution हरित प्रदूषण</p> <p>A2 : water pollution जल प्रदूषण</p> <p>A3 : air pollution वायु प्रदूषण</p> <p>A4 : sound pollution ध्वनि प्रदूषण</p> | 2.0 | 0.00 |
| Employability Skills | | | | |
| 59 | 59 | <p>NAPS Stands for _____ NAPS का मतलब _____</p> <p>A1 : National Apprenticeship Promotion Scheme National Apprenticeship Promotion Scheme</p> <p>A2 : National Appointment Promoting Scheme National Appointment Promoting Scheme</p> <p>A3 : Non Apprenticeship Promotion Scheme Non Apprenticeship Promotion Scheme</p> <p>A4 : National Advertising Promotion Scheme National Advertising Promotion Scheme</p> | 2.0 | 0.00 |
| Employability Skills | | | | |
| 60 | 60 | _____ is major changes takes place in manufacturing. | 2.0 | 0.00 |

| | | | | |
|----------------------|----|--|-----|------|
| | | मैनुफैक्चरिंग में प्रमुख परिवर्तन होते हैं। | | |
| | | A1 : Green revolution हरित क्रांति A2 : Industry revolution उद्योग क्रांति A3 : Water revolution जल क्रांति A4 : Food revolution खाद्य क्रांति | | |
| Employability Skills | | | | |
| 61 | 61 | 1st industrial revolution started in _____ पहली औद्योगिक क्रांति की शुरुआत। A1 : 18th century 18 वीं सदी A2 : 19th century 19 वीं सदी A3 : 20th century 20 वीं सदी A4 : 21st century 21 वीं सदी | 2.0 | 0.00 |
| Employability Skills | | | | |
| 62 | 62 | Hard Skill _____ कठिन कौशल.....। A1 : quick learner त्वरित शिक्षार्थी A2 : time management समय प्रबंधन A3 : 60 WPM typing speed 60 WPM टाइपिंग स्पीड A4 : spoken English मौखिक अंग्रेजी | 2.0 | 0.00 |
| Employability Skills | | | | |
| 63 | 63 | To grow yourself you must _____ अपने आप को विकसित करने के लिए आपको चाहिए। A1 : know your office अपने कार्यालय को जानें A2 : know yourself खुद को जानें A3 : know your institute अपने संस्थान को जानें A4 : know your country अपने देश को जानो | 2.0 | 0.00 |
| Employability Skills | | | | |
| 64 | 64 | Time management _____ | 2.0 | 0.00 |

| | | | | |
|----------------------|----|--|-----|------|
| | | <p>समय प्रबंधन.....।</p> <p>A1 : complete your task on time अपना कार्य समय पर पूरा करें</p> <p>A2 : managing time प्रबंधन समय</p> <p>A3 : hard skill कठिन कौशल</p> <p>A4 : problem solving समस्या को सुलझाना</p> | | |
| Employability Skills | | | | |
| 65 | 65 | <p>A resume should be _____. एक रिज्यूम _____ होना चाहिए</p> <p>A1 : short and precise छोटा और सटीक</p> <p>A2 : fancy and colourful फैंसी और रंगीन</p> <p>A3 : having long and detailed information लंबी और विस्तृत जानकारी होना</p> <p>A4 : having acronyms and abbreviation समरूप और संक्षिप्त नाम होना</p> | 2.0 | 0.00 |
| Employability Skills | | | | |
| 66 | 66 | <p>A written description of duties and responsibilities to be carried out in a job is called _____. किसी कार्य में किए जाने वाले कर्तव्यों और जिम्मेदारियों का लिखित विवरण _____ कहा जाता है</p> <p>A1 : CV CV</p> <p>A2 : job description job description</p> <p>A3 : resume resume</p> <p>A4 : job application job application</p> | 2.0 | 0.00 |
| Employability Skills | | | | |
| 67 | 67 | <p>After receiving interview call, what is the next step? साक्षात्कार कॉल प्राप्त करने के बाद, अगला कदम क्या है?</p> <p>A1 : Send application letter आवेदन पत्र भेजें</p> <p>A2 : Prepare the resume रिज्यूम तैयार करें</p> <p>A3 : Appear at interview साक्षात्कार में जाये</p> <p>A4 : Send resume रिज्यूम भेजे</p> | 2.0 | 0.00 |
| Employability Skills | | | | |
| 68 | 68 | <p>Choose suitable "wh" word for the given sentence. "_____ animal do you like?" दिए गए वाक्य के लिए उपयुक्त "wh" शब्द चुनें। "_____ animal do you like?"</p> | 2.0 | 0.00 |

| | | | | |
|----------------------|----|--|-----|------|
| | | <p>A1 Which :</p> <p>Which</p> <p>A2 Why :</p> <p>Why</p> <p>A3 Where :</p> <p>Where</p> <p>A4 When :</p> <p>When</p> | | |
| Employability Skills | | | | |
| 69 | 69 | <p>Choose the correct punctuation mark after the word “Rohan” in the given sentence. “Rohan David and Ram are playing hide and seek” दिए गए वाक्य में शब्द "रोहन" के बाद सही विराम चिह्न चुनें। “Rohan David and Ram are playing hide and seek”</p> <p>A1 Comma (,) :</p> <p>अल्पविराम (,)</p> <p>A2 Period (.) :</p> <p>अवधि (.)</p> <p>A3 Slash (/) :</p> <p>स्लैश (/)</p> <p>A4 Hyphen (-) :</p> <p>हाइफ़न (-)</p> | 2.0 | 0.00 |
| Employability Skills | | | | |
| 70 | 70 | <p>Choose the correct response for the given question. “How have you been?” दिए गए प्रश्न के लिए सही उत्तर चुनिए। “How have you been?”</p> <p>A1 Very well, And you? :</p> <p>Very well, And you?</p> <p>A2 Thank you_ And you? :</p> <p>Thank you_ And you?</p> <p>A3 Same to you :</p> <p>Same to you</p> <p>A4 On vacation_ And you? :</p> <p>On vacation_ And you?</p> | 2.0 | 0.00 |
| Employability Skills | | | | |
| 71 | 71 | <p>Choose the correct response of the given question. “When did the accident happen?” दिए गए प्रश्न की सही प्रतिक्रिया चुनें। “When did the accident happen?”</p> <p>A1 in the hotel :</p> <p>in the hotel</p> <p>A2 during travelling :</p> <p>during travelling</p> <p>A3 At 10:30 last night :</p> <p>At 10:30 last night</p> <p>A4 On the table :</p> <p>On the table</p> | 2.0 | 0.00 |
| Employability Skills | | | | |
| 72 | 72 | <p>Choose the correct tense of the verb. “I _____ music when I was child” क्रिया का सही काल चुनें। “I _____ music when I was child”</p> | 2.0 | 0.00 |

| | | | | |
|----------------------|----|---|-----|------|
| | | <p>A1 learn : learn</p> <p>A2 am learning : am learning</p> <p>A3 will learn : will learn</p> <p>A4 had learnt : had learnt</p> | | |
| Employability Skills | | | | |
| 73 | 73 | <p>Curriculum vitae is also known as _____ . Curriculum vitae को _____ के रूप में भी जाना जाता है।</p> <p>A1 circular : परिपत्र</p> <p>A2 resume : रिज्यूम</p> <p>A3 job application form : नौकरी के लिए आवेदन पत्र</p> <p>A4 leave application : छुट्टी की अर्जी</p> | 2.0 | 0.00 |
| Employability Skills | | | | |
| 74 | 74 | <p>Fill in the blank with comparative adjective. "Your pencil is _____ than mine." तुलनात्मक विशेषण के साथ रिक्त स्थान भरें। "Your pencil is _____ than mine"</p> <p>A1 sharp : sharp</p> <p>A2 sharper : sharper</p> <p>A3 blunt : blunt</p> <p>A4 thick : thick</p> | 2.0 | 0.00 |
| Employability Skills | | | | |
| 75 | 75 | <p>Fill in the blank with correct future tense of verb. "We _____ to the zoo after Breakfast " क्रिया के सही भविष्य काल के साथ रिक्त स्थान भरें। "We _____ to the zoo after Breakfast "</p> <p>A1 went : went</p> <p>A2 are going : are going</p> <p>A3 had gone : had gone</p> <p>A4 will go : will go</p> | 2.0 | 0.00 |

Wood Work Technician - 1 Year Set - 1

| S.No. | Correct Answer Key |
|-------|--------------------|
| 1 | A2 |
| 2 | A2 |
| 3 | A2 |
| 4 | A1 |
| 5 | A3 |
| 6 | A1 |
| 7 | A2 |
| 8 | A3 |
| 9 | A1 |
| 10 | A4 |
| 11 | A1 |
| 12 | A1 |
| 13 | A2 |
| 14 | A3 |
| 15 | A2 |
| 16 | A2 |
| 17 | A3 |
| 18 | A2 |
| 19 | A1 |
| 20 | A3 |
| 21 | A1 |
| 22 | A2 |
| 23 | A4 |
| 24 | A4 |
| 25 | A2 |
| 26 | A4 |
| 27 | A1 |
| 28 | A1 |
| 29 | A3 |
| 30 | A1 |
| 31 | A3 |
| 32 | A4 |
| 33 | A1 |
| 34 | A1 |
| 35 | A4 |
| 36 | A4 |
| 37 | A3 |
| 38 | A4 |

| S.No. | Correct Answer Key |
|-------|--------------------|
| 39 | A3 |
| 40 | A2 |
| 41 | A2 |
| 42 | A4 |
| 43 | A2 |
| 44 | A2 |
| 45 | A1 |
| 46 | A3 |
| 47 | A2 |
| 48 | A4 |
| 49 | A3 |
| 50 | A1 |
| 51 | A1 |
| 52 | A2 |
| 53 | A2 |
| 54 | A1 |
| 55 | A1 |
| 56 | A2 |
| 57 | A3 |
| 58 | A1 |
| 59 | A1 |
| 60 | A2 |
| 61 | A1 |
| 62 | A3 |
| 63 | A2 |
| 64 | A1 |
| 65 | A1 |
| 66 | A2 |
| 67 | A3 |
| 68 | A1 |
| 69 | A1 |
| 70 | A1 |
| 71 | A3 |
| 72 | A4 |
| 73 | A2 |
| 74 | A2 |
| 75 | A4 |

Note:

"In case answers found to be inaccurate due to typographical error or any other reason please sent mail to qbnimigrievance@gmail.com"

ALL INDIA TRADE TEST - 2024 FOR CRAFTSMEN
TRAINING SCHEME (CTS)
Trade Name: Wood Work Technician
Year: 1st Year

Exam Date :
Exam Time :

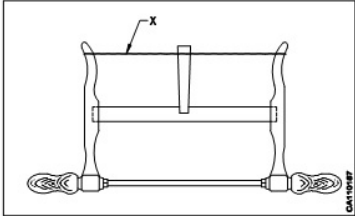
Note:

1. Tick the correct option out of four alternatives provided
2. All questions carry equal marks (2 Marks each)
3. There is no negative marking

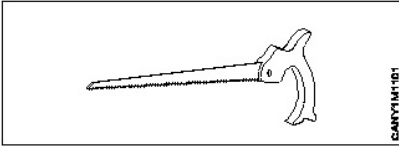
| Sr. No. | Q ID | Question Body and Alternatives | Marks | Negative Marks |
|--------------|------|--|-------|----------------|
| Trade Theory | | | | |
| 1 | 1 | <p>Which material is used to make a rip saw blade? रिप सॉ ब्लेड बनाने के लिए किस सामग्री का उपयोग किया जाता है?</p> <p>A1 : Steel स्टील</p> <p>A2 : Thin spring steel थीन स्प्रिंग स्टील</p> <p>A3 : Forged carbon steel फोर्ज्ड कार्बन स्टील</p> <p>A4 : Forged tool steel फोर्ज्ड टूल स्टील</p> | 2.0 | 0.00 |
| Trade Theory | | | | |
| 2 | 2 | <p>What is the benefit of a breast drilling machine? ब्रेस्ट ड्रिलिंग मशीन का क्या लाभ है?</p> <p>A1 : Deep holes डीप होल बनाने में काम आता है</p> <p>A2 : Very small diameter holes बहुत छोटे व्यास के होल करने में काम आता है</p> <p>A3 : Small diameter holes छोटे व्यास के होल करने में काम आता है</p> <p>A4 : Large diameter holes बड़े व्यास के होल करने में काम आता है</p> | 2.0 | 0.00 |
| Trade Theory | | | | |
| 3 | 3 | <p>What is the use of a bradawl? ब्रेडॉल का उपयोग क्या है?</p> <p>A1 : Making small holes छोटे छोटे होल बनाना</p> <p>A2 : Making deep holes गहरा होल बनाना</p> <p>A3 : Making large holes बड़े होल बनाना</p> <p>A4 : Making shallow holes उथले होल बनाना</p> | 2.0 | 0.00 |

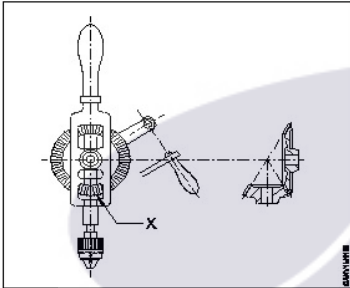
| | | | | |
|--------------|---|---|-----|------|
| Trade Theory | | | | |
| 4 | 4 | <p>What is the use of a trying plane? ट्राइंग प्लेन का उपयोग क्या है?</p> <p>A1 : Producing grooves surface खांचे वाली सतह बनाना</p> <p>A2 : Producing rebate surface रिबेट वाली सतह बनाना</p> <p>A3 : Producing rough gluing surface खुरदरी ग्लूइंग सतह बनाना</p> <p>A4 : Producing true and straight surface टू और सीधी सतह बनाना</p> | 2.0 | 0.00 |
| Trade Theory | | | | |
| 5 | 5 | <p>What is the use of a plough plane? प्लॉग प्लेन का उपयोग क्या है?</p> <p>A1 : Form rebate रिबेट बनाना</p> <p>A2 : Form grooves ग्रूव बनाना</p> <p>A3 : Form surface सतह बनाना</p> <p>A4 : Form smoothing चिकनी बनाने के लिए</p> | 2.0 | 0.00 |
| Trade Theory | | | | |
| 6 | 6 | <p>What is the use of a portable power planing machine? पोर्टेबल पावर प्लेनिंग मशीन का उपयोग क्या है?</p> <p>A1 : Producing grooves surface कोने की सतह को चिकना बनाना</p> <p>A2 : Producing trenching घुमावदार एज को चिकना बनाना</p> <p>A3 : Producing curving चिपकने वाली सतह को खुरदुरा बनाना</p> <p>A4 : Smooth surface लकड़ी की सतह को चिकना बनाना</p> | 2.0 | 0.00 |
| Trade Theory | | | | |
| 7 | 7 | <p>Which part of the hammer fits the handle rigidly? हैमर के कौनसे भाग को कठोर रूप से हैंडल में फिट करने के लिए आकार दिया जाता है?</p> <p>A1 : Face हैंडल</p> <p>A2 : Peen पीन</p> <p>A3 : Cheek चीक</p> <p>A4 : Eye hole आई होल</p> | 2.0 | 0.00 |
| Trade Theory | | | | |
| 8 | 8 | <p>What is the speciality of a tack hammer?</p> | 2.0 | 0.00 |

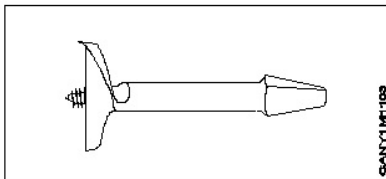
| | | | | |
|--------------|----|--|-----|------|
| | | <p>टेक हेमर की क्या विशेषता है?</p> <p>A1 : Heavy weight अधिक वजन</p> <p>A2 : Slight magnetic थोड़ा चुंबकीय</p> <p>A3 : Rough finishing खुरदरी फिनिशिंग</p> <p>A4 : Pulling nails कील निकालना</p> | | |
| Trade Theory | | | | |
| 9 | 9 | <p>Which wood is used to manufacture the head of a mallet? मैलेट के हेड का निर्माण करने के लिए किस प्रकार की लकड़ी का उपयोग किया जाता है?</p> <p>A1 : Sap wood सैप वुड</p> <p>A2 : Soft wood सॉफ्ट वुड</p> <p>A3 : Thin wood थिन वुड</p> <p>A4 : Hard wood हार्ड वुड</p> | 2.0 | 0.00 |
| Trade Theory | | | | |
| 10 | 10 | <p>Which is used to hold the job while sawing? किसका उपयोग साईंग करते समय जॉब को पकड़ने के लिए किया जाता है?</p> <p>A1 : Bench hook बेंच हुक</p> <p>A2 : Saw vice सॉ वाईस</p> <p>A3 : Bench stop बेंच स्टॉप</p> <p>A4 : Shooting board शूटिंग बोर्ड</p> | 2.0 | 0.00 |
| Trade Theory | | | | |
| 11 | 11 | <p>Which one involves general discipline of institute? इनमें से कौन संस्थान के सामान्य अनुशासन को शामिल करता है?</p> <p>A1 : Keep the floor and gangway clean फर्श और गैंगवे को साफ रखना</p> <p>A2 : Avoid polluting environment पर्यावरण को प्रदूषित होने से बचना</p> <p>A3 : Use correct tools for the job जॉब के लिए सही टूल्स का इस्तेमाल करना</p> <p>A4 : Keep the tools at their proper place टूल्स को उनके उचित स्थान पर रखें</p> | 2.0 | 0.00 |
| Trade Theory | | | | |
| 12 | 12 | <p>What is the safety precaution observed in a carpentry workshop? बढ़ईगिरी कार्यशाला में क्या सुरक्षा सावधानी बरती जाती है?</p> | 2.0 | 0.00 |

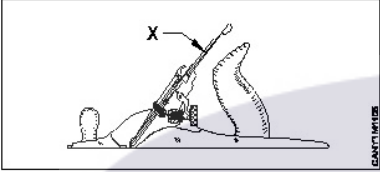
| | | | | |
|--------------|----|---|-----|------|
| | | <p>A1 : Wear loose clothing ढीले कपड़े पहनें</p> <p>A2 : Secure the work piece rigidly before cutting काटने से पहले वर्क पीस को मजबूती से सुरक्षित करें</p> <p>A3 : Hold sharpening tools in hand loosely हाथ में धार लगाने वाले औजारों को ढीला पकड़ें</p> <p>A4 : Avoid safety goggles सुरक्षा चश्मे से बचें</p> | | |
| Trade Theory | | | | |
| 13 | 13 | <p>What is the part marked as "x" in bow saw? धनुषनुमा आरी में "x" के रूप में चिह्नित भाग क्या है?</p>  <p>A1 : Bar बार</p> <p>A2 : Lever लीवर</p> <p>A3 : Frame फ्रेम</p> <p>A4 : String स्ट्रिंग</p> | 2.0 | 0.00 |
| Trade Theory | | | | |
| 14 | 14 | <p>What is the grinding angle of firmer chisel? फर्मर चीजल का ग्राइन्डिंग एंगल क्या है?</p> <p>A1 : 10° - 15° 10° - 15°</p> <p>A2 : 15° - 20° 15° - 20°</p> <p>A3 : 20° - 25° 20° - 25°</p> <p>A4 : 25° - 30° 25° - 30°</p> | 2.0 | 0.00 |
| Trade Theory | | | | |
| 15 | 15 | <p>What is used for sawing across the grains of timber? टिम्बर के रेशों के आर-पार काटने के लिए क्या उपयोग किया जाता है?</p> <p>A1 : Rip saw रिप सॉ</p> <p>A2 : Tenon saw टेनन सॉ</p> <p>A3 : Dovetail saw डवटेल् सॉ</p> | 2.0 | 0.00 |

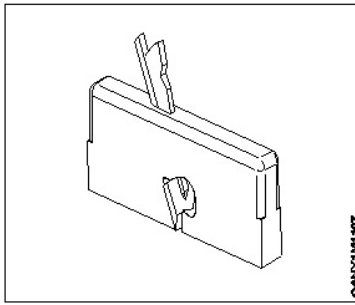
| | | | | |
|--------------|----|---|-----|------|
| | | A4 : Cross cut saw क्रॉस कट सॉ | | |
| Trade Theory | | | | |
| 16 | 16 | What is the use of portable power circular saw machine? पोर्टेबल पावर सर्कुलर सॉ मशीन का क्या उपयोग है? A1 : Cross cutting and ripping क्रॉस कटिंग और रिपिंग A2 : Key hole cutting की होल कटिंग A3 : Leather cutting लेदर कटिंग A4 : Curved cutting घुमावदार कटिंग | 2.0 | 0.00 |
| Trade Theory | | | | |
| 17 | 17 | What is the use of portable electrical heavy duty drill machine? पोर्टेबल इलेक्ट्रिकल हेवी ड्यूटी ड्रिल मशीन का क्या उपयोग है? A1 : Large diameter holes बड़े व्यास के छेद A2 : Shallow holes उथले छेद A3 : Counter sinking the top of holes छेदों के ऊपर काउंटर सिंकिंग A4 : Boring small holes छोटे छेद बोर करना | 2.0 | 0.00 |
| Trade Theory | | | | |
| 18 | 18 | Which plane is used for planning the job to size quickly and truly? जॉब को जल्दी और सही आकार देने की योजना बनाने के लिए किस प्लेन का उपयोग किया जाता है? A1 : Jack plane जैक प्लेन A2 : Tooothing plane टूथिंग प्लेन A3 : Furnishing plane फर्निशिंग प्लेन A4 : Smoothing plane समतल समतल | 2.0 | 0.00 |
| Trade Theory | | | | |
| 19 | 19 | Which tool is used for testing the flatness of job? जॉब की समतलता का परीक्षण करने के लिए किस उपकरण का उपयोग किया जाता है? A1 : Steel rule स्टील रूल A2 : Bevel square बेवल स्कायर A3 : Plumb bob प्लंब बॉब A4 : Winding strips | 2.0 | 0.00 |

| | | | | |
|----|----|--|-----|------|
| 20 | 20 | <p>What is the name of saw?</p> <p>सॉ का क्या नाम है?</p>  <p>A1 : Fret saw फ्रेट सॉ</p> <p>A2 : Coping saw कॉपिंग सॉ</p> <p>A3 : Nest of saw नेस्ट ऑफ सॉ</p> <p>A4 : Compass saw कम्पास सॉ</p> | 2.0 | 0.00 |
|----|----|--|-----|------|

| | | | | |
|----|----|---|-----|------|
| 21 | 21 | <p>What is the part name of "X" in hand drill machine?</p> <p>हैंड ड्रिल मशीन में "X" के भाग का क्या नाम है?</p>  <p>A1 : Handle हैंडल</p> <p>A2 : Frame फ्रेम</p> <p>A3 : Adjustable chuck एडजस्टेबल चक</p> <p>A4 : Bevel pinion बेवल पिनियन</p> | 2.0 | 0.00 |
|----|----|---|-----|------|

| | | | | |
|----|----|---|-----|------|
| 22 | 22 | <p>What is the name of drill bit?</p> <p>ड्रिल बिट का क्या नाम है?</p>  <p>A1 : Centre bit सेंटर बिट</p> <p>A2 : Dowel bit डॉवेल बिट</p> | 2.0 | 0.00 |
|----|----|---|-----|------|

| | | | | |
|--------------|----|---|-----|------|
| | | A3 Forstner bit : फोर्स्टर बिट A4 Expansion bit : एक्सपेंशन बिट | | |
| Trade Theory | | | | |
| 23 | 23 | Which wooden plane is long? कौन सा लकड़ी का प्लेन लंबा है? A1 Plough plane : प्लो प्लेन A2 Router plane : राउटर प्लेन A3 Trying plane : ट्राईंग प्लेन A4 Smoothing plane : स्मूथिंग प्लेन | 2.0 | 0.00 |
| Trade Theory | | | | |
| 24 | 24 | What is the Name of part marked as "X" in adjustable metal jack plane? एडजस्टेबल मेटल जैक प्लेन में "X" के रूप में चिह्नित भाग का क्या नाम है?  A1 Knob : नॉब A2 Bobby : बॉबी A3 Cap iron : कैप आयरन A4 Cutting iron : कटिंग आयरन | 2.0 | 0.00 |
| Trade Theory | | | | |
| 25 | 25 | What is the cutting angle of finishing plane? फिनिशिंग प्लेन का कटिंग एंगल क्या है? A1 20° - 25° : 20° - 25° A2 30° - 35° : 30° - 35° A3 45° - 50° : 45° - 50° A4 55° - 60° : 55° - 60° | 2.0 | 0.00 |
| Trade Theory | | | | |
| 26 | 26 | What is the name of wood working plane? लकड़ी के वर्किंग प्लेन का नाम क्या है? | 2.0 | 0.00 |



A1
: Rebate plane

रिबेट प्लेन

A2
: Compass plane

कम्पास प्लेन

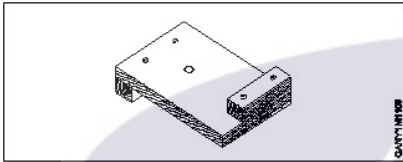
A3
: Convex plane

उत्तल प्लेन

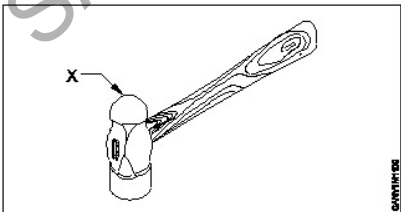
A4
: Hollow plane

खोखला प्लेन

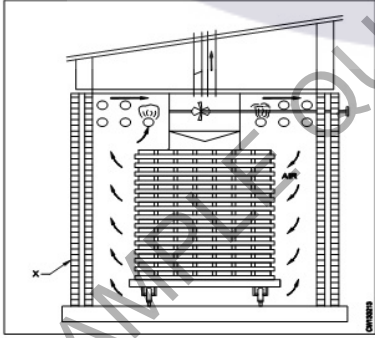
Trade Theory

| | | | | |
|----|----|---|-----|------|
| 27 | 27 | What is the name of supporting tool? सहायक उपकरण का नाम क्या है? | 2.0 | 0.00 |
| | |  | | |
| | | <p>A1 : Bench stop</p> <p>बेंच स्टॉप</p> <p>A2 : Bench hook</p> <p>बेंच हुक</p> <p>A3 : Planning trough</p> <p>प्लानिंग ट्रफ</p> <p>A4 : Shooting board</p> <p>शूटिंग बोर्ड</p> | | |

Trade Theory

| | | | | |
|----|----|--|-----|------|
| 28 | 28 | What is the name of part marked as 'X'? 'X' से चिह्नित भाग का नाम क्या है? | 2.0 | 0.00 |
| | |  | | |
| | | <p>A1 : Pein</p> <p>पेन</p> <p>A2 : Face</p> <p>फेस</p> <p>A3 : Check</p> <p>चीक</p> | | |

| | | | | |
|--------------|----|--|-----|------|
| | | A4 : Wedge वेज | | |
| Trade Theory | | | | |
| 29 | 29 | Which fire extinguisher is used for class "B" fire? क्लास "B" आग के लिए किस अग्निशामक यंत्र का उपयोग किया जाता है? A1 : Foam extinguisher फोम एक्सटिंगुइशर A2 : Halon extinguisher हेलॉन एक्सटिंगुइशर A3 : Carbon dioxide extinguisher कार्बन डाइऑक्साइड एक्सटिंगुइशर A4 : Cooling with water extinguisher कूलिंग विद वाटर एक्सटिंगुइशर | 2.0 | 0.00 |
| Trade Theory | | | | |
| 30 | 30 | What is the extinguisher media used on class "A" fire? क्लास "A" आग पर किस अग्निशामक यंत्र का उपयोग किया जाता है? A1 : Water पानी A2 : Foam फोम A3 : Halon हेलॉन A4 : Dry powder सूखा पाउडर | 2.0 | 0.00 |
| Trade Theory | | | | |
| 31 | 31 | Which trees is used for engineering purposes? इंजीनियरिंग उद्देश्यों के लिए किस पेड़ का उपयोग किया जाता है? A1 : Endogenous trees अंतर्जात पेड़ A2 : Grow in wards trees वार्ड में उगने वाले वृक्ष A3 : Needle shape trees नीडल के आकार के पेड़ A4 : Exogenous trees बहिर्जात वृक्ष | 2.0 | 0.00 |
| Trade Theory | | | | |
| 32 | 32 | Which wood is used in building works? भवन निर्माण कार्यों में किस लकड़ी का उपयोग किया जाता है? A1 : Sap wood सैप वुड A2 : Hard wood हार्ड वुड A3 : Soft wood सॉफ्ट वुड A4 : Conifer wood | 2.0 | 0.00 |

| | | | | |
|----|----|---|-----|------|
| | | कोनिफर बुड | | |
| | | Trade Theory | | |
| 33 | 33 | <p>Which chisel is used for general chiselling purposes? सामान्य चीजल के लिए किस चीजल का उपयोग किया जाता है?</p> <p>A1 : Paring chisel पैरिंग चीजल</p> <p>A2 : Socket firmer chisel सॉकेट फ़र्मर चीजल</p> <p>A3 : Bench firmer chisel बेंच फ़र्मर चीजल</p> <p>A4 : Socket mortise chisel सॉकेट मोर्टिस चीजल</p> | 2.0 | 0.00 |
| | | Trade Theory | | |
| 34 | 34 | <p>What is the use of bevel edge firmer chisel? बेवल एज फ़र्मर चीजल का उपयोग क्या है?</p> <p>A1 : Cleaning of grooves section ग्रूव सेक्शन की सफाई</p> <p>A2 : Cleaning of inside circular section अंदर के गोलाकार सेक्शन की सफाई</p> <p>A3 : Heavy work such as mortising भारी काम जैसे कि मोर्टिसिंग</p> <p>A4 : Cleaning up corner and joints कोने और जोड़ों की सफाई</p> | 2.0 | 0.00 |
| | | Trade Theory | | |
| 35 | 35 | <p>What is the name of the part marked as "x" shown in the figure? चित्र में दिखाए गए "x" से चिह्नित भाग का नाम क्या है?</p>  <p>A1 : Fan फैन</p> <p>A2 : Trolley ट्राली</p> <p>A3 : Brick wall ईंटो की दीवार</p> <p>A4 : Heating pipe हीटिंग पाइप</p> | 2.0 | 0.00 |
| | | Trade Theory | | |
| 36 | 36 | <p>What is the formula for calculating the percentage of the moisture content in timber? टिम्बर में नमी की मात्रा के प्रतिशत का सूत्र क्या है?</p> <p>A1 :</p> | 2.0 | 0.00 |

$$MC = \frac{W - D}{W} \times 100 = \%$$

A2
:

$$MC = \frac{D - W}{W} \times 100 = \%$$

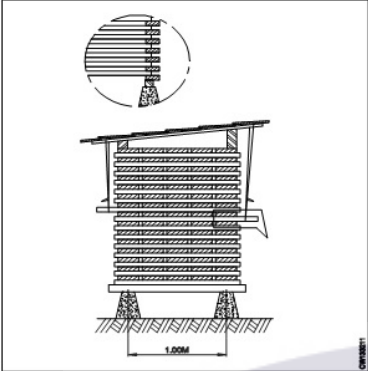
A3
:

$$MC = \frac{D - W}{D} \times 100 = \%$$

A4
:

$$MC = \frac{W - D}{D} \times 100 = \%$$

Trade Theory

| | | | | |
|----|----|--|-----|------|
| 37 | 37 | <p>What is the name of the seasoning shown in the figure?</p> <p>सीज़निंग का नाम क्या है?</p>  <p>A1 Air seasoning : एयर सीज़निंग</p> <p>A2 Kiln seasoning : किलन सीज़निंग</p> <p>A3 Water seasoning : वाटर सीज़निंग</p> <p>A4 Steam seasoning : स्टीम सीज़निंग</p> | 2.0 | 0.00 |
|----|----|--|-----|------|

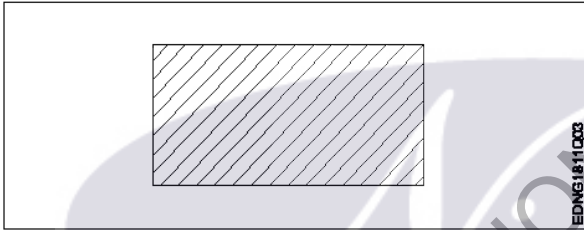
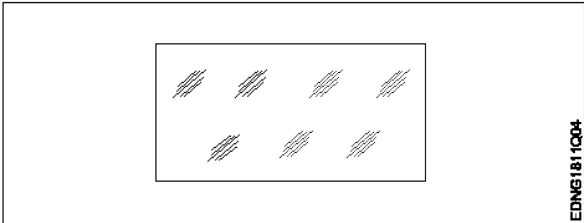
Trade Theory

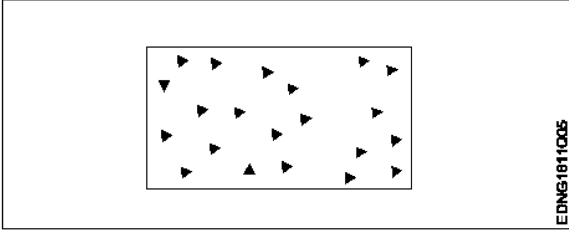
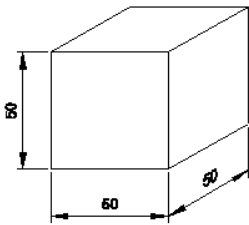
| | | | | |
|----|----|--|-----|------|
| 38 | 38 | <p>Which timber is used to avoid knots?</p> <p>दरारों और गांठों से बचने के लिए किस टिम्बर का उपयोग किया जाता है?</p> <p>A1 Case hardening timber : केस हार्डनिंग टिम्बर</p> <p>A2 Irregular growth timber : अनियमित विकास टिम्बर</p> <p>A3 Shrinkage of timber : टिम्बर की सिकुड़न</p> <p>A4 Quality of good timber : अच्छी टिम्बर की गुणवत्ता</p> | 2.0 | 0.00 |
|----|----|--|-----|------|

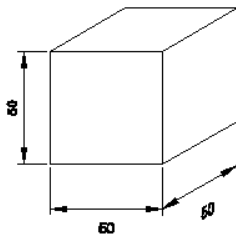
Workshop Calculation Science

| | | | | |
|----|----|---|-----|------|
| 39 | 39 | <p>What will be the rpm of smaller gear if a 180 mm dia meshes with 60 mm dia gear and the bigger gear makes 60 rpm?</p> <p>यदि 180 मिमी व्यास वाला गियर 60 मिमी व्यास वाले गियर पर जुड़ा हुआ है और बड़ा गियर 60 आरपीएम से घूमता है तो छोटे गियर का आरपीएम क्या होगा?</p> <p>A1 120 rpm : 120 rpm</p> | 2.0 | 0.00 |
|----|----|---|-----|------|

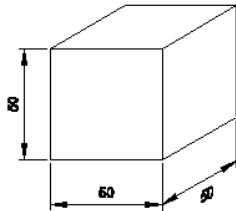
| | | | | |
|------------------------------|----|--|-----|------|
| | | A2 : 140 rpm 140 rpm A3 : 160 rpm 160 rpm A4 : 180 rpm 180 rpm | | |
| Workshop Calculation Science | | | | |
| 40 | 40 | Convert 0.456 decimal fraction into percentage. 0.456 दशमलव भिन्न को प्रतिशत में बदलिये? A1 : 45.6% 45.6% A2 : 4.56% 4.56% A3 : 0.456% 0.456% A4 : 0.0456% 0.0456% | 2.0 | 0.00 |
| Workshop Calculation Science | | | | |
| 41 | 41 | Which metal contains iron as a major content? इनमें से किस धातु में प्रमुख सामग्री के रूप में लोहा होता है? A1 : Brass metal पीतल धातु A2 : Bronze metal ब्रॉज धातु A3 : Zinc ज़िंक A4 : Ferrous metal लोह धातु | 2.0 | 0.00 |
| Workshop Calculation Science | | | | |
| 42 | 42 | Which property of metal has its power of returning to its original shape after the applied force is released? धातु की कौन सा गुण बल लगाने पर विरूपित तथा बल हटाने पर वापस अपने पूर्ववस्था में आने की क्षमता रखता है? A1 : Malleability आघातवर्धनीयता A2 : Tenacity दृढ़ता A3 : Elasticity प्रत्यास्तता A4 : Plasticity सुघट्यता | 2.0 | 0.00 |
| Workshop Calculation Science | | | | |
| 43 | 43 | Which cast iron cannot be welded? इनमेंसे कौनसा ढलवां लोहा की वेल्डिंग नहीं किया जा सकता है? A1 : Grey cast iron धूसर ढलवां लोहा A2 : White cast iron सफेद ढलवां लोहा | 2.0 | 0.00 |

| | | | | |
|------------------------------|----|---|-----|------|
| | | A3 : Malleable cast iron पिटवां ढलवां लोहा A4 : Nodular cast iron गांठदार ढलवां लोहा | | |
| Workshop Calculation Science | | | | |
| 44 | 44 | Which metal is widely used for making casting of machinery parts? मशीनरी भागों की ढलाई बनाने के लिए किस धातु का व्यापक रूप से उपयोग किया जाता है? A1 : Grey cast iron धूसर ढलवां लोहा A2 : White cast iron सफेद ढलवां लोहा A3 : Malleable cast iron पिटवां ढलवां लोहा A4 : Wrought iron लोहा | 2.0 | 0.00 |
| Engineering Drawing | | | | |
| 45 | 45 | Identify the conventional symbol of material? सामग्री के पारंपरिक प्रतीक को पहचानें?  A1 : Lead लेड A2 : Steel इस्पात A3 : Glass कांच A4 : Porcelain चीनी मिट्टी | 2.0 | 0.00 |
| Engineering Drawing | | | | |
| 46 | 46 | Identify the conventional symbol of material? सामग्री के पारंपरिक प्रतीक को पहचानें?  A1 : Concrete संगीत कार्यक्रम A2 : Steel इस्पात | 2.0 | 0.00 |

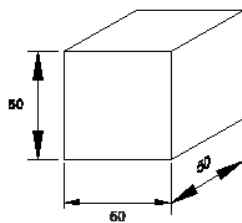
| | | | | |
|---------------------|----|---|-----|------|
| | | A3 : Wood लकड़ी A4 : Glass कांच | | |
| Engineering Drawing | | | | |
| 47 | 47 | Identify the conventional symbol of material? सामग्री के पारंपरिक प्रतीक को पहचानें?  | 2.0 | 0.00 |
| | | A1 : Steel इस्पात A2 : Wood लकड़ी A3 : Glass कांच A4 : Concrete ठोस | | |
| Engineering Drawing | | | | |
| 48 | 48 | What is the trimmed size of A4 sheet? A4 शीट का ट्रिम किया हुआ आकार क्या है? A1 : 841 x 1189 841 x 1189 A2 : 594 x 841 594 x 841 A3 : 210 x 297 210 x 297 A4 : 148 x 210 148 x 210 | 2.0 | 0.00 |
| Engineering Drawing | | | | |
| 49 | 49 | Which drawing dimension is correct as per IS standard? IS मानक के अनुसार कौन सा ड्राइंग आयाम सही है? A1 :  A2 : | 2.0 | 0.00 |



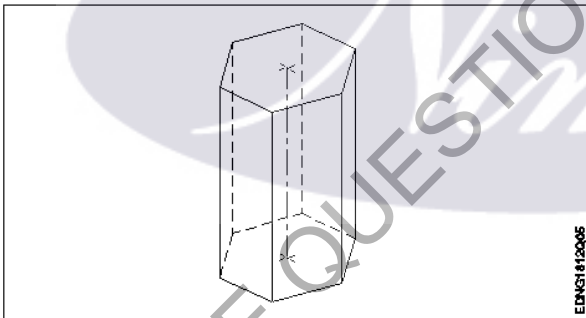
A3
:



A4
:



Engineering Drawing

| | | | | |
|----|----|---|-----|------|
| 50 | 50 | <p>Identify the name of prism? चित्र में दिखाए गए प्रिज्म का नाम क्या है?</p>  <p>EDNG112005</p> <p>A1 : Square prism स्क्वायर प्रिज्म</p> <p>A2 : Pentagonal prism पंचकोणीय प्रिज्म</p> <p>A3 : Triangular prism त्रिकोणीय प्रिज्म</p> <p>A4 : Hexagonal prism हेक्सागोनल प्रिज्म</p> | 2.0 | 0.00 |
|----|----|---|-----|------|

Employability Skills

| | | | | |
|----|----|--|-----|------|
| 51 | 51 | <p>Fill in the blank with correct word. "They _____ good friends" रिक्त में सही शब्द भरें। "They _____ good friends"</p> <p>A1 : is is</p> <p>A2 : am am</p> | 2.0 | 0.00 |
|----|----|--|-----|------|

| | | | | |
|----------------------|----|---|-----|------|
| | | A3 are : are A4 was : was | | |
| Employability Skills | | | | |
| 52 | 52 | Fill in the blank with present progressive tense of the verb. "The train _____ through the tunnel" क्रिया के वर्तमान प्रगतिशील काल के साथ रिक्त स्थान भरें। "The train _____ through the tunnel" A1 passed : passed A2 is passing : is passing A3 had passed : had passed A4 was passing : was passing | 2.0 | 0.00 |
| Employability Skills | | | | |
| 53 | 53 | Fill in the blank with proper interrogative adjective. _____ are you going? उचित ईंटोरोगेटिव विशेषण के साथ रिक्त स्थान भरें। _____ are you going? A1 Who : Who A2 Where : Where A3 Which : Which A4 What : What | 2.0 | 0.00 |
| Employability Skills | | | | |
| 54 | 54 | Fill in the blank with proper pronoun. "I made this cake _____" रिक्त स्थान में उचित सर्वनाम के साथ भरें। "I made this cake _____" A1 myself : myself A2 yourself : yourself A3 himself : himself A4 itself : itself | 2.0 | 0.00 |
| Employability Skills | | | | |
| 55 | 55 | Fill in the blank with proper pronoun. "She made this cake _____" रिक्त स्थान में उचित सर्वनाम के साथ भरें। "She made this cake _____" A1 itself : itself A2 myself : myself A3 herself : herself | 2.0 | 0.00 |

| | | | | |
|----------------------|----|---|-----|------|
| | | A4 : himself himself | | |
| Employability Skills | | | | |
| 56 | 56 | Fill in the blank with proper reflexive pronoun. "She has hurt _____" रिक्त स्थान में उचित प्रतिवर्ती सर्वनाम के साथ भरें। "She has hurt _____" A1 : myself myself A2 : herself herself A3 : himself himself A4 : itself itself | 2.0 | 0.00 |
| Employability Skills | | | | |
| 57 | 57 | Fill in the blank with suitable adjective for the given sentence "The little girl's..... eyes revealed her mischief" दिए गए वाक्य के लिए उपयुक्त विशेषण के साथ रिक्त स्थान भरें। "The little girl's..... eyes revealed her mischief" A1 : chubby chubby A2 : weak weak A3 : short sighted short sighted A4 : twinkling twinkling | 2.0 | 0.00 |
| Employability Skills | | | | |
| 58 | 58 | Fill in the blank with suitable place preposition. "My house is _____ the third floor" उपयुक्त स्थान पूर्वसर्ग के साथ रिक्त स्थान भरें। "My house is _____ the third floor" A1 : at at A2 : in in A3 : on on A4 : under under | 2.0 | 0.00 |
| Employability Skills | | | | |
| 59 | 59 | Fill in the correct question word. "_____ is the speaker at the function?" सही प्रश्न शब्द भरें। "_____ is the speaker at the function?" A1 : What What A2 : When When A3 : Why Why A4 : Who Who | 2.0 | 0.00 |
| Employability Skills | | | | |

| | | | | |
|----------------------|----|--|-----|------|
| 60 | 60 | Low level language is also called _____. निम्न स्तर की भाषा को _____ भी कहा जाता है | 2.0 | 0.00 |
| | | A1 : source code सोर्स कोड A2 : middle ware मध्यस्थ A3 : machine language मशीन भाषा A4 : assembly language असेंबली भाषा | | |
| Employability Skills | | | | |
| 61 | 61 | Pronunciation refers to _____. उच्चारण _____ को संदर्भित करता है | 2.0 | 0.00 |
| | | A1 : diphthong संयुक्त स्वर A2 : consonant व्यंजन A3 : punctuation विराम चिह्न A4 : production of sound ध्वनि का उत्पादन | | |
| Employability Skills | | | | |
| 62 | 62 | Re-arrange the following set of words into meaningful sentence. "teacher / school / worked / she / a / as". शब्दों के निम्नलिखित सेट को सार्थक वाक्य में फिर से व्यवस्थित करें। "teacher / school / worked / she / a / as" | 2.0 | 0.00 |
| | | A1 : School worked as a she teacher School worked as a she teacher A2 : She worked as a school teacher She worked as a school teacher A3 : She teacher worked as a school She teacher worked as a school A4 : Worked she as a school teacher Worked she as a school teacher | | |
| Employability Skills | | | | |
| 63 | 63 | Rise and fall of pitch of voice is called _____. आवाज़ की पिच का उठना और गिरना _____ कहलाता है | 2.0 | 0.00 |
| | | A1 : vowel स्वर A2 : intonation आवाज़ का उतार-चढ़ाव A3 : consonant व्यंजन A4 : pronunciation उच्चारण | | |
| Employability Skills | | | | |
| 64 | 64 | The word that expresses a sudden and strong feeling is called _____. वह शब्द जो अचानक और मजबूत भावना व्यक्त करता है उसे _____ कहा जाता है | 2.0 | 0.00 |

| | | | | |
|----------------------|----|--|-----|------|
| | | <p>A1 punctuation : विराम चिह्न</p> <p>A2 interjection : विस्मयादिबोधक</p> <p>A3 conjunction : संयोजन के रूप</p> <p>A4 apostrophe : एपोस्ट्रॉफी</p> | | |
| Employability Skills | | | | |
| 65 | 65 | <p>When you greet higher official's such as Teacher, Instructor or Supervisor, you should use _____. जब आप शिक्षक, प्रशिक्षक या पर्यवेक्षक जैसे उच्च अधिकारियों का अभिवादन करते हैं, तो आपको _____ का उपयोग करना चाहिए</p> <p>A1 Good morning : Good morning</p> <p>A2 Hello : Hello</p> <p>A3 Hey : Hey</p> <p>A4 Hi : Hi</p> | 2.0 | 0.00 |
| Employability Skills | | | | |
| 66 | 66 | <p>Which is a silent letter in the word "ANSWER"? "ANSWER" शब्द में कौन सा मूक अक्षर है?</p> <p>A1 R : R</p> <p>A2 E : E</p> <p>A3 S : S</p> <p>A4 W : W</p> | 2.0 | 0.00 |
| Employability Skills | | | | |
| 67 | 67 | <p>Which one is a "Do's" of discussion etiquettes? चर्चा के शिष्टाचारों में से कौन सा "Do's" है?</p> <p>A1 Loose your temper : अपना आपा खोएं</p> <p>A2 Listen to others : दूसरों की सुनें</p> <p>A3 Talk about irrelevant details : अप्रासंगिक विवरण के बारे में बात करें</p> <p>A4 Use impolite or rude language : अभद्र या अशिष्ट भाषा का उपयोग करें</p> | 2.0 | 0.00 |
| Employability Skills | | | | |
| 68 | 68 | <p>Which one is a "Don't" of discussion etiquette? चर्चा शिष्टाचार का "Don't" है?</p> <p>A1 Be open minded :</p> | 2.0 | 0.00 |

| | | | | |
|----------------------|----|---|-----|------|
| | | <p>दिमाग खुला रखना</p> <p>A2 : Use moderate tone</p> <p>मध्यम स्वर का प्रयोग करें</p> <p>A3 : Listen to others</p> <p>दूसरों की सुनें</p> <p>A4 : Argue unnecessary</p> <p>अनावश्यक बहस करें</p> | | |
| Employability Skills | | | | |
| 69 | 69 | <p>Which one is a brain of computer? कंप्यूटर का मस्तिष्क कौन सा है?</p> <p>A1 : Keyboard</p> <p>कीबोर्ड</p> <p>A2 : CPU</p> <p>सी पी यू</p> <p>A3 : Monitor</p> <p>मॉनिटर</p> <p>A4 : Hard disk</p> <p>हार्ड डिस्क</p> | 2.0 | 0.00 |
| Employability Skills | | | | |
| 70 | 70 | <p>Which one is an exclamatory sentence? कौन सा विस्मयादिबोधक वाक्य है?</p> <p>A1 : What a beautiful house it is!</p> <p>What a beautiful house it is!</p> <p>A2 : It is a beautiful house.</p> <p>It is a beautiful house.</p> <p>A3 : Is it a beautiful house?</p> <p>Is it a beautiful house?</p> <p>A4 : Your house is beautiful.</p> <p>Your house is beautiful.</p> | 2.0 | 0.00 |
| Employability Skills | | | | |
| 71 | 71 | <p>Which one is in active voice? सक्रिय आवाज में कौन सा है?</p> <p>A1 : Ram has passed the exam.</p> <p>Ram has passed the exam.</p> <p>A2 : The ball was caught by him.</p> <p>The ball was caught by him.</p> <p>A3 : The book was being read by her.</p> <p>The book was being read by her.</p> <p>A4 : We were driven home by dad.</p> <p>We were driven home by dad.</p> | 2.0 | 0.00 |
| Employability Skills | | | | |
| 72 | 72 | <p>Which one is in passive voice? निष्क्रिय आवाज में कौन सा है?</p> <p>A1 : Mohan is painting a house.</p> <p>Mohan is painting a house.</p> <p>A2 : She was reading a book.</p> | 2.0 | 0.00 |

| | | | | |
|----------------------|----|--|-----|------|
| | | <p>She was reading a book.</p> <p>A3 : Her birthday was celebrated by us.</p> <p>Her birthday was celebrated by us.</p> <p>A4 : I have seen that movie.</p> <p>I have seen that movie.</p> | | |
| Employability Skills | | | | |
| 73 | 73 | <p>Which one is NOT a conjunction? कौन सा एक संयोजन नहीं है?</p> <p>A1 : And</p> <p>And</p> <p>A2 : Or</p> <p>Or</p> <p>A3 : But</p> <p>But</p> <p>A4 : On</p> <p>On</p> | 2.0 | 0.00 |
| Employability Skills | | | | |
| 74 | 74 | <p>Which one is NOT a benefit of the role playing? भूमिका निभाने का कौन सा लाभ नहीं है?</p> <p>A1 : Builds confidence</p> <p>आत्मविश्वास पैदा करता है</p> <p>A2 : Develops listening skill</p> <p>सुनने का कौशल विकसित करता है</p> <p>A3 : Develops creative problem-solving skill</p> <p>रचनात्मक समस्या-समाधान कौशल विकसित करता है</p> <p>A4 : Develops boredom</p> <p>बोरियत पैदा करता है</p> | 2.0 | 0.00 |
| Employability Skills | | | | |
| 75 | 75 | <p>Which one is NOT a vowel? कौन सा स्वर नहीं है?</p> <p>A1 : a</p> <p>a</p> <p>A2 : e</p> <p>e</p> <p>A3 : f</p> <p>f</p> <p>A4 : i</p> <p>i</p> | 2.0 | 0.00 |

Wood Work Technician - 1 Year - Set 2

| S.No. | Correct Answer Key |
|-------|--------------------|
| 1 | A2 |
| 2 | A4 |
| 3 | A1 |
| 4 | A4 |
| 5 | A2 |
| 6 | A4 |
| 7 | A4 |
| 8 | A2 |
| 9 | A4 |
| 10 | A1 |
| 11 | A2 |
| 12 | A2 |
| 13 | A4 |
| 14 | A3 |
| 15 | A4 |
| 16 | A1 |
| 17 | A1 |
| 18 | A1 |
| 19 | A4 |
| 20 | A4 |
| 21 | A4 |
| 22 | A1 |
| 23 | A3 |
| 24 | A4 |
| 25 | A3 |
| 26 | A1 |
| 27 | A2 |
| 28 | A1 |
| 29 | A1 |
| 30 | A1 |
| 31 | A4 |
| 32 | A2 |
| 33 | A3 |
| 34 | A4 |
| 35 | A3 |
| 36 | A4 |
| 37 | A1 |
| 38 | A4 |

| S.No. | Correct Answer Key |
|-------|--------------------|
| 39 | A4 |
| 40 | A1 |
| 41 | A4 |
| 42 | A3 |
| 43 | A2 |
| 44 | A1 |
| 45 | A2 |
| 46 | A4 |
| 47 | A4 |
| 48 | A3 |
| 49 | A1 |
| 50 | A4 |
| 51 | A3 |
| 52 | A2 |
| 53 | A2 |
| 54 | A1 |
| 55 | A3 |
| 56 | A2 |
| 57 | A4 |
| 58 | A3 |
| 59 | A4 |
| 60 | A3 |
| 61 | A4 |
| 62 | A2 |
| 63 | A2 |
| 64 | A2 |
| 65 | A1 |
| 66 | A4 |
| 67 | A2 |
| 68 | A4 |
| 69 | A2 |
| 70 | A1 |
| 71 | A1 |
| 72 | A3 |
| 73 | A4 |
| 74 | A4 |
| 75 | A3 |

Note:

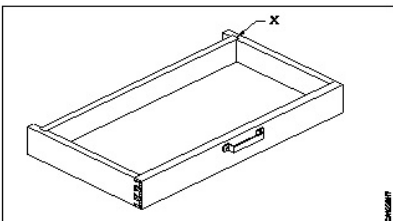
"In case answers found to be inaccurate due to typographical error or any other reason please sent mail to qbnimigrievance@gmail.com"

ALL INDIA TRADE TEST - 2024 FOR CRAFTSMEN
TRAINING SCHEME (CTS)
Trade Name: Wood Work Technician
Year: 1st Year

Exam Date :
Exam Time :

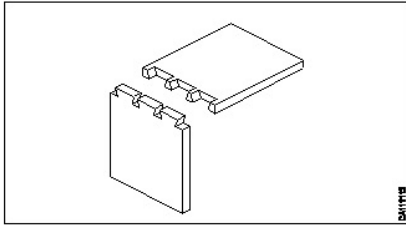
Note:

1. Tick the correct option out of four alternatives provided
2. All questions carry equal marks (2 Marks each)
3. There is no negative marking

| Sr. No. | Q ID | Question Body and Alternatives | Marks | Negative Marks |
|--------------|------|---|-------|----------------|
| Trade Theory | | | | |
| 1 | 1 | <p>Which is an oil preservative? एक तेल परिरक्षक कौन सा है?</p> <p>A1 : Tar टार</p> <p>A2 : White arsenic सफेद आर्सेनिक</p> <p>A3 : Sodium fluoride सोडियम फ्लोराइड</p> <p>A4 : Zinc chloride जिंक क्लोराइड</p> | 2.0 | 0.00 |
| Trade Theory | | | | |
| 2 | 2 | <p>Which type of joint is used to fix shelves? अलमारियों को ठीक करने के लिए किस प्रकार के जॉइंट का उपयोग किया जाता है?</p> <p>A1 : Housing joint हाउसिंग जॉइंट</p> <p>A2 : Scarf joint स्कार्फ जॉइंट</p> <p>A3 : Bridle joint ब्रिडल जॉइंट</p> <p>A4 : Halving joint हाल्विंग जॉइंट</p> | 2.0 | 0.00 |
| Trade Theory | | | | |
| 3 | 3 | <p>What is the name of the joint marked as 'x' shown in the figure? झावर में 'x' के रूप में चिह्नित जॉइंट का नाम क्या है?</p>  <p>A1 : Half lap हाफ लैप</p> | 2.0 | 0.00 |

| | | | | |
|--------------|---|---|-----|------|
| | | <p>A2 : Housing हाउसिंग</p> <p>A3 : Blind mortise and tenon ब्लाइंड मोर्टिज़ और टेनन</p> <p>A4 : Lap dovetail लैप डॉवटेल</p> | | |
| Trade Theory | | | | |
| 4 | 4 | <p>What is the name of the joint shown in the figure? जॉइंट का नाम क्या है?</p>  <p>A1 : Tee - bridle joint टी - ब्रिडल जॉइंट</p> <p>A2 : Corner bridle joint कॉर्नर ब्रिडल जॉइंट</p> <p>A3 : Mitre corner bridle joint मिटर कॉर्नर ब्रिडल जॉइंट</p> <p>A4 : Housing joint हाउसिंग जॉइंट</p> | 2.0 | 0.00 |
| Trade Theory | | | | |
| 5 | 5 | <p>Which joint is used instead of mortise and tenon joint? मोर्टिस और टेनन जॉइंट के स्थान पर उपयोग किये जाने वाला जॉइंट कौन सा है ?</p> <p>A1 : Housing joint हाउसिंग जॉइंट</p> <p>A2 : Bridle joint ब्रिडल जॉइंट</p> <p>A3 : Single dovetail joint सिंगल डवटेल जॉइंट</p> <p>A4 : Butt joint बट जॉइंट</p> | 2.0 | 0.00 |
| Trade Theory | | | | |
| 6 | 6 | <p>Which part must be cut first to make secret dove tail joint? सीक्रेट डॉवटेल जॉइंट को बनाने के लिए सबसे पहले किस हिस्से को काटा जाना चाहिए?</p> <p>A1 : Pin पिन</p> <p>A2 : Socket सॉकेट</p> <p>A3 : Mortise मोर्टिज़</p> <p>A4 : Channel चैनल</p> | 2.0 | 0.00 |
| Trade Theory | | | | |
| 7 | 7 | <p>What is the name of the joint shown in the figure?</p> | 2.0 | 0.00 |

जॉइंट का नाम क्या है?



A1 Single dovetail joint

: सिंगल डॉवटेल जॉइंट

A2 Common dovetail joint

: कॉमन डॉवटेल जॉइंट

A3 Lapped dovetail joint

: लेप्ड डॉवटेल जॉइंट

A4 Secret dovetail joint

: सीक्रेट डॉवटेल जॉइंट

Trade Theory

8

8

Which glue is a chemical extract from the curds of skimmed milk?

कौन सा गोंद स्किम्ड दूध के दही से निकाला गया रासायनिक अर्क है?

A1 Animal glue

: एनिमल ग्लू

A2 Casein glue

: कैसिन गोंद

A3 Resin glue

: राल गोंद

A4 Vegetable glue

: वनस्पति गोंद

2.0

0.00

Trade Theory

9

9

How many hours does it take for a casein glue to lose its adhesive power?

कैसिन गोंद को अपनी चिपकने वाली शक्ति खोने में कितने घंटे लगते हैं?

A1 4 hours

: 4 घंटे

A2 6 hours

: 6 घंटे

A3 7 hours

: 7 घंटे

A4 8 hours

: 8 घंटे

2.0

0.00

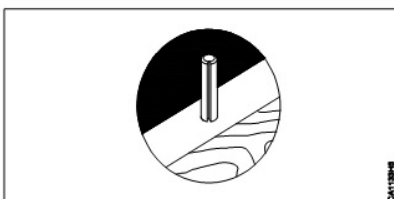
Trade Theory

10

10

What type of fastener is used in the given figure?

दी गई आकृति में किस प्रकार के फास्टर का उपयोग किया गया है?

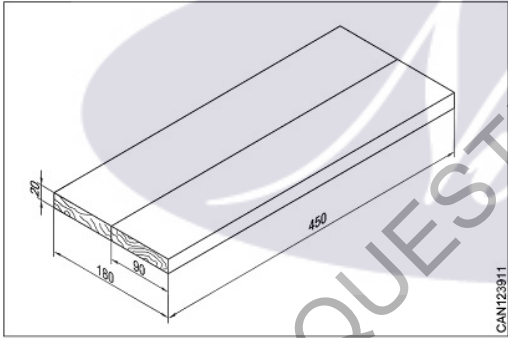
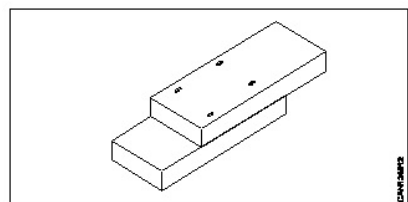


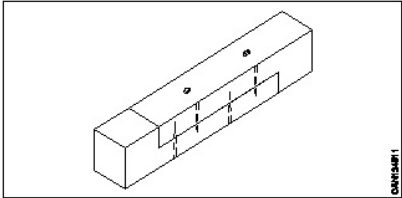
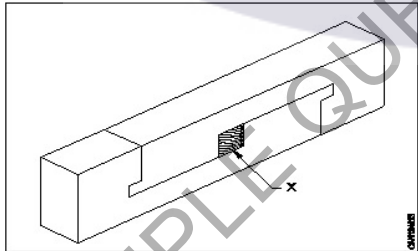
A1 Dowel pin

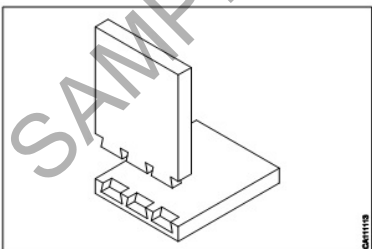
:

2.0

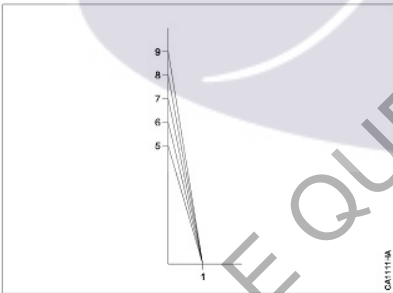
0.00

| | | | | |
|--------------|----|--|-----|------|
| | | डॉविल पिन A2 : Screw स्कू A3 : Nail कील A4 : Spur स्पर | | |
| Trade Theory | | | | |
| 11 | 11 | Which type of joint is used in tongue and groove joint? टंग और ग्रूव जॉइंट में किस प्रकार के जॉइंट का उपयोग किया जाता है? A1 : Lengthening लम्बा A2 : Widening चौड़ा A3 : Thicknessing मोटा A4 : Angle कोण | 2.0 | 0.00 |
| Trade Theory | | | | |
| 12 | 12 | What is the name of the joint shown in the figure? आकृति में दिखाए गए जॉइंट का नाम क्या है?  A1 : Simple butt joint सिम्पल बट जॉइंट A2 : Dowel pin joint डॉविल पिन जॉइंट A3 : Rebated joint रिबेटेड जॉइंट A4 : Tongue and Grooved joint टंग और ग्रूव जॉइंट | 2.0 | 0.00 |
| Trade Theory | | | | |
| 13 | 13 | What is the name of the joint shown in the figure? आकृति में दिखाए गए जॉइंट का नाम क्या है?  A1 : End half lap joint | 2.0 | 0.00 |

| | | | | |
|--------------|----|--|-----|------|
| | | <p>एंड हाफ लैप जॉइन्ट</p> <p>A2 : End over lap joint</p> <p>एंड ओवर लैप जॉइन्ट</p> <p>A3 : End bevel lap joint</p> <p>एंड बेवल लैप जॉइन्ट</p> <p>A4 : Screw half lap joint</p> <p>स्कू हाफ लैप जॉइन्ट</p> | | |
| Trade Theory | | | | |
| 14 | 14 | <p>What is the name of the joint shown in the figure?</p> <p>आकृति में दिखाए गए जॉइन्ट का नाम क्या है?</p>  <p>A1 : End over lap joint</p> <p>एंड ओवर लैप जॉइन्ट</p> <p>A2 : End half lap joint</p> <p>एंड हाफ लैप जॉइन्ट</p> <p>A3 : Mitre scarf joint</p> <p>मिटर स्कार्फ जॉइन्ट</p> <p>A4 : Table scarf joint</p> <p>टेबल स्कार्फ जॉइन्ट</p> | 2.0 | 0.00 |
| Trade Theory | | | | |
| 15 | 15 | <p>What is the name of the part marked as 'X' shown in figure?</p> <p>आकृति में दिखाए गए 'X' से चिह्नित भाग का नाम क्या है?</p>  <p>A1 : Nails कील</p> <p>A2 : Screws स्कू</p> <p>A3 : Dowels डॉवेल</p> <p>A4 : Wedges वेजेज</p> | 2.0 | 0.00 |
| Trade Theory | | | | |
| 16 | 16 | <p>What is the purpose of seasoning of the timber?</p> <p>टिम्बर के संशोषण का उद्देश्य क्या है?</p> <p>A1 : Remove the moisture नमी हटाना</p> | 2.0 | 0.00 |

| | | | | |
|--------------|----|---|-----|------|
| | | <p>A2 : Remove the strength सामर्थ्य हटाना</p> <p>A3 : Remove the colour रंग हटाना</p> <p>A4 : Remove the smell गंध हटाना</p> | | |
| Trade Theory | | | | |
| 17 | 17 | <p>Which preservative is used for fencing posts? बाड़ लगाने के लिए कौन सा परिरक्षक उपयोग किया जाता है?</p> <p>A1 : Creosote oil क्रियोसोट तेल</p> <p>A2 : Zinc chloride जिंक क्लोराइड</p> <p>A3 : Sheathing शीथिंग</p> <p>A4 : Sodium fluoride सोडियम फ्लोराइड</p> | 2.0 | 0.00 |
| Trade Theory | | | | |
| 18 | 18 | <p>Which glue is prepared from the mixture of skin, bone and acid? त्वचा, हड्डी और एसिड के मिश्रण से कौन सा गोंद तैयार किया जाता है?</p> <p>A1 : Animal Glue एनिमल ग्लू</p> <p>A2 : Casein Glue केसिइन गोंद</p> <p>A3 : Resin Glue राल गोंद</p> <p>A4 : Vegetable Glue वनस्पति गोंद</p> | 2.0 | 0.00 |
| Trade Theory | | | | |
| 19 | 19 | <p>What is the name of the joint shown in the figure? आकृति में दिखाए गए जोइंट का नाम क्या है?</p>  <p>A1 : Single dovetail सिंगल डवटेल</p> <p>A2 : Common dovetail कॉमन डवटेल</p> <p>A3 : Lapped dovetail लैप्ड डवटेल</p> <p>A4 : Secret dovetail सीक्रेट डवटेल</p> | 2.0 | 0.00 |

| Trade Theory | | | | |
|--------------|----|---|-----|------|
| 20 | 20 | <p>What is the advantage of seasoning of timber?</p> <p>टिम्बर के संशोषण का क्या लाभ है?</p> <p>A1 : Improve volume</p> <p>मात्रा में सुधार</p> <p>A2 : Improve colour</p> <p>रंग में सुधार</p> <p>A3 : Improve strength</p> <p>सामर्थ्य बढ़ाना</p> <p>A4 : Improve grains</p> <p>रेशों में सुधार</p> | 2.0 | 0.00 |
| Trade Theory | | | | |
| 21 | 21 | <p>Which is a property of timber is used for sports goods and wooden floors?</p> <p>टिम्बर का कौन सा गुण खेल के सामान और लकड़ी के फर्श के लिए उपयोग किया जाता है?</p> <p>A1 : Elasticity</p> <p>प्रत्यास्थता</p> <p>A2 : Toughness</p> <p>चीमड़पन</p> <p>A3 : Fire resistance</p> <p>अग्नि प्रतिरोध</p> <p>A4 : Weather resistance</p> <p>मौसम प्रतिरोध</p> | 2.0 | 0.00 |
| Trade Theory | | | | |
| 22 | 22 | <p>Which joint is used for increased width?</p> <p>चौड़ाई बढ़ाने के लिए किस जॉइंट का उपयोग किया जाता है?</p> <p>A1 : Framing joint</p> <p>फ्रेमिंग जॉइंट</p> <p>A2 : Box joint</p> <p>बॉक्स जॉइंट</p> <p>A3 : Widening joint</p> <p>वाइडनिंग जॉइंट</p> <p>A4 : Lengthening joint</p> <p>जॉइंट को लंबा करना</p> | 2.0 | 0.00 |
| Trade Theory | | | | |
| 23 | 23 | <p>Which joint is used for the corners of picture frames?</p> <p>तस्वीर के फ्रेम के कोनों के लिए किस जॉइंट का उपयोग किया जाता है?</p> <p>A1 : Mitre joints</p> <p>मिटर जॉइंट</p> <p>A2 : Halving joints</p> <p>हॉल्विंग जॉइंट</p> <p>A3 : Circular joints</p> <p>सर्कुलर जॉइंट</p> <p>A4 : Dowel joints</p> <p>डॉवेल जॉइंट</p> | 2.0 | 0.00 |
| Trade Theory | | | | |
| 24 | 24 | <p>What is the use of zinc chloride preservative?</p> | 2.0 | 0.00 |

| | | | | |
|--------------|----|---|-----|------|
| | | <p>जिक क्लोराइड परिरक्षक का क्या उपयोग है?</p> <p>A1 : Good appearance अच्छा रूप</p> <p>A2 : Improve volume वॉल्यूम सुधारना</p> <p>A3 : Maintain the shape आकार बनाए रखना</p> <p>A4 : Used against fungi कवक के खिलाफ इस्तेमाल किया जाता है</p> | | |
| Trade Theory | | | | |
| 25 | 25 | <p>What is the advantage of creosote oil preservative? क्रेओसोट तेल परिरक्षक का क्या लाभ है?</p> <p>A1 : Easy to apply लागू करने में आसान</p> <p>A2 : Charring चारिंग</p> <p>A3 : Sheathing शीथिंग</p> <p>A4 : Evaporates वाष्पित हो जाता है</p> | 2.0 | 0.00 |
| Trade Theory | | | | |
| 26 | 26 | <p>What is the marking for the angle shown in the figure? चित्र में दिखाए गए एंगल के लिए मार्किंग क्या है?</p>  <p>A1 : Mitre angle मिटर एंगल</p> <p>A2 : Bevel angle बेवल एंगल</p> <p>A3 : Teeth angle टीथ एंगल</p> <p>A4 : Dovetail angle डोवेटेल एंगल</p> | 2.0 | 0.00 |
| Trade Theory | | | | |
| 27 | 27 | <p>What is the result of reheating the animal glue? जानवरों के गोंद को दोबारा गर्म करने का क्या नतीजा होता है?</p> <p>A1 : Losses strength सामर्थ्य कम होती है</p> <p>A2 : Increase strength सामर्थ्य बढ़ाना</p> | 2.0 | 0.00 |

| | | | | |
|--------------|----|--|-----|------|
| | | A3 : Increase quantity मात्रा बढ़ाना A4 : Decrease quantity मात्रा घटाना | | |
| Trade Theory | | | | |
| 28 | 28 | What is the advantage of adhesives? एडहेसिव का क्या फ़ायदा है? A1 : Improving the hardness कठोरता में सुधार A2 : Improving the volume वॉल्यूम में सुधार A3 : Reduces weight वजन घटाना A4 : Improving the strength in joint जोड़ में मजबूती बढ़ाना | 2.0 | 0.00 |
| Trade Theory | | | | |
| 29 | 29 | What is the use of lengthening joints? लेंथेनिंग जॉइन्ट का क्या उपयोग है? A1 : Tool handle टूल हैंडल A2 : Knob नॉब A3 : Railways sleeper रेलवे स्लीपर A4 : Building work निर्माण कार्य | 2.0 | 0.00 |
| Trade Theory | | | | |
| 30 | 30 | Which joint is used for building beams? बिल्डिंग बीम के लिए किस जॉइन्ट का उपयोग किया जाता है? A1 : Lengthening joint लेंथेनिंग जॉइन्ट A2 : Widening joint वाइडनिंग जॉइन्ट A3 : Framing joint फ्रेमिंग जॉइन्ट A4 : Box joint बॉक्स जॉइन्ट | 2.0 | 0.00 |
| Trade Theory | | | | |
| 31 | 31 | Where the screws are driven in a bevel scarf joints? बेवल स्कार्फ़ जॉइन्ट में स्कू कहाँ लगाए जाते हैं? A1 : Centre surface केंद्र की सतह A2 : Top surface ऊपरी सतह A3 : Bottom surface | 2.0 | 0.00 |

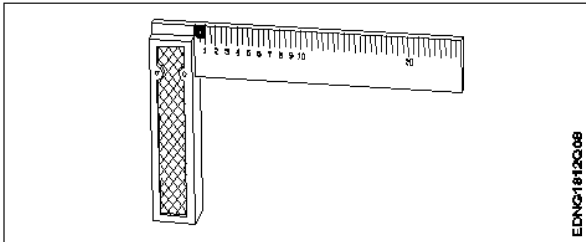
| | | | | |
|--------------|----|---|-----|------|
| | | नीचे की सतह A4 : Top and bottom surfaces ऊपर और नीचे की सतह | | |
| Trade Theory | | | | |
| 32 | 32 | What is the use of table scarf joint? टेबल स्कार्फ जॉइंट का क्या उपयोग है? A1 : To increase length लंबाई बढ़ाने के लिए A2 : To increase width चौड़ाई बढ़ाने के लिए A3 : To increase thickness मोटाई बढ़ाने के लिए A4 : To increase volume आयतन बढ़ाने के लिए | 2.0 | 0.00 |
| Trade Theory | | | | |
| 33 | 33 | Which is a water solution preservative? पानी के घोल वाला परिरक्षक कौन सा है? A1 : Tar टार A2 : Creosote oil क्रियोसोट तेल A3 : Kerosene केरोसिन A4 : Zinc chloride जिंक क्लोराइड | 2.0 | 0.00 |
| Trade Theory | | | | |
| 34 | 34 | Which is the property for good timber? अच्छी टिम्बर के लिए कौन सा गुण है? A1 : Fine texture बारीक बनावट A2 : Abnormal growth असामान्य वृद्धि A3 : Cross grain क्रॉस ग्रेन A4 : Light in colour हल्का रंग | 2.0 | 0.00 |
| Trade Theory | | | | |
| 35 | 35 | Which wood is used for timber work? टिम्बर के काम के लिए किस लकड़ी का उपयोग किया जाता है? A1 : Seasoning wood लकड़ी का संशोधन A2 : Moisture wood नमीयुक्त लकड़ी A3 : Shrinkage wood सिकुड़ने वाली लकड़ी | 2.0 | 0.00 |

| | | | | |
|------------------------------|----|--|-----|------|
| | | A4 : Defect wood दोषपूर्ण लकड़ी | | |
| Trade Theory | | | | |
| 36 | 36 | Which joint is used for joining end to end pieces? सिरों से सिरों तक के टुकड़ों को जोड़ने के लिए किस जॉइंट का उपयोग किया जाता है? A1 : Widening joints वाइडनिंग जॉइंट्स A2 : Framing joints फ्रेमिंग जॉइंट्स A3 : Housing joints हाउसिंग जॉइंट्स A4 : Lengthening joints लेंथनिंग जॉइंट्स | 2.0 | 0.00 |
| Trade Theory | | | | |
| 37 | 37 | What is the use of white arsenic preservative? सफ़ेद आर्सेनिक परिरक्षक का क्या उपयोग है? A1 : Very effective against termites दीमक के खिलाफ बहुत प्रभावी A2 : Easy evaporate quickly जल्दी से वाष्पित होना A3 : Less effective against termites दीमक के विरुद्ध कम प्रभावी A4 : Use less quantity of timber टिम्बर की कम मात्रा का उपयोग करना | 2.0 | 0.00 |
| Trade Theory | | | | |
| 38 | 38 | Which glue is strong bond and water proof? कौन सा गोंद मज़बूत बंधन और जलरोधक है? A1 : Animal Glue पशु गोंद A2 : Casein Glue कैसीन गोंद A3 : Resin Glue राल गोंद A4 : Blood albumen Glue रक्त एल्बुमिन गोंद | 2.0 | 0.00 |
| Workshop Calculation Science | | | | |
| 39 | 39 | What is termed as the quantity of matter contained in a body? वस्तु में निहित पदार्थ की मात्रा को क्या कहा जाता है? A1 : Density घनत्व A2 : Volume आयतन A3 : Mass द्रव्यमान A4 : Specific gravity | 2.0 | 0.00 |


| | | | | |
|----|----|--|-----|------|
| | | विशिष्ट गुरुत्व | | |
| | | Workshop Calculation Science | | |
| 40 | 40 | <p>What is called mass per unit volume of a substances? किसी पदार्थ के द्रव्यमान प्रति इकाई आयतन को क्या कहते हैं?</p> <p>A1 : Mass द्रव्यमान</p> <p>A2 : Weight भार</p> <p>A3 : Density घनत्व</p> <p>A4 : Volume आयतन</p> | 2.0 | 0.00 |
| | | Workshop Calculation Science | | |
| 41 | 41 | <p>What is the density of aluminium? एल्यूमीनियम का घनत्व कितना होता है?</p> <p>A1 : 2.7 g/cm³ 2.7 g/cm³</p> <p>A2 : 3.7 g/cm³ 3.7 g/cm³</p> <p>A3 : 4.7 g/cm³ 4.7 g/cm³</p> <p>A4 : 5.7 g/cm³ 5.7 g/cm³</p> | 2.0 | 0.00 |
| | | Workshop Calculation Science | | |
| 42 | 42 | <p>What is the area of a rectangle, whose length and breadth are 10cm and 8cm respectively? एक आयत का क्षेत्रफल क्या होगा, जिसकी लम्बाई एवं चौड़ाई क्रमशः 10 से.मी. एवं 8 से.मी. हैं?</p> <p>A1 : 75 cm² 75 cm²</p> <p>A2 : 80 cm² 80 cm²</p> <p>A3 : 85 cm² 85 cm²</p> <p>A4 : 90 cm² 90 cm²</p> | 2.0 | 0.00 |
| | | Workshop Calculation Science | | |
| 43 | 43 | <p>What is the primeter of scalene. Triangle having sides of 40mm, 20mm and 28mm? उस विषमभुज त्रिकोण का परिमाप क्या होगा, जिसकी भुजाओं की माप 40 मिमी, 20 मिमी व 28 मिमी है?</p> <p>A1 : 68 mm 68 mm</p> <p>A2 : 78 mm 78 mm</p> <p>A3 : 88 mm 88 mm</p> <p>A4 : 98 mm 98 mm</p> | 2.0 | 0.00 |
| | | Workshop Calculation Science | | |

| | | | | |
|----|----|---|-----|------|
| 44 | 44 | <p>What is the volume of a rectangular tank of 30 m length, 20m width and 10m height? एक आयताकार टैंक, जिसकी लम्बाई 30 मी, चौड़ाई 20 मी एवं ऊँचाई 10 मी है, का आयतन क्या है?</p> <p>A1 : 5900 m³ 5900 m³</p> <p>A2 : 6000 m³ 6000 m³</p> <p>A3 : 6100 m³ 6100 m³</p> <p>A4 : 6200 m³ 6200 m³</p> | 2.0 | 0.00 |
|----|----|---|-----|------|

Engineering Drawing

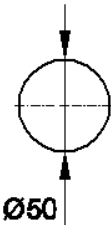
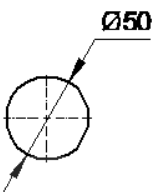

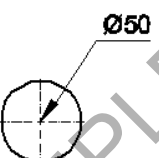
| | | | | |
|----|----|--|-----|------|
| 45 | 45 | <p>Identify the name of tool? उपकरण का नाम पहचानें?</p>  <p>A1 : Try square बढ़ई की गुनिया</p> <p>A2 : Surface gauge सतह नापने का यंत्र</p> <p>A3 : Steel rule स्टील रूल</p> <p>A4 : Feeler gauge फ़ीलर गोज़</p> | 2.0 | 0.00 |
|----|----|--|-----|------|

Engineering Drawing

| | | | | |
|----|----|---|-----|------|
| 46 | 46 | <p>Identify the name of tool? उपकरण का नाम पहचानें?</p>  <p>A1 : Ball pein hammer बॉल पीन हैमर</p> <p>A2 : Cross pein hammer क्रॉस पीन हैमर</p> <p>A3 : Straight pein hammer सीधे पीन हथौड़ा</p> <p>A4 : Sledge hammer स्लेज हैमर</p> | 2.0 | 0.00 |
|----|----|---|-----|------|

Engineering Drawing

| | | | | |
|---------------------|----|---|-----|------|
| 47 | 47 | <p>Identify the name of tool?</p> <p>उपकरण का नाम पहचानें?</p> <div data-bbox="260 161 863 347" data-label="Image"> </div> <p>A1 : Hawk-billed shear हॉक-बिल शीयर</p> <p>A2 : Aviation shear उड्डयन कतरनी</p> <p>A3 : Cutting plier काटने वाला सरौता</p> <p>A4 : Double cutting shear डबल काटने कतरनी</p> | 2.0 | 0.00 |
| Engineering Drawing | | | | |
| 48 | 48 | <p>Identify the name of tool?</p> <p>उपकरण का नाम पहचानें?</p> <div data-bbox="260 900 863 1149" data-label="Image"> </div> <p>A1 : Ball pein hammer बॉल पीन हैमर</p> <p>A2 : Mallet लकड़ी का हथौड़ा</p> <p>A3 : Cross pein hammer क्रॉस पीन हैमर</p> <p>A4 : Staright pein hammer स्ट्रेट पीन हैमर</p> | 2.0 | 0.00 |
| Engineering Drawing | | | | |
| 49 | 49 | <p>Identify the name of tool?</p> <p>उपकरण का नाम पहचानें?</p> <div data-bbox="260 1697 863 1883" data-label="Image"> </div> <p>A1 : Open end spanner ओपन एंड स्पैनर</p> <p>A2 : Ring spanner गोल पाना</p> | 2.0 | 0.00 |

| | | | | |
|----------------------|----|--|-----|------|
| | | A3 : Combination spanner संयोजन स्पैनर A4 : Adjustable spanner समायोज्य औजार | | |
| Engineering Drawing | | | | |
| 50 | 50 | <p>Which dimension correctly marked in the circle as per standard? मानक के अनुसार सर्कल में कौन सा आयाम सही ढंग से चिह्नित है?</p> <p>A1 :</p>  <p>A2 :</p>  <p>A3 :</p>  <p>A4 :</p>  | 2.0 | 0.00 |
| Employability Skills | | | | |
| 51 | 51 | <p>Which one of the following is a good office etiquette? निम्नलिखित में से कौन सा एक अच्छा कार्यालय शिष्टाचार है?</p> <p>A1 : One should dress formally एक को औपचारिक रूप से पोशाक पहननी चाहिए</p> <p>A2 : One should not be punctual to work काम के लिए समय का पाबंद नहीं होना चाहिए</p> <p>A3 : One should have fancy mobile ring tone एक के पास फैसी मोबाइल रिंग टोन होना चाहिए</p> <p>A4 : One should litter one's work place व्यक्ति को अपने काम के स्थान पर कूड़ा डालना चाहिए</p> | 2.0 | 0.00 |
| Employability Skills | | | | |
| 52 | 52 | <p>Word that is pronounced the same as another word but differs in meaning is called _____ वह शब्द जो किसी दूसरे शब्द के समान होता है, लेकिन अर्थ में भिन्न होता है, जिसे _____ कहा जाता है</p> | 2.0 | 0.00 |

| | | | | |
|----------------------|----|---|-----|------|
| | | <p>A1 : homophone होमोफोन</p> <p>A2 : homograph होमोग्रफ़</p> <p>A3 : diphthong संयुक्त स्वर</p> <p>A4 : syllable शब्दांश</p> | | |
| Employability Skills | | | | |
| 53 | 53 | <p>_____ can help me learn English. मुझे अंग्रेजी सीखने में मदद कर सकता है।</p> <p>A1 : dedication निष्ठा</p> <p>A2 : fear डर</p> <p>A3 : anger क्रोध</p> <p>A4 : shyness शर्म</p> | 2.0 | 0.00 |
| Employability Skills | | | | |
| 54 | 54 | <p>Which punctuation mark should be used in the following sentence? Is there any site engineer here निम्नलिखित वाक्य में किस विराम चिह्न का प्रयोग किया जाना चाहिए? Is there any site engineer here</p> <p>A1 : ? (question mark) ? (question mark)</p> <p>A2 : , (comma) , (comma)</p> <p>A3 : . (full stop) . (full stop)</p> <p>A4 : ! (exclamation) ! (exclamation)</p> | 2.0 | 0.00 |
| Employability Skills | | | | |
| 55 | 55 | <p>When is capital letter used? बड़े अक्षर का प्रयोग कब किया जाता है?</p> <p>A1 : Beginning of a sentence एक वाक्य की शुरुआत</p> <p>A2 : Names of persons व्यक्तियों के नाम</p> <p>A3 : Names of places स्थानों के नाम</p> <p>A4 : All the above सब से ऊपर</p> | 2.0 | 0.00 |
| Employability Skills | | | | |
| 56 | 56 | <p>Which one of the following is a describing word? निम्नलिखित में से कौन-सा एक वर्णनात्मक शब्द है?</p> | 2.0 | 0.00 |

| | | | | |
|----------------------|----|--|-----|------|
| | | <p>A1 : eat खाना खा लो</p> <p>A2 : repair मरम्मत</p> <p>A3 : hot गरम</p> <p>A4 : soup शोरबा</p> | | |
| Employability Skills | | | | |
| 57 | 57 | <p>When someone says 'Thank you' we should reply and say _____. जब कोई 'Thank you (धन्यवाद)' कहता है तो हमें जवाब देना चाहिए और _____ कहना चाहिए।</p> <p>A1 : Thank you. शुक्रिया</p> <p>A2 : You're welcome. आपका स्वागत है</p> <p>A3 : Bye-bye बाई-बाई</p> <p>A4 : How are you? आप कैसे हैं?</p> | 2.0 | 0.00 |
| Employability Skills | | | | |
| 58 | 58 | <p>Choose the odd word. odd (विषम) शब्द चुनें।</p> <p>A1 : please please</p> <p>A2 : sorry sorry</p> <p>A3 : paper paper</p> <p>A4 : thanks thanks</p> | 2.0 | 0.00 |
| Employability Skills | | | | |
| 59 | 59 | <p>I am a welder. I work with _____. मैं एक वेल्डर हूँ। मैं _____ साथ कार्य करता हूँ।</p> <p>A1 : nail polish नेल पॉलिश</p> <p>A2 : robots रोबोटों</p> <p>A3 : welding tools वेल्डिंग उपकरण</p> <p>A4 : laptops लैपटॉप</p> | 2.0 | 0.00 |
| Employability Skills | | | | |
| 60 | 60 | <p>Today's weather is going to be _____. आज का मौसम _____ होने जा रहा है।</p> <p>A1 : Hopeful</p> | 2.0 | 0.00 |

| | | | | |
|----------------------|----|--|-----|------|
| | | आशापूर्ण A2 Warm : गरम A3 Blue : नीला A4 Urgent : बहुत ज़रूरी | | |
| Employability Skills | | | | |
| 61 | 61 | The word 'when' denotes _____ शब्द 'when (जब)' _____ को दर्शाता है A1 place : स्थान A2 thing : चीज़ A3 person : व्यक्ति A4 time : समय | 2.0 | 0.00 |
| Employability Skills | | | | |
| 62 | 62 | Rahul enjoys _____ with his pet dog. राहुल को अपने पालतू कुत्ते के साथ _____ में मजा आता है। A1 playing : खेलने A2 writing : लिखने A3 doing : करने A4 washing : धुलाने | 2.0 | 0.00 |
| Employability Skills | | | | |
| 63 | 63 | Having a clear idea of our personality including strengths, weaknesses, thoughts, beliefs, motivation, values etc is called _____. हमारे व्यक्तित्व का स्पष्ट विचार रखने को ताकत, कमजोरियों, विचारों, विश्वासों, प्रेरणा, मूल्यों आदि सहित को _____ कहा जाता है। A1 Belief : विश्वास A2 Self Awareness : आत्म जागरूकता A3 Myth : मिथ A4 Threat : धमकी | 2.0 | 0.00 |
| Employability Skills | | | | |
| 64 | 64 | _____ are the abilities and qualities you have as a person that helps you grow well in life and career. _____ एक व्यक्ति के रूप में आपके पास मौजूद क्षमताएं और गुण हैं जो आपको जीवन और करियर में अच्छी तरह से बढ़ने में मदद करते हैं। A1 Personal Strengths | 2.0 | 0.00 |

| | | | | |
|----------------------|----|--|-----|------|
| | | <p>व्यक्तिगत ताक़त</p> <p>A2 : Personal weaknesses</p> <p>व्यक्तिगत कमजोरियाँ</p> <p>A3 : Opportunities</p> <p>मौके</p> <p>A4 : Threats</p> <p>धमकी</p> | | |
| Employability Skills | | | | |
| 65 | 65 | <p>_____ are the qualities that are considered negative, and need to be worked on.</p> <p>_____ ऐसे गुण हैं जिन्हें नकारात्मक माना जाता है और जिन पर काम करने की आवश्यकता है।</p> <p>A1 : Personal Strengths</p> <p>व्यक्तिगत ताक़त</p> <p>A2 : Personal weaknesses</p> <p>व्यक्तिगत कमजोरियाँ</p> <p>A3 : Opportunities</p> <p>मौके</p> <p>A4 : Threats</p> <p>धमकी</p> | 2.0 | 0.00 |
| Employability Skills | | | | |
| 66 | 66 | <p>Which of the following is an example of personal weakness?</p> <p>व्यक्तिगत कमजोरी का उदाहरण निम्नलिखित में से कौन सी है?</p> <p>A1 : Confidence</p> <p>आत्मविश्वास</p> <p>A2 : Being lazy</p> <p>आलसी होना</p> <p>A3 : Hard working</p> <p>मेहनती</p> <p>A4 : Active</p> <p>सक्रिय</p> | 2.0 | 0.00 |
| Employability Skills | | | | |
| 67 | 67 | <p>Goals are of 2 types _____</p> <p>लक्ष्य 2 प्रकार के होते हैं: _____</p> <p>A1 : Good and bad goals</p> <p>अच्छे और बुरे लक्ष्य</p> <p>A2 : Long-term and short-term goals</p> <p>दीर्घकालिक और अल्पकालिक लक्ष्य</p> <p>A3 : Rich and poor goals</p> <p>अमीर और गरीब लक्ष्य</p> <p>A4 : Fixed-term and non-fixed term goals</p> <p>निश्चित अवधि और गैर-निश्चित अवधि के लक्ष्य</p> | 2.0 | 0.00 |
| Employability Skills | | | | |
| 68 | 68 | <p>What is stress?</p> <p>तनाव क्या है?</p> <p>A1 : Feeling of joy</p> <p>आनंद की अनुभूति</p> | 2.0 | 0.00 |

| | | | | |
|----------------------|----|--|-----|------|
| | | <p>A2 : Feeling of surprise आश्चर्य की अनुभूति</p> <p>A3 : Feeling of delight आनंद की अनुभूति</p> <p>A4 : Feeling of frustration / disappointment निराशा / निराशा की भावना</p> | | |
| Employability Skills | | | | |
| 69 | 69 | <p>Which of these is a sign of good stress? अच्छे तनाव का संकेत इनमें से कौन सा है?</p> <p>A1 : It prevents you from pursuing your goals. यह आपको अपने लक्ष्यों का पीछा करने से रोकता है।</p> <p>A2 : It makes you doubt yourself. यह आपको खुद पर शक करता है।</p> <p>A3 : Does not lead to long-term tension, loss of sleep. लंबे समय तक तनाव, नींद की कमी नहीं होती है।</p> <p>A4 : Makes you physically ill or causes pain. आपको शारीरिक रूप से बीमार बनाता है या दर्द का कारण बनता है।</p> | 2.0 | 0.00 |
| Employability Skills | | | | |
| 70 | 70 | <p>An activity that stops or reduces stress is called a stress buster. Which of the following according to you is not a stress buster? एक गतिविधि जो तनाव को रोकती है या कम करती है उसे स्ट्रेस बस्टर कहा जाता है। आपके अनुसार निम्नलिखित में से कौन एक स्ट्रेस बस्टर नहीं है?</p> <p>A1 : Spending long hours thinking about the problem. लंबे समय तक समस्या के बारे में सोचते रहना।</p> <p>A2 : Going to bed on time. समय पर बिस्तर जाना</p> <p>A3 : Listening to music. संगीत सुनना</p> <p>A4 : Gardening बागवानी</p> | 2.0 | 0.00 |
| Employability Skills | | | | |
| 71 | 71 | <p>What is mindfulness? माइंडफुलनेस क्या है?</p> <p>A1 : It is the technique of not minding anything. यह किसी भी चीज पर ध्यान न देने की तकनीक है।</p> <p>A2 : It is about sharpening your brain. यह आपके दिमाग को तेज करने के बारे में है।</p> <p>A3 : It is the ability to be fully present in a moment. यह एक पल में पूरी तरह से उपस्थित होने की क्षमता है।</p> <p>A4 : It is the word used to describe people who are full of thoughts. यह उन लोगों का वर्णन करने के लिए इस्तेमाल किया जाने वाला शब्द है जो विचारों से भरे हुए हैं।</p> | 2.0 | 0.00 |
| Employability Skills | | | | |
| 72 | 72 | <p>Which of the following is true about stress? तनाव के बारे में सही निम्नलिखित में से कौन सी है?</p> <p>A1 : Stress can be managed तनाव को प्रबंधित किया जा सकता है</p> | 2.0 | 0.00 |

| | | | | |
|----------------------|----|--|-----|------|
| | | <p>A2 : Stress cannot be controlled तनाव को नियंत्रित नहीं किया जा सकता</p> <p>A3 : Stress can not be decreased तनाव कम नहीं हो सकता</p> <p>A4 : All of the above ऊपर के सभी</p> | | |
| Employability Skills | | | | |
| 73 | 73 | <p>Which of the following statements is true? निम्नलिखित में से कौन से वास्तविक विवरण सत्य हैं?</p> <p>A1 : Only experts can solve any problem किसी भी समस्या का समाधान केवल विशेषज्ञ ही कर सकते हैं</p> <p>A2 : The more problems you solve, the better you will get at problem solving! आप जितनी अधिक समस्याओं का समाधान करेंगे, समस्या को सुलझाने में आप उतने ही बेहतर होंगे!</p> <p>A3 : We need to pursue a course to even solve a simple problem हमें एक साधारण समस्या को हल करने के लिए भी एक कोर्स करने की आवश्यकता है</p> <p>A4 : It is not important to solve any problem किसी भी समस्या का समाधान जरूरी नहीं है</p> | 2.0 | 0.00 |
| Employability Skills | | | | |
| 74 | 74 | <p>Which of these should be considered while making decisions? निर्णय लेते समय इनमें से किस पर विचार किया जाना चाहिए?</p> <p>A1 : Your mood तुम्हारा मिज़ाज</p> <p>A2 : The choices of your friends आपके दोस्तों की पसंद</p> <p>A3 : The rules of your community आपके समुदाय के नियम</p> <p>A4 : Your personal priorities. आपकी व्यक्तिगत प्राथमिकताएं।</p> | 2.0 | 0.00 |
| Employability Skills | | | | |
| 75 | 75 | <p>Which of these is the full form of SWOT? इनमें से कौन SWOT का पूर्ण रूप है?</p> <p>A1 : Special Wellness Organization Theme Special Wellness Organization Theme</p> <p>A2 : Speak Work Openly Together Speak Work Openly Together</p> <p>A3 : Strong World Olympic Team Strong World Olympic Team</p> <p>A4 : Strength Weakness Opportunity Threat Strength Weakness Opportunity Threat</p> | 2.0 | 0.00 |

Wood Work Technician - 1 Year - Set 3

| S.No. | Correct Answer Key |
|-------|--------------------|
| 1 | A1 |
| 2 | A1 |
| 3 | A2 |
| 4 | A3 |
| 5 | A2 |
| 6 | A1 |
| 7 | A2 |
| 8 | A2 |
| 9 | A4 |
| 10 | A1 |
| 11 | A2 |
| 12 | A1 |
| 13 | A2 |
| 14 | A2 |
| 15 | A4 |
| 16 | A1 |
| 17 | A1 |
| 18 | A1 |
| 19 | A3 |
| 20 | A3 |
| 21 | A1 |
| 22 | A3 |
| 23 | A1 |
| 24 | A4 |
| 25 | A1 |
| 26 | A4 |
| 27 | A1 |
| 28 | A3 |
| 29 | A4 |
| 30 | A1 |
| 31 | A4 |
| 32 | A1 |
| 33 | A4 |
| 34 | A1 |
| 35 | A1 |
| 36 | A4 |
| 37 | A1 |
| 38 | A4 |

| S.No. | Correct Answer Key |
|-------|--------------------|
| 39 | A3 |
| 40 | A3 |
| 41 | A1 |
| 42 | A2 |
| 43 | A3 |
| 44 | A2 |
| 45 | A1 |
| 46 | A1 |
| 47 | A3 |
| 48 | A2 |
| 49 | A1 |
| 50 | A2 |
| 51 | A1 |
| 52 | A1 |
| 53 | A1 |
| 54 | A1 |
| 55 | A4 |
| 56 | A3 |
| 57 | A2 |
| 58 | A3 |
| 59 | A3 |
| 60 | A2 |
| 61 | A4 |
| 62 | A1 |
| 63 | A2 |
| 64 | A1 |
| 65 | A2 |
| 66 | A2 |
| 67 | A2 |
| 68 | A4 |
| 69 | A3 |
| 70 | A1 |
| 71 | A3 |
| 72 | A1 |
| 73 | A2 |
| 74 | A4 |
| 75 | A4 |

Note:

"In case answers found to be inaccurate due to typographical error or any other reason please sent mail to qbnimigrievance@gmail.com"